

درس کتابخانه ی کلاس ما


۱- متن درس را بخوان و با کلمه که نشانه ی (ت) دارند را بنویس.



۲- کلمات زیر را مانند نمونه با "هم" بنویس و با هر کدام جمله بساز.

فکری  _____

کلاسی  _____

گروهی  _____

۳- جملات زیر را کامل کنید و در پایان علامت مناسب بگذار.

آیا همه نوشته در رایانه، کتاب ها و مجله ها برای شما _____

کتاب خود را هم مانند دوست خوب پس از همفکری و مشورت
با بزرگترها _____

۴- با استفاده از کلمات روبرو جمله های زیر را کامل کنید.

پرنندگان

آموزگار در _____ ایستاده بود.

دوست
خوب

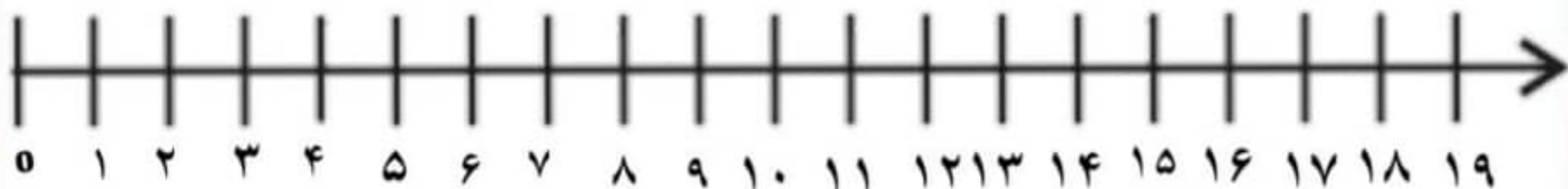
کلاس

صدای _____ به گوش می رسید.

کتاب خوب مانند _____ است.

باز خورد.....

تفریق زیر را از راه محور به دست آورید.



$$15 - 7 = \underline{\quad}$$



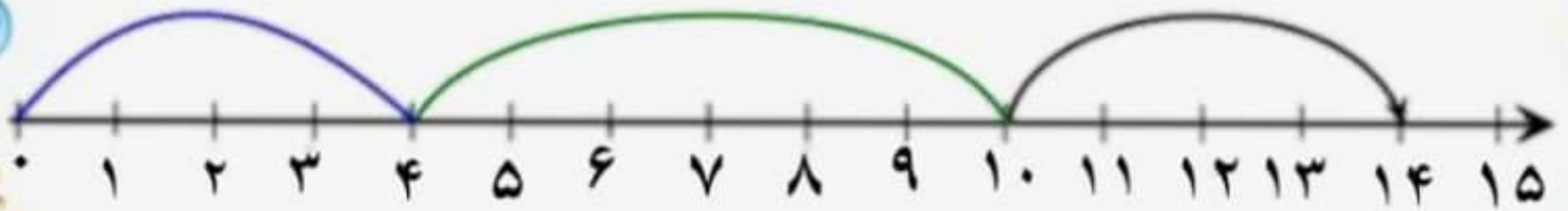
جمع زیر را از راه محور به دست آورید.



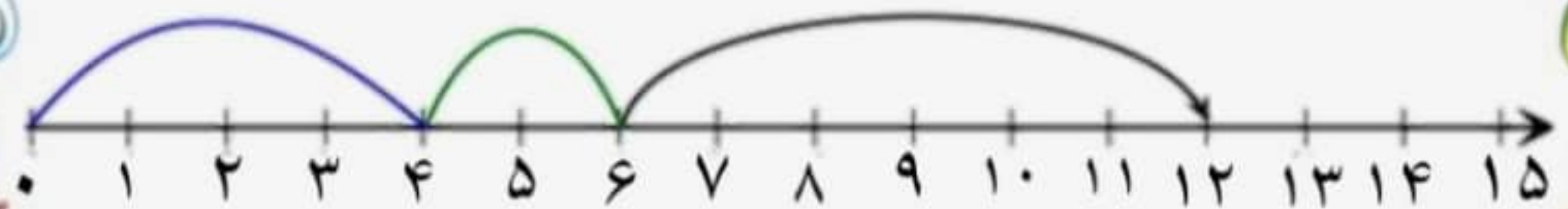
$$5 + 7 + 6 = \underline{\quad}$$



عزیزم حاصل جمع های زیر را از راه محور بدست آورید.



$$\boxed{} + \boxed{} + \boxed{} = \boxed{}$$



$$\boxed{} + \boxed{} + \boxed{} = \boxed{}$$




در یک ساختمان هر طبقه ۳ واحد آپارتمان دارد.

دو طبقه چند واحد آپارتمان دارد؟.....

سه طبقه چند واحد آپارتمان دارد؟.....

چهار طبقه چند واحد آپارتمان دارد؟.....

پنج طبقه چند واحد آپارتمان دارد؟.....



باتوجه به شکل بالا الگوی عددی را کامل کن.

۳، ۶ ، ، ، ، ، .