



کار در کلاس

۱- مانند نمونه جواب جمع و تفریق‌ها را حساب کنید.

$$۳ + ۵ = ۸$$

$$۴ - ۳ = ۱$$

$$۶ - ۵ = ۱$$

$$۳۰ + ۵۰ = ۸۰$$

$$۴۰ - ۳۰ = ۱۰$$

$$۶۰ - ۵۰ = ۱۰$$

$$۳ + ۵ = ۸$$

$$۴ - ۳ = ۱$$

$$۶ - ۵ = ۱$$

دهتایی

دهتایی

دهتایی

دهتایی

دهتایی


دهتایی

دهتایی

دهتایی

دهتایی

۲- شکل زیر را با استفاده از مداد رنگی به دسته‌های دهتایی تبدیل کنید. تعداد شکل‌ها را بنویسید.



۶۸

آیا شکل دسته‌های دهتایی شما مثل بقیه‌ی دوستانتان است؟ **خیر**

۱- مانند نمونه‌ها برای هر شکل یک جمع بنویسید.



$$۳ + ۴ = ۷$$



$$۵ + ۲ = ۷$$



$$۱ + ۴ = ۵$$

$$\begin{array}{r} ۳ \\ + ۴ \\ \hline ۷ \end{array}$$

$$\begin{array}{r} ۵ \\ + ۲ \\ \hline ۷ \end{array}$$

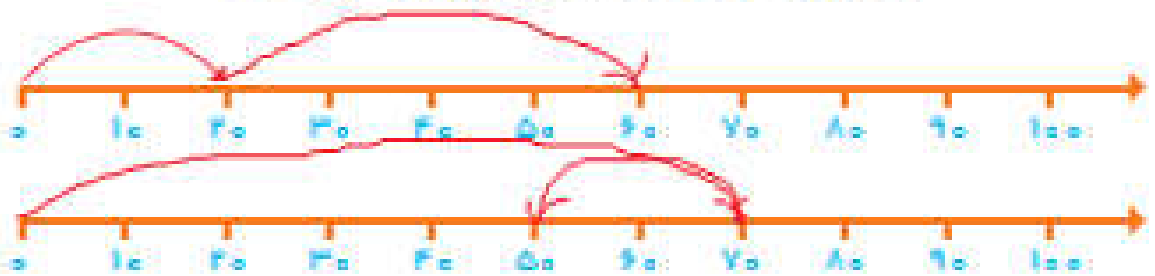
$$\begin{array}{r} ۱ \\ + ۴ \\ \hline ۵ \end{array}$$



فعالیت

۲- روی محور جواب جمع یا تفریق را نشان دهید.

$$\begin{array}{r} ۲۰ \\ + ۴۰ \\ \hline ۶۰ \\ ۷۰ \\ - ۲۰ \\ \hline ۵۰ \end{array}$$



۱- حاصل جمع و تفریق‌ها را بنویسید.

$$40 + 20 = 60$$

$$90 - 50 = 40$$

$$80 - 30 = 50$$

$$\begin{array}{r} 30 \\ + 50 \\ \hline 80 \end{array}$$

$$\begin{array}{r} 20 \\ + 10 \\ \hline 30 \end{array}$$

$$\begin{array}{r} 70 \\ - 20 \\ \hline 50 \end{array}$$

$$\begin{array}{r} 80 \\ - 50 \\ \hline 30 \end{array}$$



۲- جاهای خالی را کامل کنید و سپس مانند نمونه یک تساوی بنویسید.

۲ دسته ده‌تایی به اضافه ی ۳ دسته ده‌تایی می‌شود ۵ دسته ده‌تایی.

$$20 + 30 = 50 \text{ یعنی}$$

۷ دسته ده‌تایی منهای ۴ دسته ده‌تایی می‌شود ۳ دسته ده‌تایی.

$$70 - 40 = 30 \text{ یعنی}$$

۲ دسته ده‌تایی به اضافه ی ۴ دسته ده‌تایی می‌شود ۶ دسته ده‌تایی.

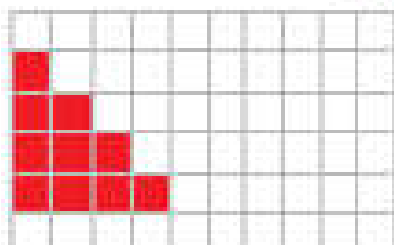
$$20 + 40 = 60 \text{ یعنی}$$

۸ دسته ده‌تایی منهای ۲ دسته ده‌تایی می‌شود ۶ دسته ده‌تایی.

$$80 - 20 = 60 \text{ یعنی}$$

۳- مانند نمونه با رنگ کردن ۱۰ تا خانه، شکل‌های مختلف بسازید. هر بار از یک

مقدار رنگی استفاده کنید. چند تا دسته ده‌تایی درست کردید؟



تقریب بزن

می‌خواهیم عدد ۳۲ را روی محور اعداد نشان دهیم.



می‌دانیم عدد ۳۲ بعد از عدد ۳۰ است. برای این که محل ۳۲ بهتر دیده شود، روی آن قسمت ذره‌بین گذاشته شده است. شما عدد ۳۲ را با علامت نشان دهید.

عددهای ۱۷، ۲۵ و ۳۲ را هم روی محور اعداد زیر نشان دهید.

