



۱- حاصل جمع و تفریق‌های زیر را با انگشتان خود به دست آورید.

| | |
|-------------|------------|
| $7 + 9 =$ | $88 + 5 =$ |
| $15 - 6 =$ | $90 - 4 =$ |
| $13 + 8 =$ | $64 + 9 =$ |
| $20 - 10 =$ | $51 - 7 =$ |

۲- حاصل جمع و تفریق‌های زیر را با رسم شکل به دست آورید.

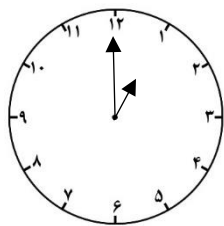
| عبارت جمع یا تفریق | شکل |
|--------------------|-----|
| $5 + 6 =$ | |
| $11 - 3 =$ | |
| $6 + 4 =$ | |
| $12 - 7 =$ | |

۳- حاصل جمع و تفریق‌های زیر را با استفاده از محور به دست آورید.

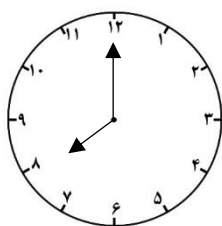
$16 - 8 = \dots\dots\dots$

$16 - 5 + 3 = \dots\dots\dots$

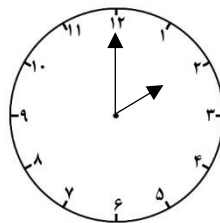
۵- ساعت چند است؟



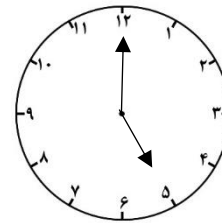
.....



.....

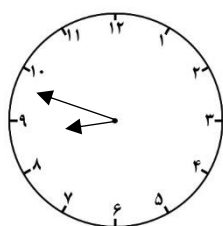


.....



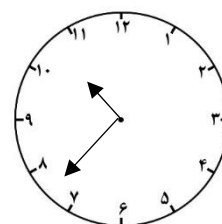
.....

۶- جاهای خالی را کامل کنید.



ساعت از گذشته و به ساعت مانده.

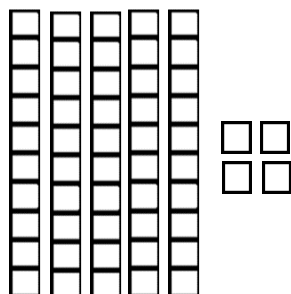
پس، ساعت، است.



ساعت از گذشته و به ساعت مانده.

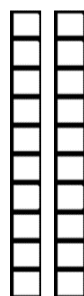
پس، ساعت، است.

۷- با توجه به شکل، جدول را کامل کنید.



| | |
|---------|-----|
| ده تایی | یکی |
| | |


به عدد: / به حروف:



| | |
|---------|-----|
| ده تایی | یکی |
| | |


به عدد: / به حروف:

۸- شکل‌ها را شمارش کنید و بسته‌های ۱۰ تایی درست کنید و سپس ، جدول را کامل کنید.




| | |
|---------|-----|
| ده تایی | یکی |
| | |

به عدد: / به حروف:



| | |
|---------|-----|
| ده تایی | یکی |
| | |

به عدد: / به حروف:



| | |
|---------|-----|
| ده تایی | یکی |
| | |

به عدد: / به حروف:

۹- عدد ۲۷ را با رسم شکل نشان دهید و جدول را کامل کنید.

| | |
|---------|-----|
| ده تایی | یکی |
| | |

به عدد: / به حروف:

۱۱- عددهای زیر را به عدد و به حروف بنویسید.

* رقم دهگان ۵ و رقم یکان ۳: /

* رقم یکان ۰ و رقم دهگان ۸: /

* رقم دهگان ۶ و رقم یکان ۲: /

۱۴- یک عدد دو رقمی بنویسید که رقم دهگان آن ۹ و رقم یکان آن ۶ تا کمتر از رقم دهگان آن باشد.

۱۵- یک عدد دو رقمی بنویسید که رقم دهگان آن ۵ و رقم یکان آن ۲ تا بیشتر از رقم دهگان آن باشد.

۱۶- حاصل جمع‌ها را به دست آورید.

$$۳۰ + ۱۰ + ۵ = \dots\dots\dots$$

$$۴۰ + ۲۰ + ۵ + ۳ = \dots\dots\dots$$

$$۱۰ + ۳ + ۱۰ + ۴ = \dots\dots\dots$$

$$۳۰ + ۷ + ۵ + ۵ + ۱۰ = \dots\dots\dots$$

$$۵ + ۳۰ + ۴ + ۱۰ + ۵ + ۶ = \dots\dots\dots$$

۱۷- جاهای خالی را کامل کنید و پاسخ مناسب دهید.

| |
|-------------------|
| + = ۶ |
| + = ۶ |
| + = ۶ |
| + = ۶ |
| + = ۶ |
| + = ۶ |
| + = ۶ |

| |
|-------------------|
| + = ۹ |
| + = ۹ |
| + = ۹ |
| + = ۹ |
| + = ۹ |
| + = ۹ |
| + = ۹ |
| + = ۹ |
| + = ۹ |
| + = ۹ |

۱۹- با رقم‌های ۰، ۶ هر چقدر می‌توانید، عدد دو رقمی بنویسید. (اعداد به دست آمده را به حروف هم بنویس.)

.....

.....

۲۰- با رقم‌های ۰، ۳ و ۸ هر چقدر می‌توانید، عدد دو رقمی بنویسید. (اعداد به دست آمده را به حروف هم بنویس.)

.....

.....

.....

۲۱- با کارت‌هایی که روی آنها اعداد $\boxed{۲}$ و $\boxed{۵}$ نوشته شده است ، چند عدد دو رقمی می‌توان نوشت؟
(اعداد به دست آمده را به حروف هم بنویس.)

.....
.....

۲۲- با کارت‌هایی که روی آنها اعداد $\boxed{۱}$ و $\boxed{۰}$ نوشته شده است ، چند عدد دو رقمی می‌توان نوشت؟
(عدد به دست آمده را به حروف هم بنویس.)

۲۵- الگوها را ادامه دهید.

.....،،، ۳۹ ، ۴۸ ، ۵۷ ،

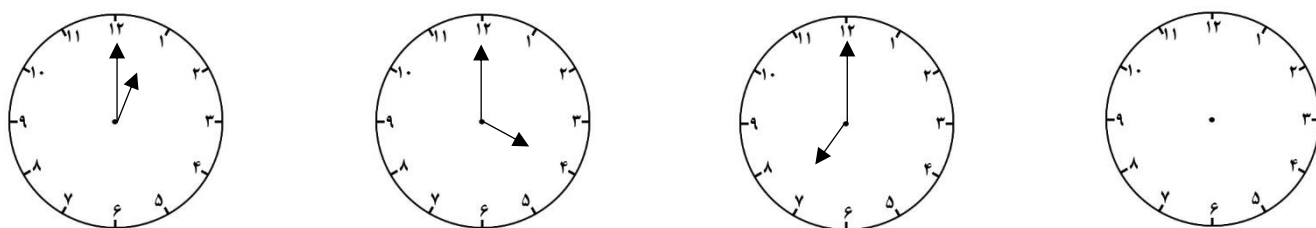
.....،،، ۲۵ ، ۲۸ ، ۳۱ ،

.....،،، ۸۳ ، ۸۷ ، ۹۱ ،

.....،، ۹۸ ، ۹۹ ، ۱۰۰ ،

.....،،، ۴۷ ، ۵۴ ، ۶۱ ،

.....،،، ۷۰ ، ۷۶ ، ۸۲ ،



۲۶- سارا ۹ کتاب داستان دارد. او ۴ کتاب داستان دیگر خرید. حالا سارا چند کتاب داستان دارد؟

.....

۲۷- علی ۱۲ مداد رنگی دارد. او ۶ مداد رنگی خود را به دوستش قرض داد. حالا علی چند مداد رنگی دارد؟

.....

.....

۲۸- مریم ۲۴ خودکار رنگی دارد. ۱۳ خودکار او سیاه هستند و بقیه‌ی خودکارهایش رنگی هستند. مریم ، چند خودکار رنگی دارد؟ (با رسم بسته‌های ده‌تایی و یکی ، مساله را حل کنید.

۳۰- با چینه، یک ساختمان ساخته‌ایم. هر طبقه‌ی این ساختمان با ۳ چینه ساخته شده است.

* ساختمان ۲ طبقه با چند چینه ساخته می‌شود؟

* ساختمان ۳ طبقه با چند چینه ساخته می‌شود؟

* ساختمان ۴ طبقه با چند چینه ساخته می‌شود؟

* ساختمان ۵ طبقه با چند چینه ساخته می‌شود؟

۳۲- با چینه، یک ساختمان ساخته‌ایم. هر طبقه‌ی این ساختمان با ۵ چینه ساخته شده است.

* ساختمان ۲ طبقه با چند چینه ساخته می‌شود؟

* ساختمان ۳ طبقه با چند چینه ساخته می‌شود؟

* ساختمان ۴ طبقه با چند چینه ساخته می‌شود؟

* ساختمان ۵ طبقه با چند چینه ساخته می‌شود؟

* ساختمان ۶ طبقه با چند چینه ساخته می‌شود؟

* ساختمان ۷ طبقه با چند چینه ساخته می‌شود؟

* ساختمان ۸ طبقه با چند چینه ساخته می‌شود؟

* ساختمان ۹ طبقه با چند چینه ساخته می‌شود؟

* ساختمان ۱۰ طبقه با چند چینه ساخته می‌شود؟