

۱. جمع و تفریق های زیر را به هر روشی که دوست دارید انجام دهید.

$30 + 50 =$

$80 - 50 =$


$40 + 40 =$

$90 - 70 =$


$70 + 10 =$

$40 - 10 =$

۲. برای شکل های زیر جمع و تفریق بنویسید.



+



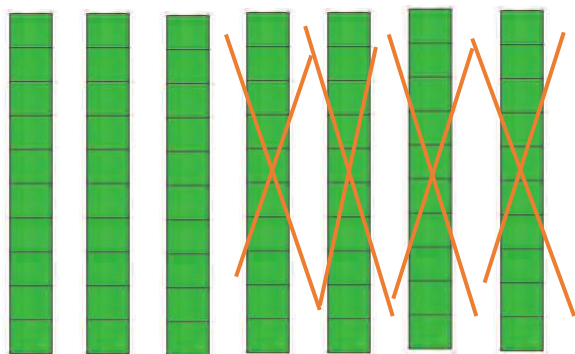
.....

+

.....

=

.....



..... - =