

ق
ا
ب



فصل ۱

۱۱ | ۱۹ ۵۸۳۹

عدد و رقم

به نام خداوند بخشنده و مهربان

دبستان و پیش دبستان علوی



آیا می‌دانید؟ در گذشته‌های خیلی دور انسان‌ها فقط می‌توانستند تا ۳ بشمارند. آن‌ها برای عددهای بیشتر از ۳ می‌گفتند خیلی. بعد از مدتی، عدد بعد از ۳ را می‌گفتند یکی بیشتر از ۳. تا بیشتر از ۳.۳ تا بیشتر از ۳ و هفت را می‌گفتند خیلی.



ریاضی صفحه ۲۲



۱- حاصل جمع و تفریق‌ها را بنویسید.

$$۴۰ + ۲۰ = ۶۰$$

$$۹۰ - ۵۰ = ۴۰$$

$$۸۰ - ۳۰ = ۵۰$$

$$\begin{array}{r} ۳۰ \\ + ۵۰ \\ \hline ۸۰ \end{array}$$

$$\begin{array}{r} ۲۰ \\ + ۱۰ \\ \hline ۳۰ \end{array}$$

$$\begin{array}{r} ۷۰ \\ - ۲۰ \\ \hline ۵۰ \end{array}$$

$$\begin{array}{r} ۸۰ \\ - ۵۰ \\ \hline ۳۰ \end{array}$$



۲- جاهای خالی را کامل کنید و سپس مانند نمونه یک تساوی بنویسید.

۲ دسته‌ی ده تایی به اضافه‌ی ۳ دسته‌ی ده تایی می‌شود ۵ دسته‌ی ده تایی.

$$۲۰ + ۳۰ = ۵۰ \text{ یعنی}$$

۷ دسته‌ی ده تایی منهای ۴ دسته‌ی ده تایی می‌شود ۳ دسته‌ی ده تایی.

$$۷۰ - ۴۰ = ۳۰ \text{ یعنی}$$


۲ دسته‌ی ده تایی به اضافه‌ی ۴ دسته‌ی ده تایی می‌شود ۶ دسته‌ی ده تایی.

$$۲۰ + ۴۰ = ۶۰ \text{ یعنی}$$

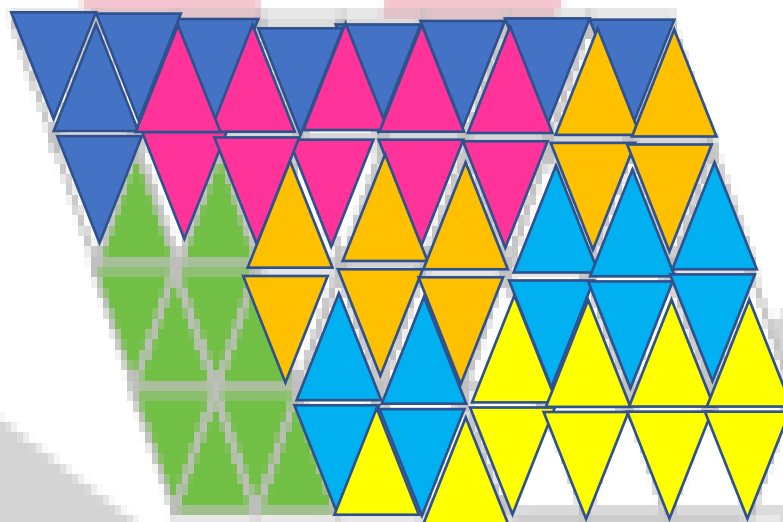
۸ دسته‌ی ده تایی منهای ۲ دسته‌ی ده تایی می‌شود ۶ دسته‌ی ده تایی.

$$۸۰ - ۲۰ = ۶۰ \text{ یعنی}$$

۳ - مانند نمونه با رنگ کردن ۱۰ تا خانه، شکل‌های مختلف بسازید. هر بار از یک مداد رنگی استفاده کنید. چند تا دسته‌ی ده تایی درست کردید؟




۶ دسته



۶ دسته

تقریب بزن

می‌خواهیم عدد ۳۲ را روی محور اعداد نشان دهیم.



می‌دانیم عدد ۳۲ بعد از عدد ۳۰ است. برای این که محل ۳۲ بهتر دیده شود، روی آن قسمت ذره بین گذاشته شده است. شما عدد ۳۲ را با علامت نشان دهید.



عددهای ۱۷، ۲۵ و ۳۲ را هم روی محور اعداد زیر نشان دهید.

