



به نام خداوند بخشنده و مهربان  
دبستان و پیش دبستان علوی  
آموزگار: خانم اسدزاده



ریاضی صفحه ۲۴



دینی احکام



9





کار در  
کلاس

حاصل جمع و تفریق‌های زیر را از هر روشی که می‌خواهید، به دست آورید. روش خود را با روش دوستانتان مقایسه کنید.

$$\begin{array}{r} 8 \\ + 9 \\ \hline \end{array}$$

$$\begin{array}{r} 7 \\ + 5 \\ \hline \end{array}$$

$$\begin{array}{r} 12 \\ - 9 \\ \hline \end{array}$$

$$\begin{array}{r} 14 \\ - 6 \\ \hline \end{array}$$

$$\begin{array}{r} 6 \\ + 9 \\ \hline \end{array}$$

$$\begin{array}{r} 7 \\ + 6 \\ \hline \end{array}$$

$$\begin{array}{r} 17 \\ - 8 \\ \hline \end{array}$$

$$\begin{array}{r} 19 \\ - 9 \\ \hline \end{array}$$



کار در  
کلاس

حاصل جمع و تفریق‌های زیر را از هر روشی که می‌خواهید، به دست آورید. روش خود را با روش دوستانتان مقایسه کنید.

$$\begin{array}{r} 8 \\ + 9 \\ \hline 17 \end{array}$$

$$\begin{array}{r} 7 \\ + 5 \\ \hline 12 \end{array}$$

$$\begin{array}{r} 12 \\ - 9 \\ \hline 3 \end{array}$$

$$\begin{array}{r} 14 \\ - 6 \\ \hline 8 \end{array}$$

$$\begin{array}{r} 6 \\ + 9 \\ \hline 15 \end{array}$$

$$\begin{array}{r} 7 \\ + 6 \\ \hline 13 \end{array}$$

$$\begin{array}{r} 17 \\ - 8 \\ \hline 9 \end{array}$$

$$\begin{array}{r} 19 \\ - 9 \\ \hline 10 \end{array}$$

۱- با رنگ کردن مربع‌ها و یا خط زدن مربع‌های رنگ شده، حاصل جمع و تفریق‌ها را به دست آورید.

$$\begin{array}{r} 7 \\ + 9 \\ \hline \end{array}$$

--	--	--	--	--	--	--	--	--	--	--	--	--	--	--	--	--	--

$$\begin{array}{r} 18 \\ - 9 \\ \hline \end{array}$$

--	--	--	--	--	--	--	--	--	--	--	--	--	--	--	--	--	--


$$\begin{array}{r} 17 \\ - 9 \\ \hline \end{array}$$

--	--	--	--	--	--	--	--	--	--	--	--	--	--	--	--	--	--

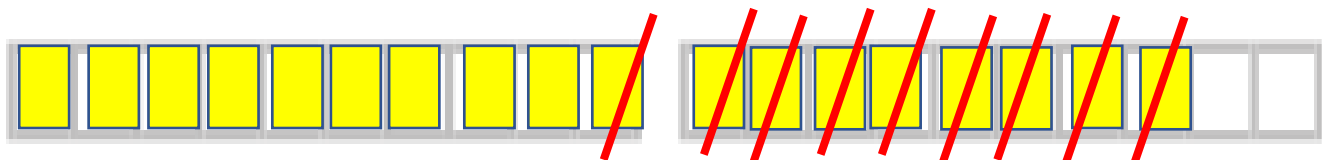


۱- با رنگ کردن مربع‌ها و یا خط زدن مربع‌های رنگ شده، حاصل جمع و تفریق‌ها را به دست آورید.

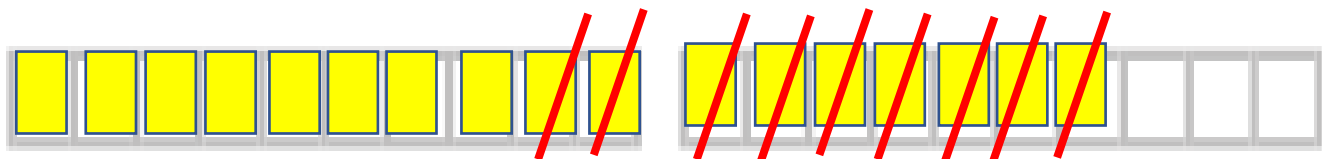
$$\begin{array}{r} 7 \\ + 9 \\ \hline 16 \end{array}$$



$$\begin{array}{r} 18 \\ - 9 \\ \hline 9 \end{array}$$



$$\begin{array}{r} 17 \\ - 9 \\ \hline 8 \end{array}$$



فعالیت

۲- مانند نمونه جدول‌های جمع و تفریق را کامل کنید.

A 2x3 grid for addition. The top row contains the numbers ۴, ۷, and ۵. The bottom row contains the numbers ۴ and ۷. A blue balloon with the equation  $۳+۴$  has an arrow pointing to the ۴ in the top row. A green balloon with the equation  $۳+۷$  has an arrow pointing to the ۷ in the top row. An orange balloon is empty. A red dashed arrow in the top-left cell points from the ۴ to the ۷.

+	۴	۷	۵
۴	۷		

+	۶	۷	۸	۹
۴				
۵				

-	۸	۷	۵	۲
۱۸				
۱۵				

برای جمع و تفریق کردن عددهایی که بیشتر از یک رقم دارند، نیاز دارید که جمع و تفریق اعداد یک رقمی را با سرعت انجام دهید. بهتر است با تمرین کردن آن‌ها را به خاطر بسپارید.

۲- مانند نمونه جدول‌های جمع و تفریق را کامل کنید.

$+$	۴	۷	۵
۴	۷	۱۰	۸

$+$	۶	۷	۸	۹
۴	۱۰	۱۱	۱۲	۱۳
۵	۱۱	۱۲	۱۳	۱۴

$-$	۸	۷	۵	۲
۱۸	۱۰	۱۱	۱۳	۱۶
۱۵	۷	۸	۱۰	۱۳

برای جمع و تفریق کردن عددهایی که بیشتر از یک رقم دارند، نیاز دارید که جمع و تفریق اعداد یک رقمی را با سرعت انجام دهید. بهتر است با تمرین کردن آن‌ها را به خاطر بسپارید.