

# بسمه تعالی

دبستان دخترانه ی علوی

نام و نام  
انه ادگی:

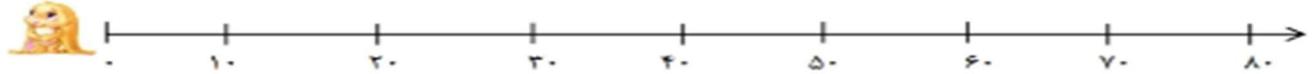
موضوع:

(شعبه امامت)



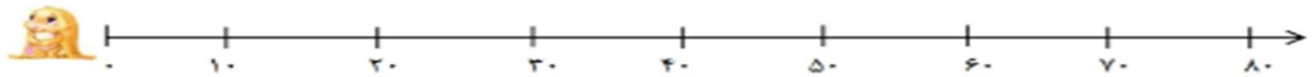
★ ۳ دسته ی ده تایی به اضافه ی ۱ دسته ی ده تایی می شود ..... دسته ی ده تایی یعنی :

$30 + 10 = \dots$



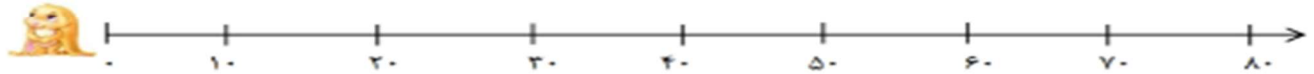
۷ دسته ی ده تایی منهای ۴ دسته ی ده تایی می شود ..... دسته ی ده تایی یعنی :

$70 - 40 = \dots$



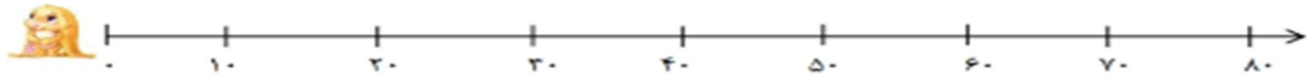
۵ دسته ی ده تایی به اضافه ی ۱ دسته ی ده تایی می شود ..... دسته ی ده تایی یعنی :

$50 + 10 = \dots$

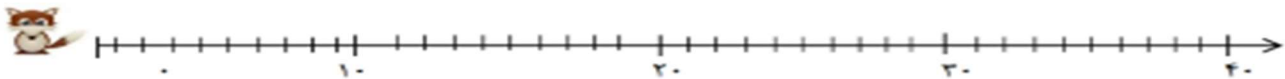


۸ دسته ی ده تایی منهای ۲ دسته ی ده تایی می شود ..... دسته ی ده تایی یعنی :

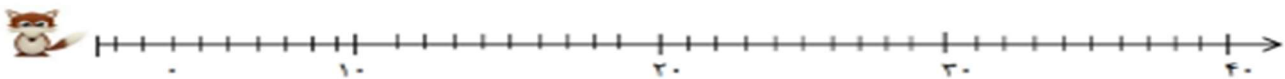
$80 - 20 = \dots$



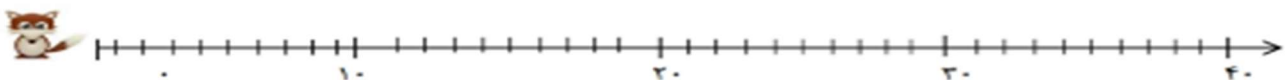
★ عددهای ۵، ۱۵، ۲۵ و ۳۵ را با رنگ قرمز روی محور نشان بده .



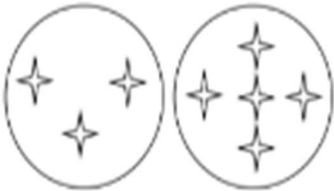
عددهای ۸، ۱۶، ۲۴ و ۳۲ را با رنگ سبز روی محور نشان بده .



عددهای ۲۱ تا ۲۹ را با رنگ آبی روی محور نشان بده .



برای هر شکل یک عبارت جمع بنویس.



..... + ..... = .....



..... + ..... = .....




..... + ..... = .....



.....



.....



.....



+ .....

.....


.....



+ .....

.....

.....



+ .....

.....

.....

حاصل جمع و باقی مانده ی عبارت های زیر را بنویس.

۶۰  
- ۳۰  
-----

۳۰  
+ ۴۰  
-----

۸۰  
- ۳۰  
-----

۲۰  
+ ۶۰  
-----

۷۰  
- ۱۰  
-----

۸۰  
+ ۱۰  
-----

۷۰  
+ ۷۰  
-----

۱۰  
+ ۱۰  
-----

۲۰ + ۲۰ = .....

۹۰ - ۳۰ = .....

۴۰ + ۵۰ = .....

۸۰ - ۵۰ = .....

۴۰ + ۴۰ = .....

۷۰ - ۶۰ = .....

۹۰ - ۷۰ = .....

۵۰ + ۲۰ = .....

۳۰ + ۷۰ = .....