

۱. عدد های دورقمی با دهگان ( ۳ ) و یکان ( ۴ ، ۷ ) بنویسید  
جدول نظام دار یا نمودار درختی بکشید

۲. عدد های دو رقمی با یکان ( ۵ ) و دهگان ( ۱ ، ۹ ) بنویسید  
نمودار درختی بکشید

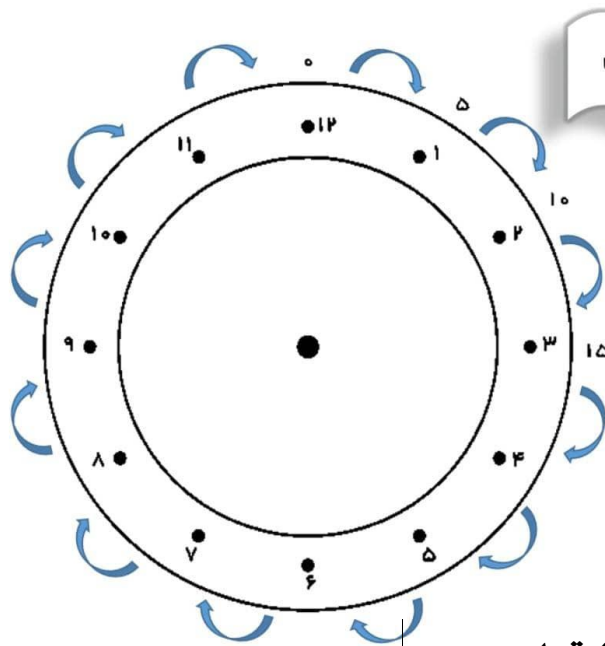
۳. عدد های دو رقمی با یکان ( ۲ ، ۰ ) و دهگان ( ۶ ، ۴ ) بنویسید.  
نمودار درختی بکشید.

۴. عدد های دورقمی با یکان ( ۵ ، ۰ ، ۹ ) و دهگان ( ۲ ، ۱ ) را بنویسید  
نمودار یا جدول بکشید

۱. ساعت از چند گذشته و به چند مانده است؟

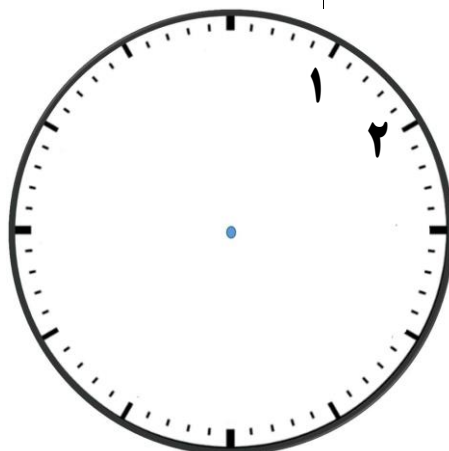


۲. الگوی زیر را روی ساعت کامل کنید.

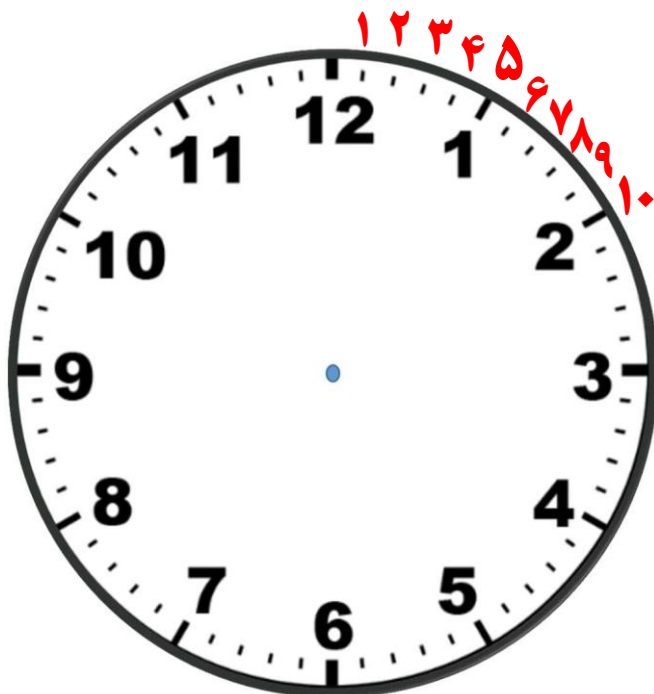


شمارش ۵ تا ۵ تا

۳. عدد های ساعت را قرار دهید.



۴. دقیقه ها را کامل کنید



۵. عقربه ی دقیقه شمار روی چند است؟



.....



.....



.....



.....



.....



.....