
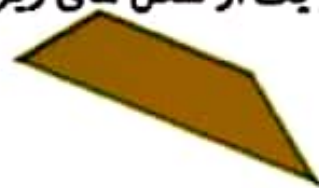





۱) عزیز توانا: نام شکل های زیر را بنویس.



۲) هر یک از شکل های زیر چند گوشه دارد؟



۳) ضلع های شکل های زیر را با مداد مشخص کن و بنویس چند ضلع و چند گوشه دارد؟



حالا جمله ی زیر را کامل کن:

در چند ضلعی ها تعداد و با هم است.