

نام و نام خانوادگی:

موضوع:

پایه:

تاریخ:









هدف:



۱- جمع و تفریق‌های زیر را به روش فرآیندی حل کنید.





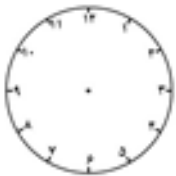



$\begin{array}{r} 65 \\ + 18 \\ \hline \end{array}$	$\begin{array}{r} 62 \\ + 28 \\ \hline \end{array}$
---	---

۲- ساعت چند است ؟

 -----	 -----	 -----	 -----
 -----	 -----	 -----	 -----



۳- زمان خواسته شده را نشان دهید.

 ۹:۱۵	 ۶:۵۰	 ۱:۳۰	 ۲:۴۰
 ۸:۵۵	 ۷:۴۵	 ۴:۳۵	 ۱:۵۰

