



به نام خدا



ریاضی دوم دبستان

آموزگار : طیبه ریاضی



علوی
مدارس هزاره سوم

۵ - الف) زهرا ۲۴ صدف از ساحل دریا جمع کرد و به برادرش علی که ۴۹ صدف جمع کرده بود، داد.
حالا برادر زهرا چند صدف دارد؟

ب) علی از صدف‌هایش ۴۵ تا را انتخاب و با آنها یک کاردستی درست کرد. حالا چند صدف برایش
باقی مانده است؟



۵ - الف) زهرا ۲۴ صدف از ساحل دریا جمع کرد و به برادرش علی که ۴۹ صدف جمع کرده بود، داد. حالا برادر زهرا چند صدف دارد؟

$$\begin{array}{r} 24 \\ + 49 \\ \hline 64 \\ + 9 \\ \hline 73 \end{array}$$

علی ۷۳ صدف دارد.

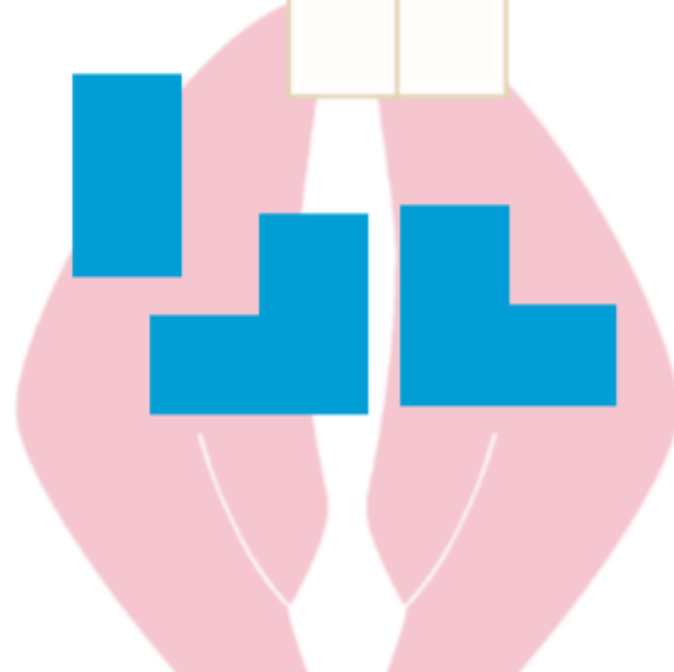
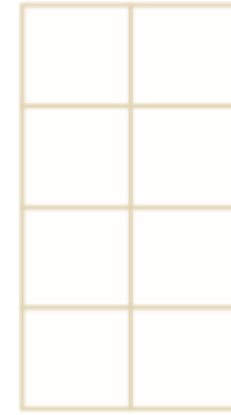
ب) علی از صدف‌هایش ۴۵ تا را انتخاب و با آنها یک کاردستی درست کرد. حالا چند صدف برایش باقی مانده است؟


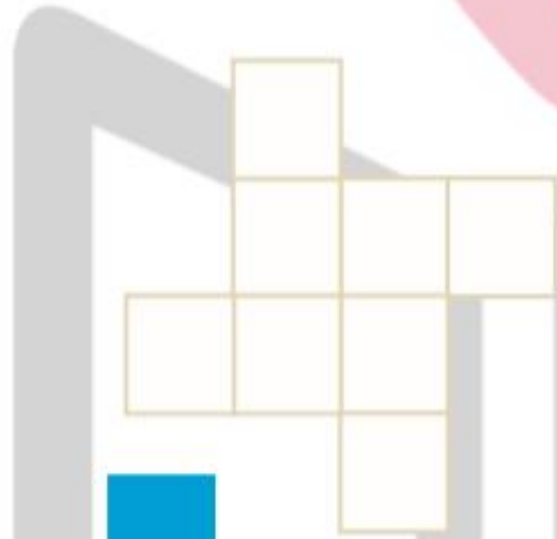
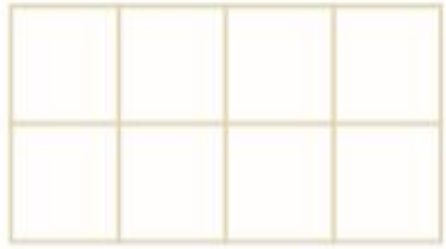
$$\begin{array}{r} 73 \\ - 45 \\ \hline 28 \\ - 5 \\ \hline 23 \end{array}$$

۲۸ صدف برای او باقی مانده است.



فقط با حرکت دادن شکل‌های داده شده به قسمت بالا و بدون چرخاندن آنها شکل شطرنجی را به طور کامل بپوشانید. می‌توانید مانند نمونه با رنگ کردن خانه‌های شطرنجی مثل شکل‌های پایین آن را حل کنید.





کار در کلاس



۱. زمان ساعت‌های زیر را بخوان و بنویس.

۵۳



الف) ساعت و دقیقه (ب) ساعت و دقیقه (پ) ساعت و دقیقه
..... :

کار در کلاس



۱. زمان ساعت‌های زیر را بخوان و بنویس.

۵۳



الف) ساعت ۸ و ۲۵ دقیقه (ب) ساعت ۱ و ۴۵ دقیقه (پ) ساعت ۳ و ۴۰ دقیقه

..... :
۳ : ۴۰

..... :
۱ : ۴۵

..... :
۸ : ۲۵

۲. حاصل جمع و تفریق‌های زیر را با استفاده از جدول اعداد (۱ تا ۱۰۰) پیدا کن و با مداد رنگی روی جدول

نشان بده.

۱	۲	۳	۴	۵	۶	۷	۸	۹	۱۰
۱۱	۱۲	۱۳	۱۴	۱۵	۱۶	۱۷	۱۸	۱۹	۲۰
۲۱	۲۲	۲۳	۲۴	۲۵	۲۶	۲۷	۲۸	۲۹	۳۰
۳۱	۳۲	۳۳	۳۴	۳۵	۳۶	۳۷	۳۸	۳۹	۴۰
۴۱	۴۲	۴۳	۴۴	۴۵	۴۶	۴۷	۴۸	۴۹	۵۰
۵۱	۵۲	۵۳	۵۴	۵۵	۵۶	۵۷	۵۸	۵۹	۶۰
۶۱	۶۲	۶۳	۶۴	۶۵	۶۶	۶۷	۶۸	۶۹	۷۰
۷۱	۷۲	۷۳	۷۴	۷۵	۷۶	۷۷	۷۸	۷۹	۸۰
۸۱	۸۲	۸۳	۸۴	۸۵	۸۶	۸۷	۸۸	۸۹	۹۰
۹۱	۹۲	۹۳	۹۴	۹۵	۹۶	۹۷	۹۸	۹۹	۱۰۰

$$\begin{array}{r} 96 \\ - 25 \\ \hline \end{array}$$

$$\begin{array}{r} 24 \\ + 23 \\ \hline \end{array}$$

$$\begin{array}{r} 32 \\ + 25 \\ \hline \end{array}$$

$$\begin{array}{r} 99 \\ - 37 \\ \hline \end{array}$$

۲. حاصل جمع و تفریق‌های زیر را با استفاده از جدول اعداد (۱ تا ۱۰۰) پیدا کن و با مداد رنگی روی جدول

نشان بده.

۱	۲	۳	۴	۵	۶	۷	۸	۹	۱۰
۱۱	۱۲	۱۳	۱۴	۱۵	۱۶	۱۷	۱۸	۱۹	۲۰
۲۱	۲۲	۲۳	۲۴	۲۵	۲۶	۲۷	۲۸	۲۹	۳۰
۳۱	۳۲	۳۳	۳۴	۳۵	۳۶	۳۷	۳۸	۳۹	۴۰
۴۱	۴۲	۴۳	۴۴	۴۵	۴۶	۴۷	۴۸	۴۹	۵۰
۵۱	۵۲	۵۳	۵۴	۵۵	۵۶	۵۷	۵۸	۵۹	۶۰
۶۱	۶۲	۶۳	۶۴	۶۵	۶۶	۶۷	۶۸	۶۹	۷۰
۷۱	۷۲	۷۳	۷۴	۷۵	۷۶	۷۷	۷۸	۷۹	۸۰
۸۱	۸۲	۸۳	۸۴	۸۵	۸۶	۸۷	۸۸	۸۹	۹۰
۹۱	۹۲	۹۳	۹۴	۹۵	۹۶	۹۷	۹۸	۹۹	۱۰۰

$$\begin{array}{r} 96 \\ - 25 \\ \hline 71 \end{array}$$

$$\begin{array}{r} 24 \\ + 23 \\ \hline 47 \end{array}$$

$$\begin{array}{r} - 5 \\ \hline 71 \end{array}$$

$$\begin{array}{r} + 3 \\ \hline 47 \end{array}$$

$$\begin{array}{r} 32 \\ + 25 \\ \hline 57 \end{array}$$

$$\begin{array}{r} 99 \\ - 37 \\ \hline 62 \end{array}$$

$$\begin{array}{r} + 5 \\ \hline 57 \end{array}$$

$$\begin{array}{r} - 7 \\ \hline 62 \end{array}$$

۳. برنا ۴۵ شکلات شیری و ۱۷ شکلات توت فرنگی دارد. او روی هم چند شکلات دارد؟ (با راه حل)



۳. برنا ۴۵ شکلات شیری و ۱۷ شکلات توت فرنگی دارد. او روی هم چند شکلات دارد؟ (با راه حل)

$$\begin{array}{r} 45 \\ + 17 \\ \hline 55 \\ + 7 \\ \hline 62 \end{array}$$

۶۲ شکلات دارد.





۱. عقربه‌های مربوط به زمان‌های زیر را بکش.

۵۴



ساعت ۶ و ۳۰ دقیقه



۱۰:۲۰



ساعت ۵ و ۵۰ دقیقه

۲. هر کدام از عددهای سمت چپ را به مقدار تقریبی آن‌ها در سمت راست وصل کنید، کدام عدد اضافی است؟

۴۷
۸۱
۲۵
۵۵
۲۴
۳۹

۸۰
۶۰
۵۰
۴۰
۳۰

عدد اضافی:



۱. عقربه‌های مربوط به زمان‌های زیر را بکش.

۵۴



ساعت ۶ و ۳۰ دقیقه

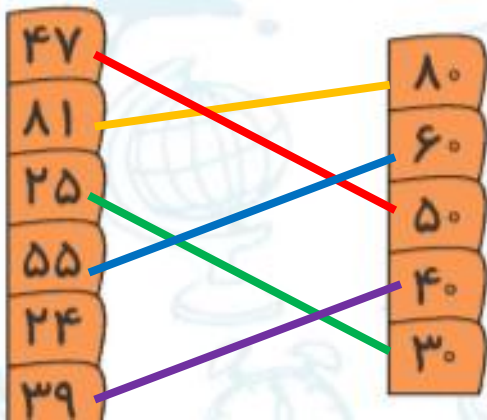


۱۰:۲۰



ساعت ۵ و ۵۰ دقیقه

۲. هر کدام از عددهای سمت چپ را به مقدار تقریبی آنها در سمت راست وصل کنید، کدام عدد اضافی است؟



۲۴

عدد اضافی: