



۱. زمان ساعت‌های زیر را بخوان و بنویس.
 الف) ساعت ۸ و ۲۵ دقیقه (ب) ساعت ۱ و ۴۵ دقیقه (پ) ساعت ۳ و ۴۰ دقیقه
 ۸ : ۲۵ ۱ : ۴۵ ۳ : ۴۰

۲. حاصل جمع و تفریق‌های زیر را با استفاده از جدول اعداد (۱ تا ۱۰۰) پیدا کن و با مداد رنگی روی جدول نشان بده.

۱	۲	۳	۴	۵	۶	۷	۸	۹	۱۰
۱۱	۱۲	۱۳	۱۴	۱۵	۱۶	۱۷	۱۸	۱۹	۲۰
۲۱	۲۲	۲۳	۲۴	۲۵	۲۶	۲۷	۲۸	۲۹	۳۰
۳۱	۳۲	۳۳	۳۴	۳۵	۳۶	۳۷	۳۸	۳۹	۴۰
۴۱	۴۲	۴۳	۴۴	۴۵	۴۶	۴۷	۴۸	۴۹	۵۰
۵۱	۵۲	۵۳	۵۴	۵۵	۵۶	۵۷	۵۸	۵۹	۶۰
۶۱	۶۲	۶۳	۶۴	۶۵	۶۶	۶۷	۶۸	۶۹	۷۰
۷۱	۷۲	۷۳	۷۴	۷۵	۷۶	۷۷	۷۸	۷۹	۸۰
۸۱	۸۲	۸۳	۸۴	۸۵	۸۶	۸۷	۸۸	۸۹	۹۰
۹۱	۹۲	۹۳	۹۴	۹۵	۹۶	۹۷	۹۸	۹۹	۱۰۰

$$\begin{array}{r} 96 \\ - 25 \\ \hline 71 \end{array}$$

$$\begin{array}{r} 24 \\ + 23 \\ \hline 47 \end{array}$$

$$\begin{array}{r} 32 \\ + 25 \\ \hline 57 \end{array}$$

$$\begin{array}{r} 99 \\ - 37 \\ \hline 62 \end{array}$$

۳. برنا ۴۵ شکلات شیری و ۱۷ شکلات توت فرنگی دارد. او روی هم چند شکلات دارد؟ (با راه حل)

$$\begin{array}{r} 45 \\ + 17 \\ \hline 62 \end{array}$$

او ۶۲ شکلات دارد.





تمرین



۱. عقربه‌های مربوط به زمان‌های زیر را بکش.

۵۴



ساعت ۶ و ۳۰ دقیقه

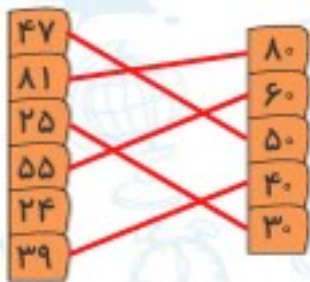


۱۰:۲۰



ساعت ۵ و ۵۰ دقیقه

۲. هر کدام از عددهای سمت چپ را به مقدار تقریبی آن‌ها در سمت راست وصل کنید. کدام عدد اضافی است؟



عدد اضافی: ۲۴

۳. حاصل جمع و تفریق‌های زیر را به صورت تقریبی پیدا کن.

$$\begin{array}{r} 44 \Rightarrow \dots 40 \\ + 25 \Rightarrow + \dots 30 \\ \hline \dots 70 \end{array}$$

$$\begin{array}{r} 31 \Rightarrow \dots 30 \\ + 37 \Rightarrow + \dots 40 \\ \hline \dots 70 \end{array}$$

$$\begin{array}{r} 76 \Rightarrow \dots 80 \\ + 9 \Rightarrow + \dots 10 \\ \hline \dots 90 \end{array}$$

$$\begin{array}{r} 52 \Rightarrow \dots 50 \\ - 28 \Rightarrow - \dots 30 \\ \hline \dots 20 \end{array}$$

$$\begin{array}{r} 92 \Rightarrow \dots 90 \\ - 39 \Rightarrow - \dots 40 \\ \hline \dots 50 \end{array}$$

$$\begin{array}{r} 71 \Rightarrow \dots 70 \\ - 33 \Rightarrow - \dots 30 \\ \hline \dots 40 \end{array}$$

$$\begin{array}{r} 58 \rightarrow 60 \\ - 42 \rightarrow - 40 \end{array}$$

۴. کدام گزینه حاصل تفریق مقابل را به صورت تقریبی نشان می‌دهد؟

۱۰ (۴)

۱۸ (۳)

۲۰ (۲)

۳۰ (۱)

۵. درنا و برنا هر کدام ۳ دسته ده‌تایی و ۴ یکی گل دارند. آن‌ها روی هم چند گل دارند؟

$$\begin{array}{r} 34 \\ + 34 \\ \hline 68 \\ + 4 \\ \hline 72 \end{array}$$

آن‌ها روی هم ۶۸ گل دارند.






۶. حاصل جمع و تفریق زیر را روی جدول اعداد زیر نشان بده.

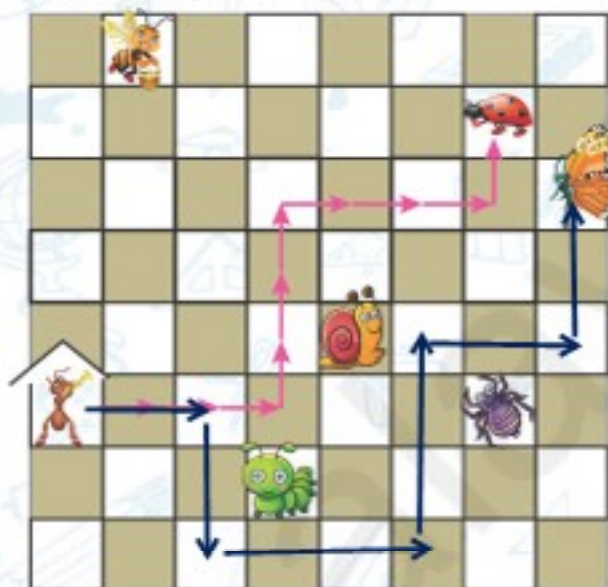
۲۱	۲۲	۲۳	۲۴	۲۵	۲۶	۲۷	۲۸	۲۹	۳۰
۳۱	۳۲	۳۳	۳۴	۳۵	۳۶	۳۷	۳۸	۳۹	۴۰
۴۱	۴۲	۴۳	۴۴	۴۵	۴۶	۴۷	۴۸	۴۹	۵۰

$$\begin{array}{r} 27 \\ + 12 \\ \hline 39 \\ + 2 \\ \hline 41 \end{array}$$

$$\begin{array}{r} 46 \\ - 14 \\ \hline 32 \\ - 4 \\ \hline 28 \end{array}$$

۷. اگر از  راه بیفتد و از مسیر ۳ → ۳، ↑ ۳، → ۳، ↑ ۱، برود، به  می‌رسد.

اگر از  حرکت کند و از مسیر ۲ → ۲، ↓ ۲، → ۳، ↑ ۳، → ۲، برود، به کدام حیوان می‌رسد؟



۸. درنا در روز تولدش سه ماشین، چهار توپ، سه خرس عروسکی، ده مداد، دو شکلات و یک کتاب کادو

گرفت. او کلاً چه تعداد هدیه گرفته است؟

۲۳ تا هدیه گرفته است. $3 + 4 + 3 + 10 + 2 + 1 = 23$

۹. برنا و جمشید و برزو در جشن مدرسه‌شان هر کدام پاکتی گرفته‌اند که در آن ۱۰ شکلات بود. هر کدام

از پسرها یکی از شکلات‌هایشان را خوردند و یکی از شکلات‌ها را به معلمشان دادند. حالا پسرها با هم چند

شکلات دارند؟

برنا $10 - 2 = 8$

جمشید $10 - 2 = 8$

برزو $10 - 2 = 8$

$8 + 8 + 8 = 24$

۲۴ (۳)

۱۰ (۲)

۳۰ (۵)

۸ (۱)

۲۷ (۴)

