




به نام خدا



ریاضی دوم دبستان

آموزگار: طیبه ریاضی



۳. حاصل جمع و تفریق‌های زیر را به صورت تقریبی پیدا کن.

$$\begin{array}{r} 44 \Rightarrow \dots\dots\dots \\ + 25 \Rightarrow + \dots\dots\dots \\ \hline \end{array}$$

$$\begin{array}{r} 31 \Rightarrow \dots\dots\dots \\ + 37 \Rightarrow + \dots\dots\dots \\ \hline \end{array}$$

$$\begin{array}{r} 76 \Rightarrow \dots\dots\dots \\ + 9 \Rightarrow + \dots\dots\dots \\ \hline \end{array}$$

$$\begin{array}{r} 52 \Rightarrow \dots\dots\dots \\ - 28 \Rightarrow - \dots\dots\dots \\ \hline \end{array}$$

$$\begin{array}{r} 92 \Rightarrow \dots\dots\dots \\ - 39 \Rightarrow - \dots\dots\dots \\ \hline \end{array}$$

$$\begin{array}{r} 71 \Rightarrow \dots\dots\dots \\ - 33 \Rightarrow - \dots\dots\dots \\ \hline \end{array}$$

$$\begin{array}{r} 58 \\ - 42 \\ \hline \end{array}$$

۴. کدام گزینه حاصل تفریق مقابل را به صورت تقریبی نشان می‌دهد؟

۱۰ (۴)

۱۸ (۳)

۲۰ (۲)

۳۰ (۱)

۵. درنا و برنا هر کدام ۳ دسته ده‌تایی و ۴ یکی گل دارند. آنها روی هم چند گل دارند؟



۳. حاصل جمع و تفریق‌های زیر را به صورت تقریبی پیدا کن.

$$\begin{array}{r} 44 \Rightarrow \underline{\quad 40 \quad} \\ + 25 \Rightarrow + \underline{\quad 30 \quad} \end{array}$$

$$\begin{array}{r} 31 \Rightarrow \underline{\quad 30 \quad} \\ + 37 \Rightarrow + \underline{\quad 40 \quad} \end{array}$$

$$\begin{array}{r} 76 \Rightarrow \underline{\quad 80 \quad} \\ + 9 \Rightarrow + \underline{\quad 10 \quad} \end{array}$$

$$\begin{array}{r} 52 \Rightarrow \underline{\quad 50 \quad} \\ - 28 \Rightarrow - \underline{\quad 30 \quad} \end{array}$$

$$\begin{array}{r} 92 \Rightarrow \underline{\quad 90 \quad} \\ - 39 \Rightarrow - \underline{\quad 40 \quad} \end{array}$$

$$\begin{array}{r} 71 \Rightarrow \underline{\quad 70 \quad} \\ - 33 \Rightarrow - \underline{\quad 30 \quad} \end{array}$$

$$\begin{array}{r} 58 \\ - 42 \\ \hline \end{array} \quad \begin{array}{r} 60 \\ + 40 \\ \hline \end{array}$$

۴. کدام گزینه حاصل تفریق مقابل را به صورت تقریبی نشان می‌دهد؟

$$20 \quad (4)$$

$$18 \quad (3)$$

$$20 \quad (2)$$

$$30 \quad (1)$$

۵. درنا و برنا هر کدام ۳ دسته ده‌تایی و ۴ یکی گل دارند. آن‌ها روی هم چند گل دارند؟

$$\begin{array}{r} 34 \\ + 34 \\ \hline 68 \\ + 4 \\ \hline 72 \end{array}$$

برنا: ۳ ده‌تایی و ۴ یکی = ۳۴

درنا: ۳ ده‌تایی و ۴ یکی = ۳۴






۶. حاصل جمع و تفریق زیر را روی جدول اعداد زیر نشان بده.



۲۱	۲۲	۲۳	۲۴	۲۵	۲۶	۲۷	۲۸	۲۹	۳۰
۳۱	۳۲	۳۳	۳۴	۳۵	۳۶	۳۷	۳۸	۳۹	۴۰
۴۱	۴۲	۴۳	۴۴	۴۵	۴۶	۴۷	۴۸	۴۹	۵۰

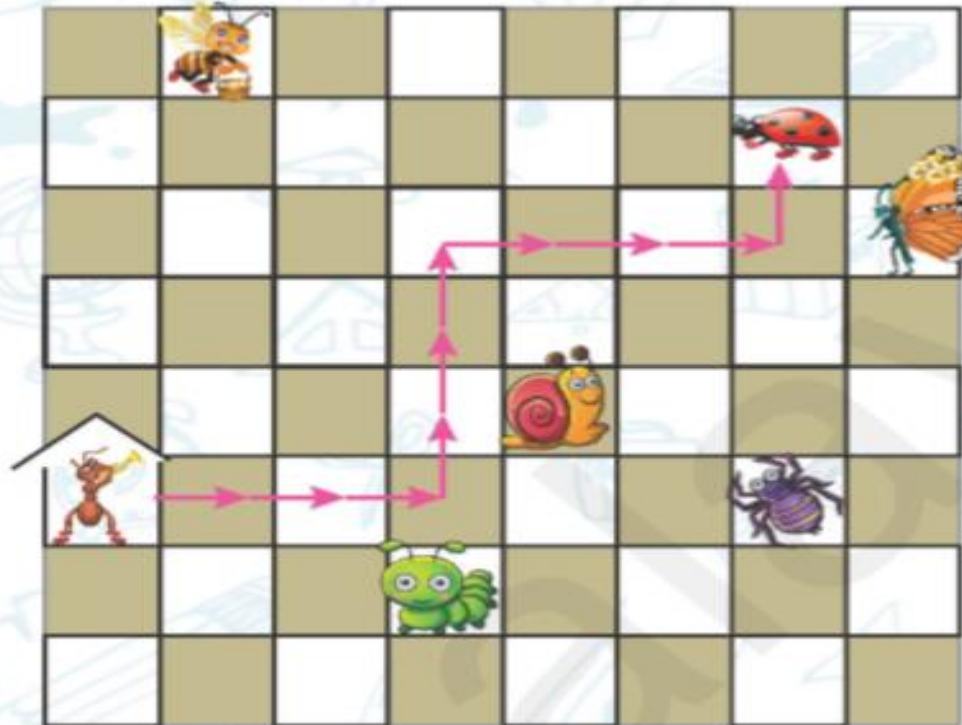
$$\begin{array}{r} ۲۷ \\ +۱۲ \\ \hline \end{array}$$

$$\begin{array}{r} ۴۶ \\ -۱۴ \\ \hline \end{array}$$

۵۵

۷. اگر  از  راه بیفتد و از مسیر $۳ \rightarrow, \uparrow ۳, \rightarrow ۳, \uparrow ۱$ برود، به  می‌رسد.

اگر  از  حرکت کند و از مسیر $۲ \rightarrow, \downarrow ۲, \rightarrow ۳, \uparrow ۳, \rightarrow ۲$ برود، به کدام حیوان می‌رسد؟



(۱)



(۲)



(۳)



(۴)



(۵)




۶. حاصل جمع و تفریق زیر را روی جدول اعداد زیر نشان بده.



۲۱	۲۲	۲۳	۲۴	۲۵	۲۶	۲۷	۲۸	۲۹	۳۰
۳۱	۳۲	۳۳	۳۴	۳۵	۳۶	۳۷	۳۸	۳۹	۴۰
۴۱	۴۲	۴۳	۴۴	۴۵	۴۶	۴۷	۴۸	۴۹	۵۰

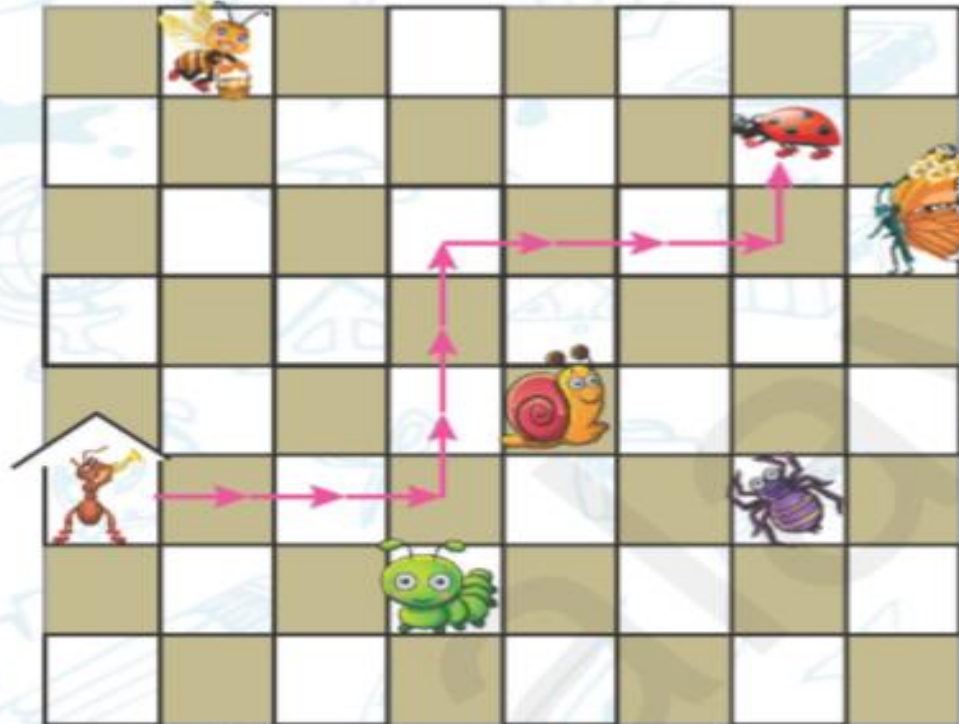
$$\begin{array}{r} 27 \\ + 12 \\ \hline 39 \\ + 2 \\ \hline 39 \end{array}$$

$$\begin{array}{r} 46 \\ - 14 \\ \hline 32 \\ + 4 \\ \hline 36 \end{array}$$

۵۵

۷. اگر  از  راه بیفتد و از مسیر $3 \rightarrow, \uparrow 3, \rightarrow 3, \uparrow 1$ برود، به  می‌رسد.

اگر  از  حرکت کند و از مسیر $2 \rightarrow, \downarrow 2, \rightarrow 3, \uparrow 3, \rightarrow 2$ برود، به کدام حیوان می‌رسد؟



-   (۱)
-  (۲)
-  (۳)
-  (۴)
-  (۵)

۸. درنا در روز تولدش سه ماشین، چهار توپ، سه خرس عروسکی، ده مداد، دو شکلات و یک کتاب کادو گرفت. او کلاً چه تعداد هدیه گرفته است؟

۹. برنا و جمشید و برزو در جشن مدرسه‌شان هر کدام پاکتی گرفته‌اند که در آن ۱۰ شکلات بود. هر کدام از پسرها یکی از شکلات‌هایشان را خوردند و یکی از شکلات‌ها را به معلمشان دادند. حالا پسرها با هم چند شکلات دارند؟

۲۴ (۳)

۱۰ (۲)

۸ (۱)

۳۰ (۵)

۲۷ (۴)



۸. درنا در روز تولدش سه ماشین، چهار توپ، سه خرس عروسکی، ده مداد، دو شکلات و یک کتاب کادو

گرفت. او کلاً چه تعداد هدیه گرفته است؟

$$۳+۴+۳+۱۰+۲+۱=۲۳$$

۹. برنا و جمشید و برزو در جشن مدرسه‌شان هر کدام پاکتی گرفته‌اند که در آن ۱۰ شکلات بود. هر کدام

از پسرها یکی از شکلات‌هایشان را خوردند و یکی از شکلات‌ها را به معلمشان دادند. حالا پسرها با هم چند

شکلات دارند؟

۸ (۱)

۱۰ (۲)

۲۷ (۴)

۳۰ (۵)

★ ۲۴ (۳)

$$۱۰+۱۰+۱۰=۳۰$$

$$۳۰-۶=۲۴$$

