

۱ الف) در شمارش ۵ تا ۵ تا بعد از عدد ۴۰ چه عددی است؟.....

ب) در شمارش ۳ تا ۳ تا بعد از عدد ۹ چه عددی است؟.....

۲ با استفاده از محور، شکل و چوب خط جواب جمع و تفریق های زیر را بدست بیاور.

→ شکل $7+7=.....$

→ چوب خط $6+8=.....$

→ محور $15-7=.....$

۳ جاهای خالی را کامل کن.

الف) ۳ دسته ده تایی + ۴ دسته ده تایی می شود دسته ده تایی. یعنی

ب) ۸ دسته ده تایی - ۶ دسته ده تایی می شود دسته ده تایی. یعنی


۴ حمید ۱۹ گل در باغچه خانه کاشت. بعد از چند روز ۶ تا از گل ها خشک شد. چند گل در باغچه باقی مانده است؟

۵ در جاهای خالی عدد مناسب بنویس.

+	۵	۷	۹	۲
۲۷				
۳۲				


-	۶	۴	۷	۲
۱۳				
۱۵				

۶ جمع و تفریق های زیر را با رسم شکل انجام بده .



$$\begin{array}{r} 24 \\ -20 \\ \hline \end{array}$$

$$\begin{array}{r} 47 \\ +12 \\ \hline \end{array}$$



۷ در شکل های زیر ، دایره ها را آبی و زرد کن و مثلث ها را سبز و قرمز و نارنجی کن.



۸ عددهای دو رقمی بساز که رقم های یکان آن ۳ و ۶ و رقم های دهگان آن ۴ و ۸ باشد.
نمودار درختی یا جدول نظام دار بکش

۹ حاصل جمع و تفریق های زیر را بدست بیاور. (از راه فرآیندی)


$$\begin{array}{r} 52 \\ + 34 \\ \hline \end{array} \quad \begin{array}{r} 38 \\ + 16 \\ \hline \end{array} \quad \begin{array}{r} 62 \\ - 31 \\ \hline \end{array} \quad \begin{array}{r} 56 \\ - 18 \\ \hline \end{array}$$

۱۰ الگوهای عددی زیر را ادامه بده .

۲۶-۲۹-۳۲-.....-.....-.....

۱۸-۲۷-۳۶-.....-.....-.....

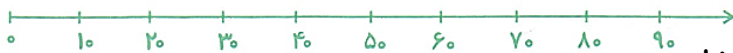
۱۱ در ساعت زیر، عقربه دقیقه شمار چه عددی را نشان می دهد؟



..... :

۱۲ سعید از داخل دریا ۱۶ صدف جمع کرده است. چند صدف دیگر باید جمع کند تا ۲۵ صدف داشته باشد؟ (از راه فرآیندی)

۱۳ با توجه به محور مقابل



الف) عددهای ۱۷ و ۳۲ و ۶۸ را به صورت تقریبی نشان بده.

ب) عدد ۱۷ به ۱۰ نزدیک تر است یا به ۲۰؟

ج) عدد ۳۲ به ۳۰ نزدیک تر است یا به ۴۰؟

د) عدد ۶۸ به نزدیک تر است یا به ۷۰؟

۱۴ دانش آموزان کلاس دوم دبستانی ۳۲ کتاب به کتابخانه مدرسه هدیه دادند و دانش آموزان کلاس سوم آن دبستان ۴۵ کتاب به کتابخانه مدرسه هدیه دادند. دانش آموزان کلاس دوم و سوم چند کتاب به مدرسه هدیه داده اند؟ (از راه فرآیندی)