



به نام خدا



ریاضی دوم دبستان

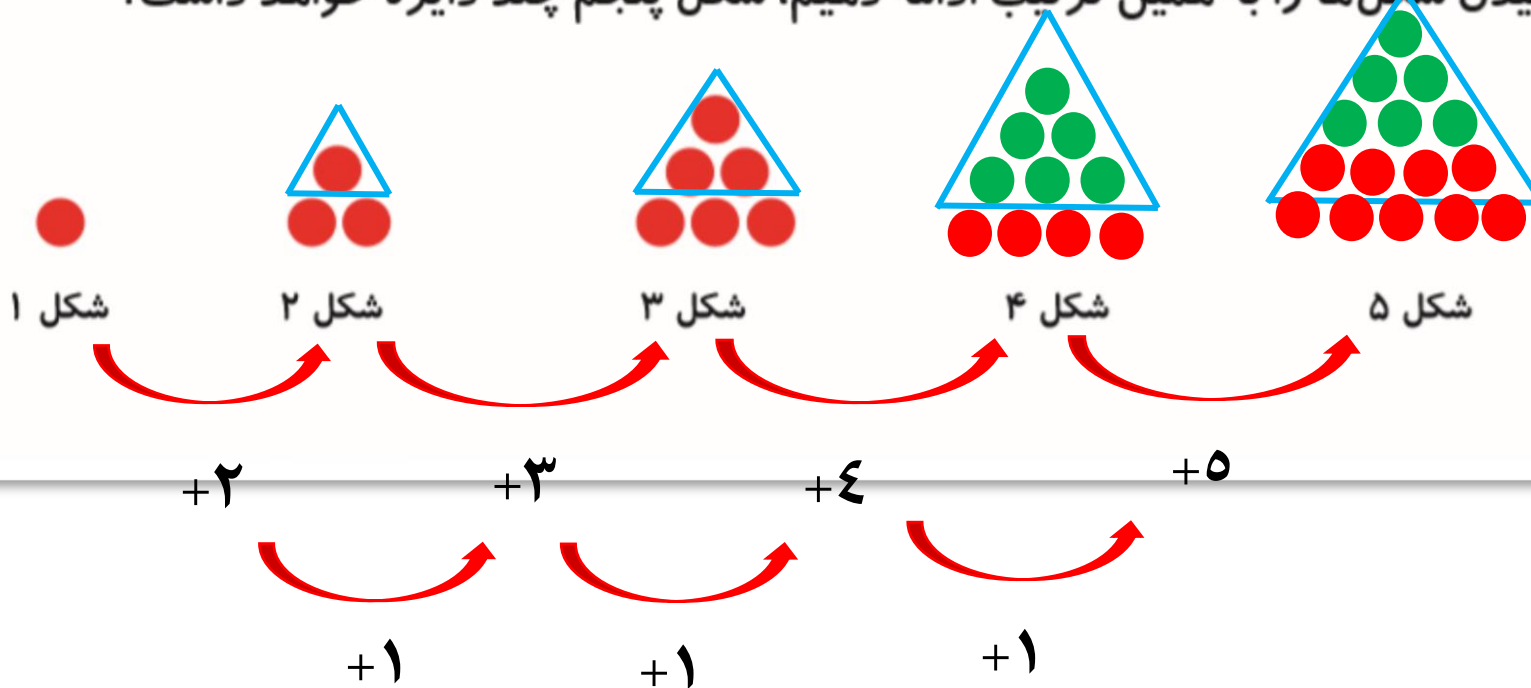
آموزگار : طیبه ریاضی



علوی

مدارس هزاره سوم

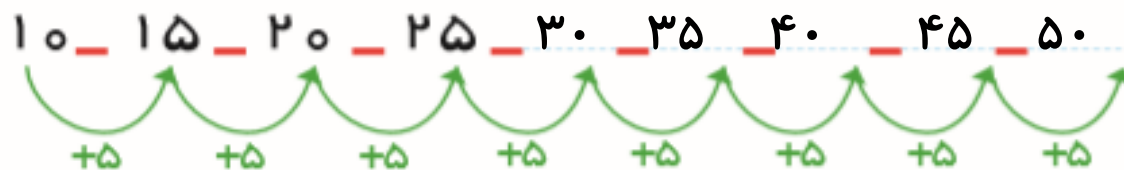
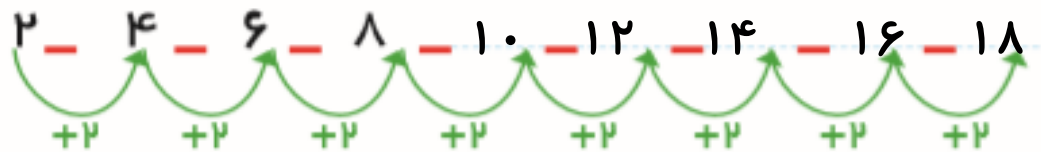
۱- اگر کشیدن شکل‌ها را به همین ترتیب ادامه دهیم، شکل پنجم چند دایره خواهد داشت؟



۱- اگر کشیدن شکل‌ها را به همین ترتیب ادامه دهیم، شکل پنجم چند دایره خواهد داشت؟



۲- الگوها را ادامه دهید.



۳ عدد بعدی را بنویسید.

