


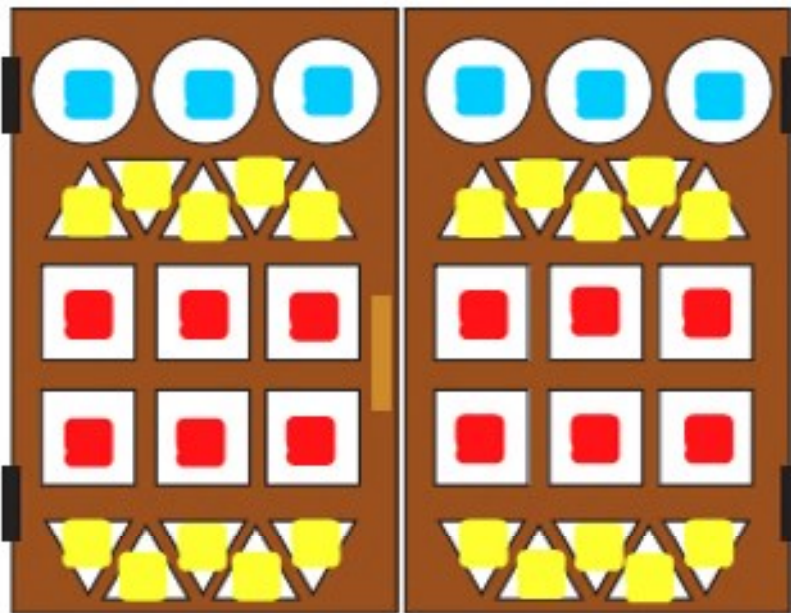
۱- دو شکل زیر چه تفاوت و شباهت‌هایی دارند؟



تفاوت: در شکل ۱ همه ی ضلع‌ها با هم برابرند اما در شکل ۲ برابر نیستند

شباهت: هر دو ۶ ضلع و ۶ گوشه دارند.

۲- با توجه به جدول زیر شکل‌ها را رنگ کنید تا یک پنجره‌ی زیبا درست شود.



کامل کن

هر تصویر چه ساعتی را نشان می‌دهد؟



۱۱:۱۴



۱۲:۰۱

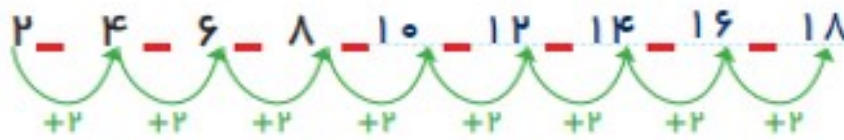
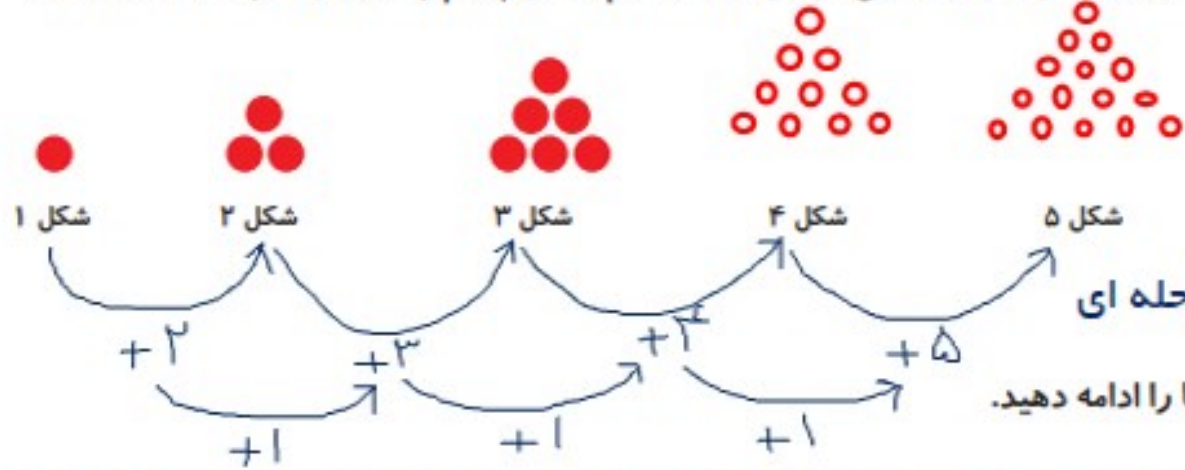


۷:۵۲

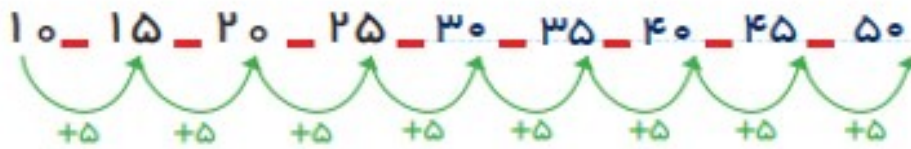


۱۰:۱۰

۱- اگر کشیدن شکل‌ها را به همین ترتیب ادامه دهیم، شکل پنجم چند دایره خواهد داشت؟ ۱۵ تا

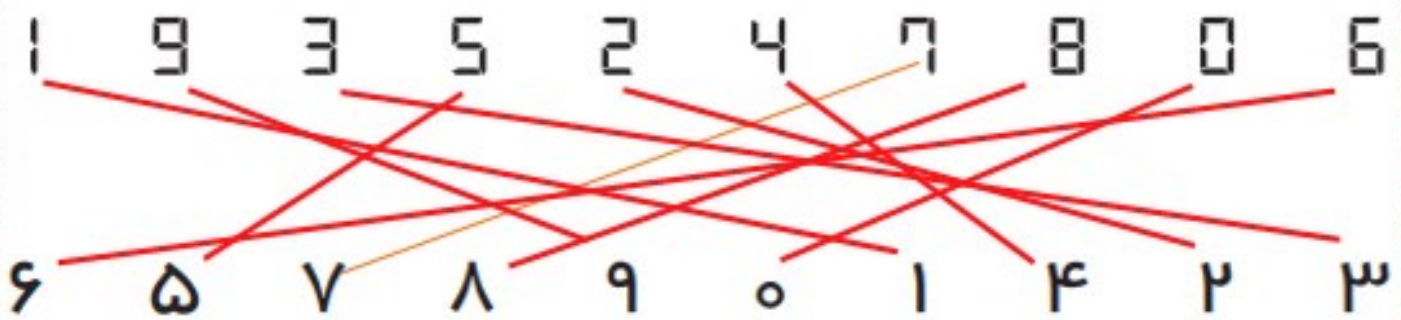


الگوی یک مرحله ای



کامل کن

مانند نمونه عددها را به هم وصل کنید.



می‌توان رابطه‌هایی را که بین شکل‌ها یا عددها وجود دارند، کشف کرد و الگو را ادامه داد. با الگویابی می‌توان پاسخ مسئله را پیدا کرد.