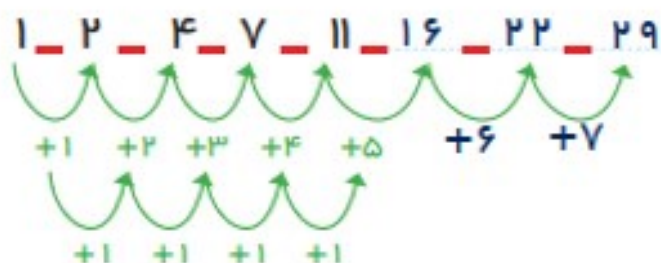
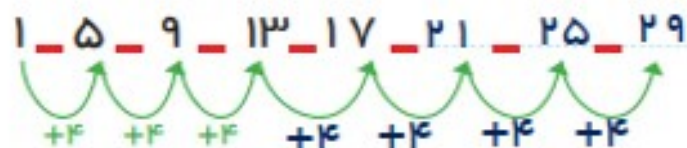


۳ عدد بعدی را بنویسید.



کامل کن

هر ساعت چه زمانی را نشان می دهد؟ مانند نمونه بنویس.
برای عددهای ۱ تا ۹ یک صفر پشت عدد قرار می دهیم.



02:25



09:08



11:45

گاهی اوقات الگوها را به راحتی نمی توان تشخیص داد و لازم است مرحله به مرحله پیش رفت تا الگوی مسئله شناخته شود. در این صورت با ادامه دادن الگو مسئله حل می شود.



۳. تفاوت و شباهت شکل‌های زیر را بنویس.



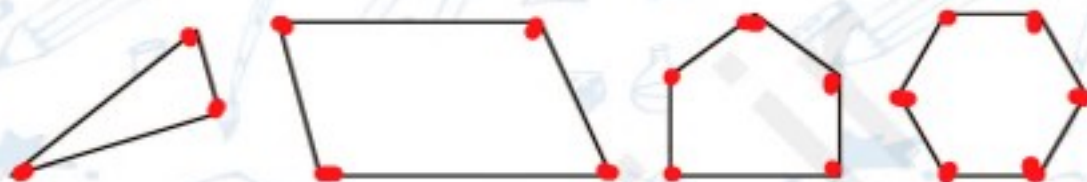
در مربع همه ی ضلع ها باهم برابرند اما در

تفاوت: مستطیل فقط ضلع های رو به رو باهم برابرند.

شباهت: هر دو ۴ ضلع و ۴ گوشه دارند.

۶۰

۴. در هر کدام از شکل‌ها گوشه‌ها را رنگ کن.



۵. به شکل‌ها با دقت نگاه کن، سپس به تعداد ضلع‌های هر شکل در زیر آن چوب‌خط بکش.

(ب)



(الف)



(ت)



(پ)





نادرست



درست



۱. درست یا نادرست بودن عبارت‌ها را مشخص کن.

(الف) تعداد ضلع‌ها و گوشه‌های یک چند ضلعی باهم برابر است.

(ب) دایره یک چند ضلعی است که گوشه دارد.

(پ) مربع چهار ضلع برابر دارد.

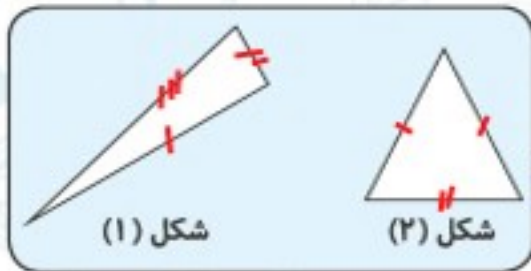
۲. شباهت‌ها و تفاوت‌های مثلث‌های زیر را بنویس.

شباهت:

هر دو ۳ گوشه و ۳ ضلع دارند.

تفاوت: در شکل ۱ ضلع‌ها باهم برابر نیستند

ولی در شکل ۲ فقط دو ضلع باهم برابرند.



شکل (۱)

شکل (۲)

۳. با شابلون شکل‌های هندسی زیر را رسم کرده، سپس ضلع‌ها را آبی و گوشه‌ها را سبز کن.

مثلث	مربع	مستطیل	پنج ضلعی
------	------	--------	----------

