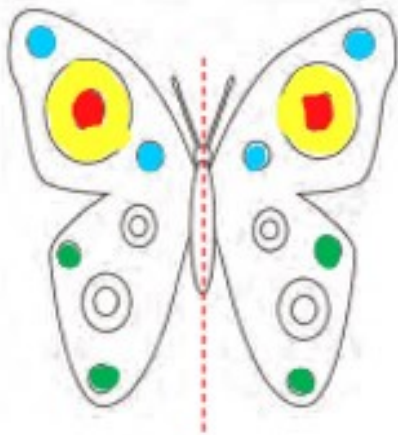


## تقارن

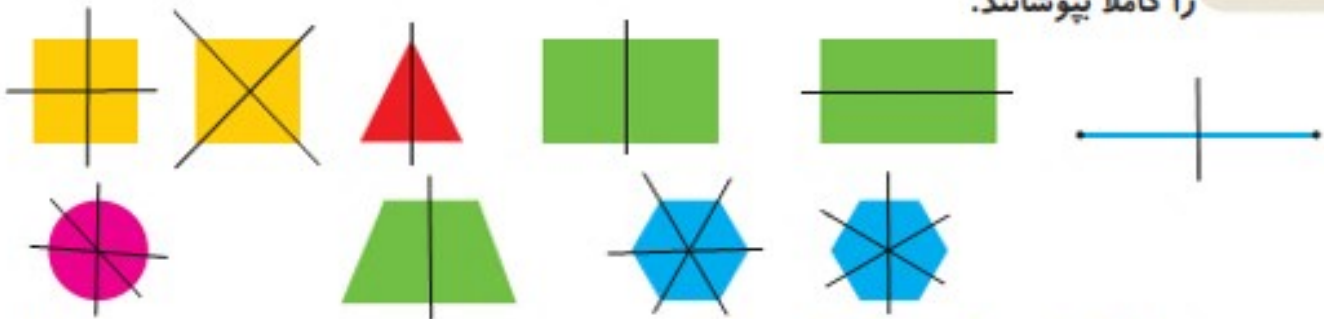


۱- اگر شکل روبه‌رو را از روی خط رسم شده تا کنیم، به دو نیمه‌ی مثل هم تقسیم می‌شوند، به طوری که این دو نیمه همدیگر را کاملاً می‌پوشانند. دو طرف شکل را مثل هم رنگ کنید.



## فعالیت

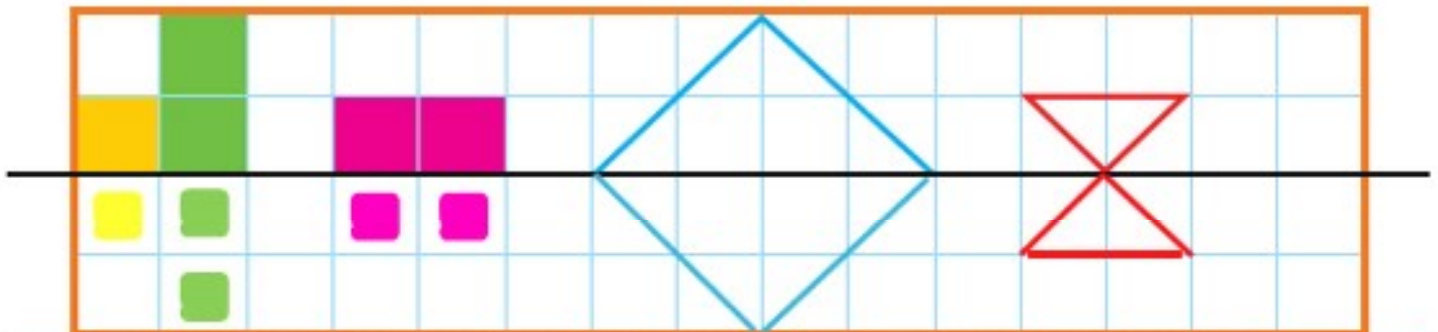
۲- روی هر شکل خطی رسم کنید که اگر شکل را روی آن خط تا کنیم، دو نیمه یکدیگر را کاملاً بپوشانند.



به خطی که رسم کردید، خط تقارن می‌گویند.

بی نهایت

۳- با توجه به خط تقارن، نیمه‌ی دیگر شکل را رسم کنید.



## کامل کن

ساعت چند است؟ ۱۰



قسمت رنگ شده نشان می‌دهد عقربه‌ی بزرگ چقدر حرکت کرده است. حالا ساعت چند است؟ ۱۰:۳۰

می‌توانیم بگوییم ساعت زمان ده و نیم را نشان می‌دهد.