

۱. درست یا نادرست بودن جمله‌ها را مشخص کن.

نادرست



درست



(الف) چهارمین عدد در الگوی عددی مقابل ۲۲ می‌باشد. (... - ۱۷ - ۱۳ - ۹)



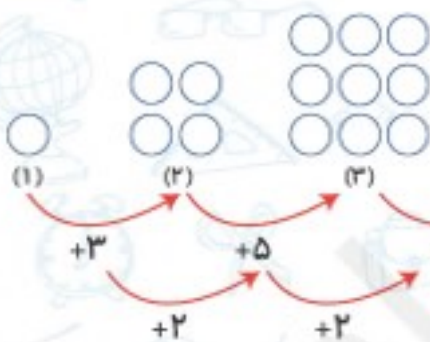
(ب) یک ربع بعد از ساعت ۴:۱۵ دقیقه، ساعت ۴:۳۰ می‌شود.



(پ) در الگوی زیر شکل بعدی می‌باشد.



۲. در جای خالی عدد مناسب نوشته و شکل چهارم را بکش.



الگوی دو مرحله ای

۳. زمانی را که هر ساعت نشان می‌دهد به صورت دیجیتالی بنویس.



(الف)

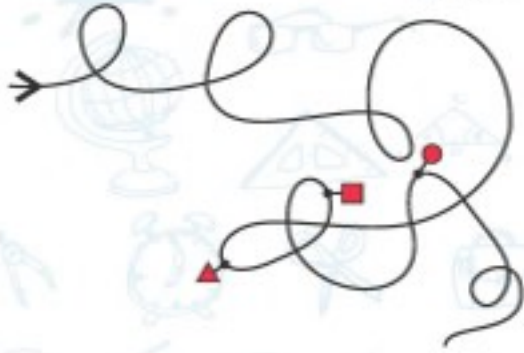


(ب)





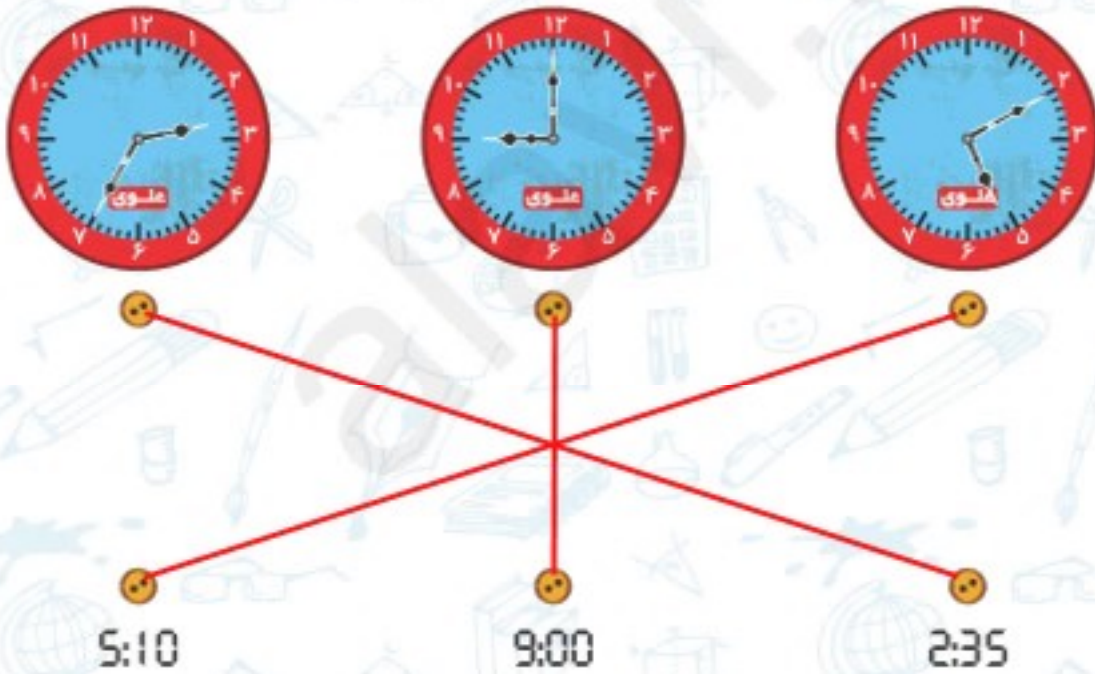
۴. اگر از → شروع به حرکت کنیم، به ترتیب به کدام شکل‌ها می‌رسیم؟



- ۱) ● ■ ▲
- ۲) ■ ● ▲
- ۳) ■ ▲ ●
- ۴) ● ▲ ■
- ۵) ▲ ● ■

تمرین

۱. با توجه به زمان نشان داده در ساعت‌ها، آن‌ها را به هم وصل کن.



۲. الگوی شکل‌ها را پیدا کن و ادامه بده.



+۲ +۲



۳. الگوی عددی زیر را ادامه بده.

$$1 - 5 - 10 - \boxed{16} - \boxed{23}$$

$\xrightarrow{+4}$ $\xrightarrow{+5}$ $\xrightarrow{+6}$ $\xrightarrow{+7}$
 $\xrightarrow{+1}$ $\xrightarrow{+1}$ $\xrightarrow{+1}$

$$0 - 2 - 6 - \boxed{12}$$

$\xrightarrow{+2}$ $\xrightarrow{+4}$ $\xrightarrow{+6}$
 $\xrightarrow{+2}$ $\xrightarrow{+2}$

۶۹

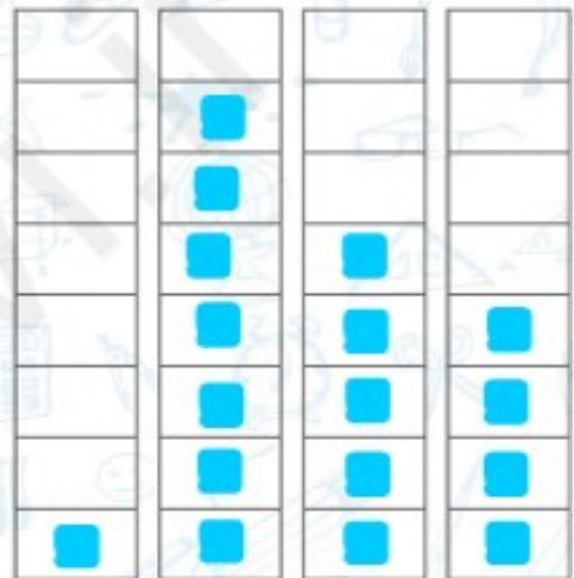
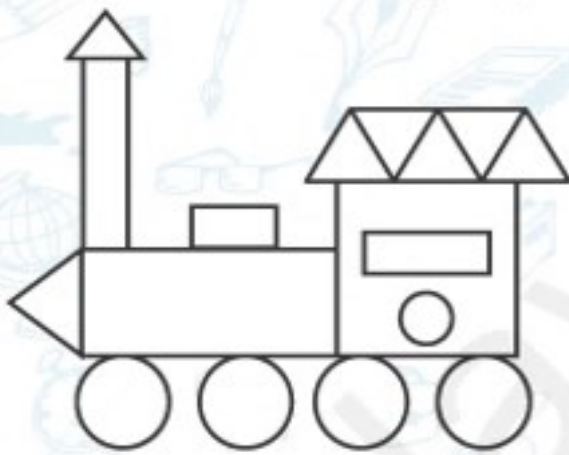
$$1 - 4 - 7 - 10 - \boxed{13} - \boxed{16}$$

$\xrightarrow{+3}$ $\xrightarrow{+3}$ $\xrightarrow{+3}$

$$1 - 3 - 5 - 7 - \boxed{9} - \boxed{11}$$

$\xrightarrow{+2}$ $\xrightarrow{+2}$ $\xrightarrow{+2}$

۴. با توجه به تصویر قطار به تعداد هر کدام از شکل‌ها خانه‌ها را رنگ کن.



مربع مثلث دایره مستطیل

۵. شکل‌های خواسته شده را با وصل کردن نقطه‌ها به هم رسم کن.

ب) ۵ گوشه دارد.

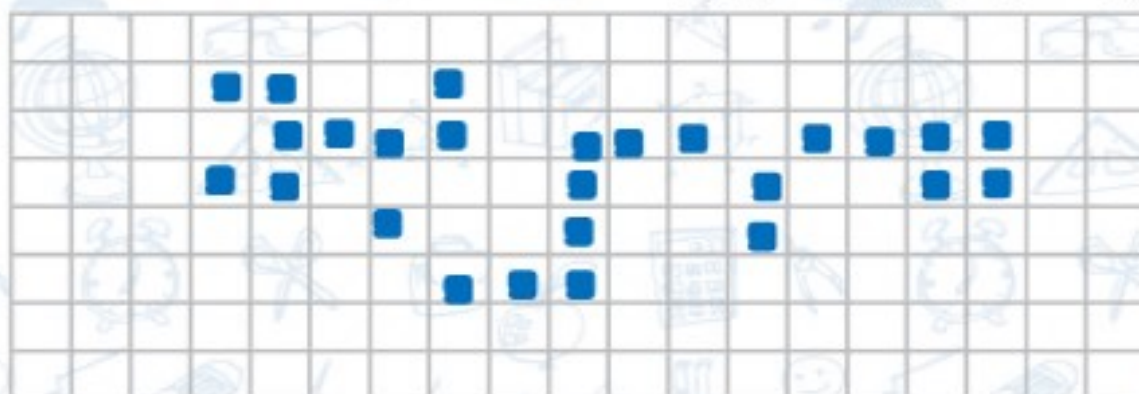


الف) ۴ ضلع و ۴ گوشه دارد، ضلع‌های رو به رو با هم برابرند.





۶. روی صفحه‌ی شطرنجی زیر نامت را بنویس.



۷۰

۷. تکه‌ی گم‌شده‌ی خانه کدام است؟



۸. کدام یک از شکل‌های زیر را روی شکل بگذاریم تا یک مستطیل ساخته شود؟

