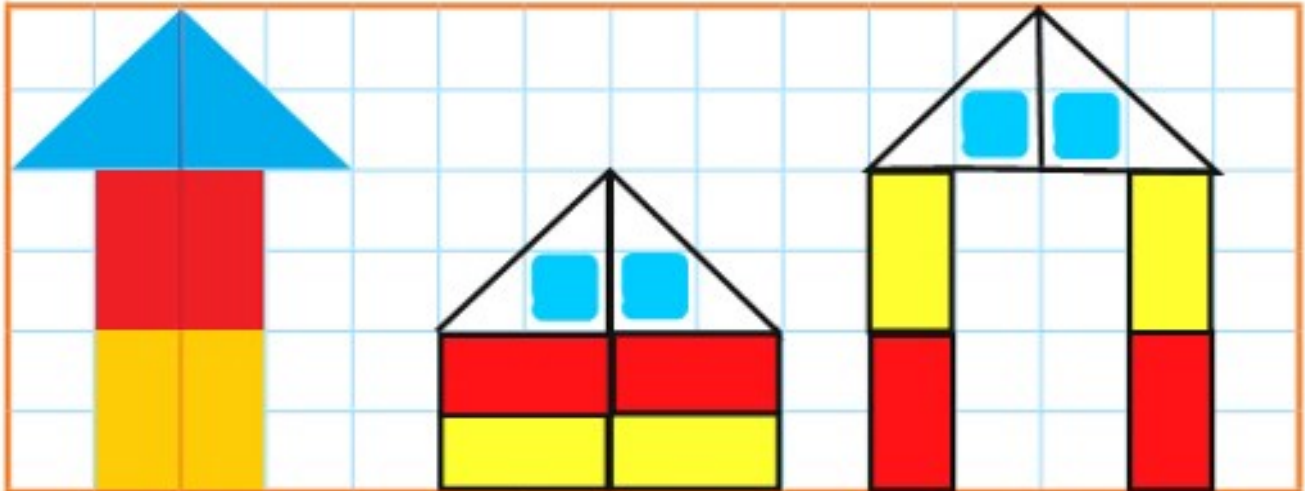


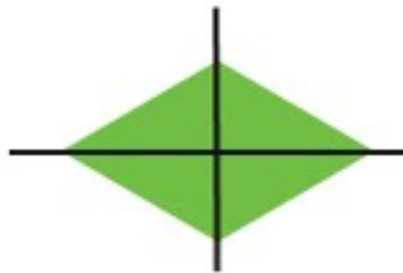
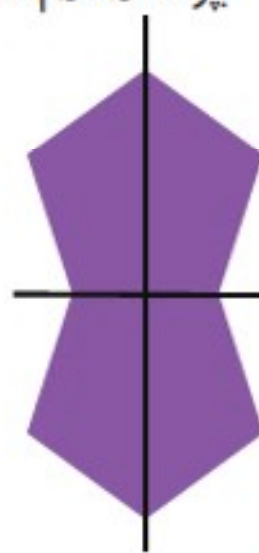


کار در کلاس

۱- ۳ مربع بردارید. ۲ تا را به نیم مربع (شکل‌های مختلف) تبدیل کنید. با استفاده از آن‌ها، شکل‌های مختلف بسازید. به کمک صفحه‌ی شطرنجی زیر، شکلی را که ساختید، مانند نمونه مشخص کنید.



۲- با تا کردن، شکل‌های زیر را به دو نیمه تقسیم کنید؛ به طوری که یکدیگر را بپوشانند. کدام شکل خط تقارن ندارد (در کدام شکل دو نیمه همدیگر را نمی‌پوشانند)؟

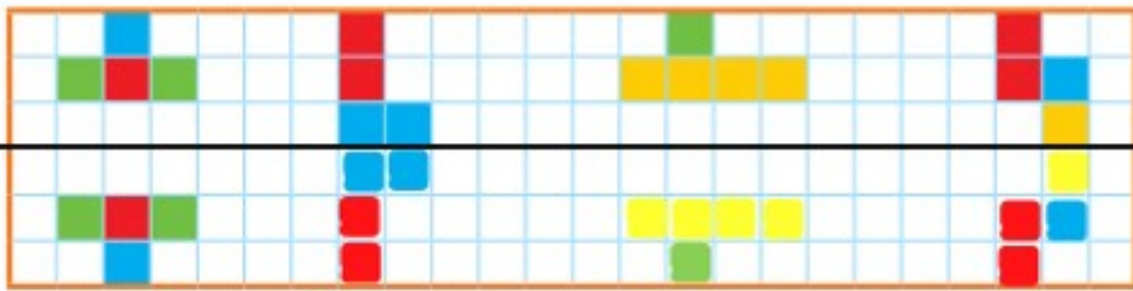


خط تقارن ندارد

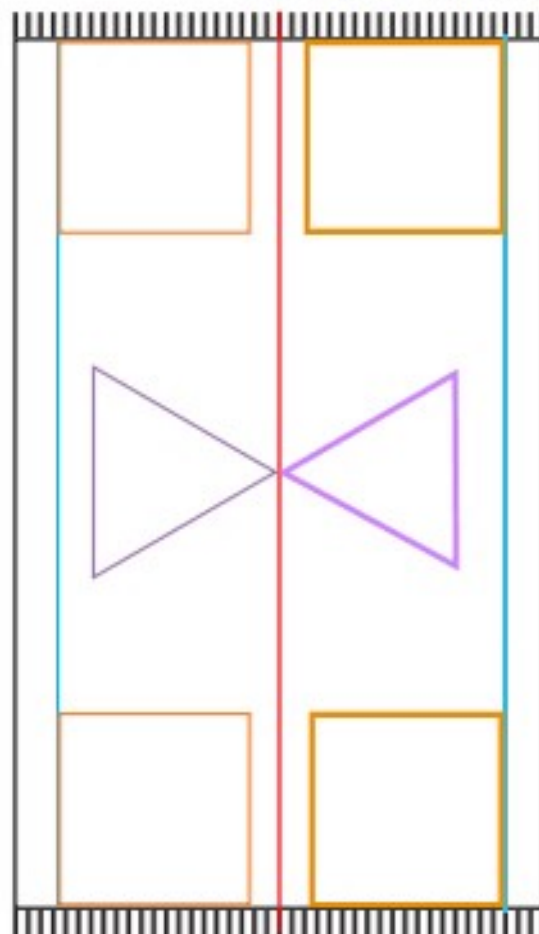
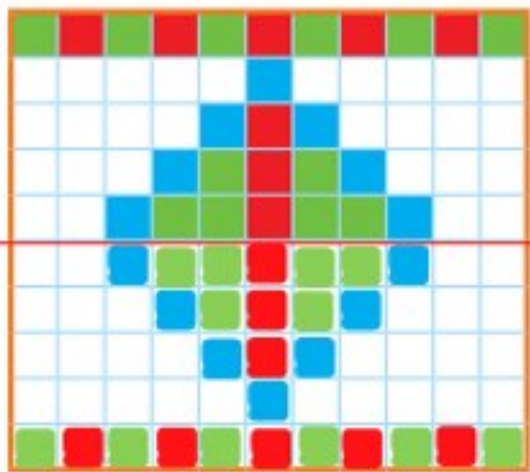
۳- ساعت چهار و نیم است. سه ساعت بعد ساعت چند است؟ ۷ و نیم



۱- با توجه به خط تقارن، نیمه‌ی دیگر شکل را مانند نمونه بکشید.



۲- از شابلون و خط‌کش کمک بگیرید. نیمه‌ی دیگر فرش و دیواری را که کاشی‌کاری شده است، کامل کنید.



۳- بدون استفاده از وسیله، وسط هر یک از ضلع‌های شکل‌های زیر را پیدا و با نقطه مشخص کنید.

