




۱- خط تقارن شکل های زیر را رسم کنید.



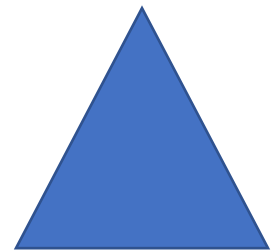

۲- یک شباهت و یک تفاوت برای شکل های زیر بنویسید.



شباهت:

تفاوت:

۳- بدون استفاده از وسیله وسط ضلع ها را پیدا کنید و بهم وصل کنید.



۴- ضلع ها و گوشه های شکل های زیر را مشخص کنید و بنویسید.




ضلع:

گوشه:



ضلع:

گوشه:




ضلع:

گوشه:



ضلع:

گوشه:



ضلع:

گوشه:



ضلع:

گوشه:

۵- الگوها را ادامه دهید.

۱۵، ۱۷، ۱۹، -----، -----، -----،

۲۳، ۲۴، ۲۶، ۲۹، -----، -----، -----،

۱۶، ۱۸، ۲۲، ۲۸ -----، -----، -----،