



به نام خدا



ریاضی دوم دبستان

آموزگار: طیبہ ریاضی



علوی
مدارس هزاره سوم

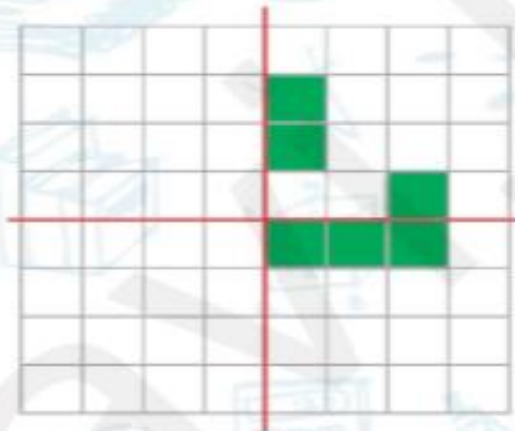


۱. با توجه به خط تقارن، نیمه‌ی دیگر شکل‌ها را کامل کن.



۷۳

۲. با توجه به خط تقارن، خانه‌های شطرنجی را رنگ کن. بعد از رنگ کردن، کدام «نشانه» دیده می‌شود؟



نشانه دیده می‌شود.

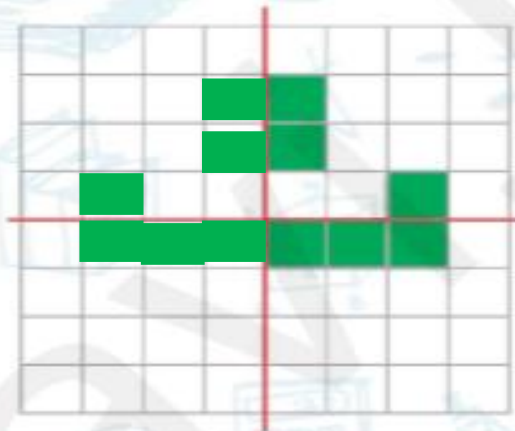


۱. با توجه به خط تقارن، نیمه‌ی دیگر شکل‌ها را کامل کن.



۷۳

۲. با توجه به خط تقارن، خانه‌های شطرنجی را رنگ کن. بعد از رنگ کردن، کدام «نشانه» دیده می‌شود؟



نشانه ت دیده می‌شود.

۳. خط رسم شده در کدامیک از شکل‌های زیر خط تقارن است؟ (دور آن خط بکش)



(پ)



(ب)



(الف)

۴. ساعت ۷ است. اگر عقربه‌ی دقیقه شمار، ۳۰ دقیقه (نیم ساعت) حرکت کند. ساعت چند می‌شود؟ آن را

روی ساعت نشان بده.



ساعت می‌شود.



۳. خط رسم شده در کدامیک از شکل‌های زیر خط تقارن است؟ (دور آن خط بکش)



(پ)



(ب)



(الف)

۴. ساعت ۷ است. اگر عقربه‌ی دقیقه شمار، ۳۰ دقیقه (نیم ساعت) حرکت کند. ساعت چند می‌شود؟ آن را

روی ساعت نشان بده.



ساعت ۷:۳۰ می‌شود.



۵. در کدامیک از شکل‌های زیر، خط کشیده شده، محور تقارن نیست؟ (دور آن خط بکش)



(ب)



(الف)



(ت)



(پ)

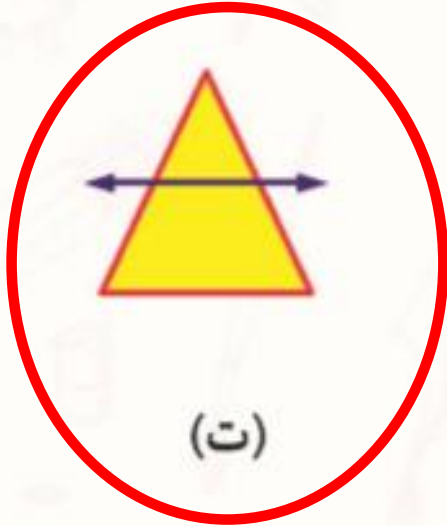
۵. در کدامیک از شکل‌های زیر، خط کشیده شده، محور تقارن نیست؟ (دور آن خط بکش)



(ب)



(الف)



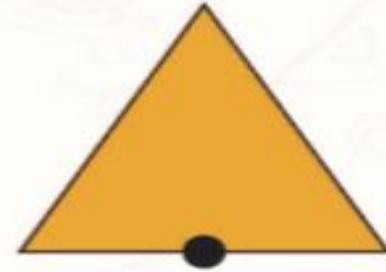
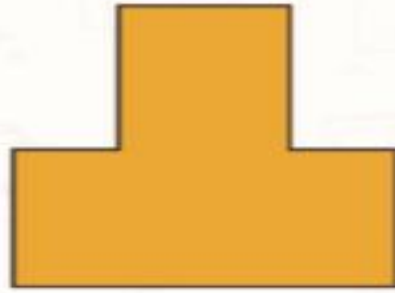
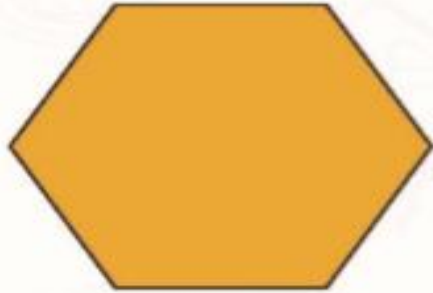
(ت)



(پ)

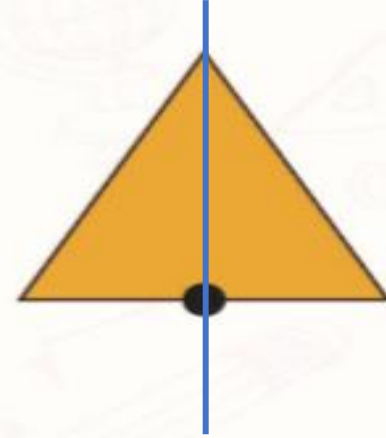
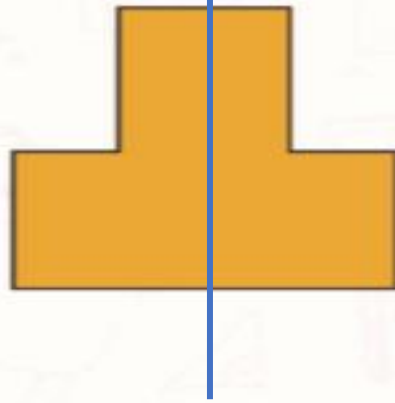
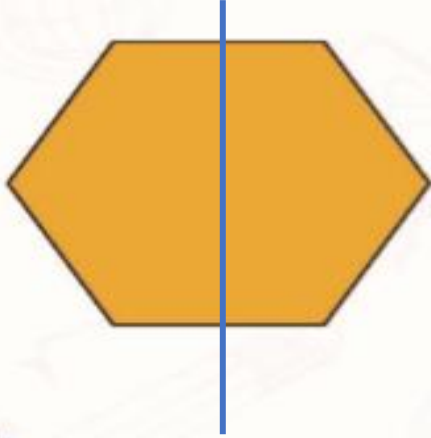
تمرین

۱. برای هر شکل طوری خط تقارن بکش که به دو نیمه‌ی کاملاً شبیه هم تقسیم شود.

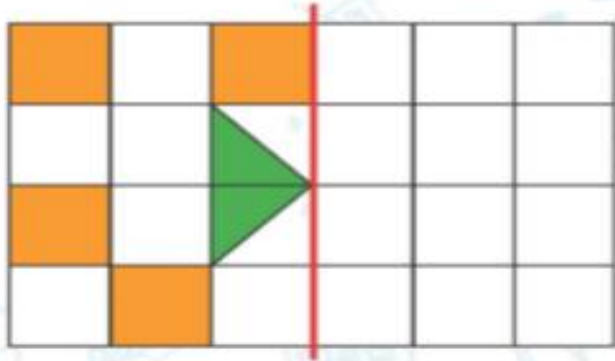


تمرین

۱. برای هر شکل طوری خط تقارن بکش که به دو نیمه‌ی کاملاً شبیه هم تقسیم شود.



۲. با توجه به خط تقارن نیمه‌ی دیگر شکل‌های زیر را رنگ آمیزی کن.



۳. زمان مربوط به هر ساعت را به دو صورت بنویس.



پ) ساعت

۲:۳۰



ب) ساعت ده و نیم

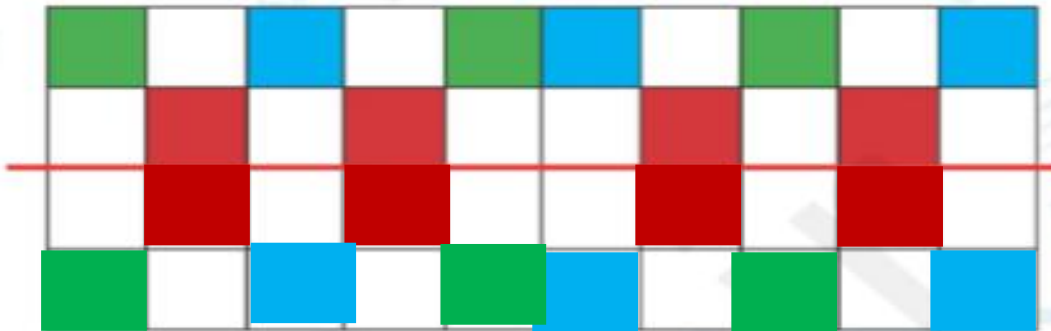
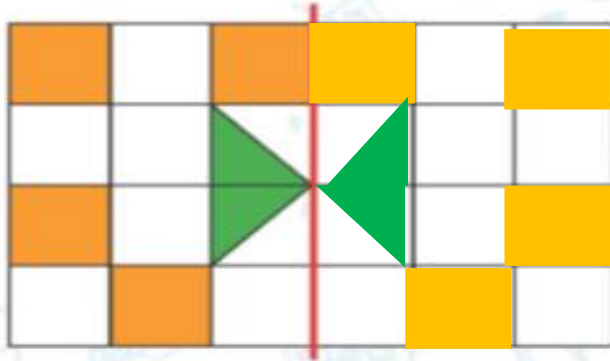
۱۰:۱۵



الف) ساعت

۱۲:۰۰

۲. با توجه به خط تقارن نیمه‌ی دیگر شکل‌های زیر را رنگ آمیزی کن.



۳. زمان مربوط به هر ساعت را به دو صورت بنویس.



(پ) ساعت دو و نیم

۲:۳۰



(ب) ساعت ده و نیم

۱۰:۳۰



(الف) ساعت دوازده و نیم

۱۲:۳۰

۶. شکل تانگرام را از انتهای کتاب کار علوی با قیچی ببر، با آن یکی از شکل‌های زیر را بساز و در کادر بچسبان.





نادرست



درست



۱. درست یا نادرست بودن هر جمله را مشخص کن.

الف) تعداد خط تقارن‌های مربع از دایره کمتر است.

ب) مثلث با ۳ ضلع برابر، ۳ خط تقارن دارد.

پ) ساعت ۱۵:۰۶ یعنی ۱۵ دقیقه به ساعت ۶ مانده است.

۲. خط‌های تقارن شکل‌های زیر را رسم کن.





۱. درست یا نادرست بودن هر جمله را مشخص کن.

الف) تعداد خط تقارن‌های مربع از دایره کمتر است.

ب) مثلث با ۳ ضلع برابر، ۳ خط تقارن دارد.

پ) ساعت ۱۵:۰۶ یعنی ۱۵ دقیقه به ساعت ۶ مانده است.

۲. خط‌های تقارن شکل‌های زیر را رسم کن.

نادرست



درست

