

١. الگوهارا ادامہ دھید.

٣، ٦، ٩، ... ٦ ... ٦ ... ٦ ...

٤، ٨، ١٢، ... ٦ ... ٦ ... ٦ ...

٥، ١٢، ١٩، ٢٦، ... ٦ ... ٦ ... ٦ ...

٢، ٥، ٩، ١٦، ... ٦ ... ٦ ... ٦ ... ٦ ...

٨، ١٥، ١٣، ١٧، ... ٦ ... ٦ ... ٦ ... ٦ ...

٧، ١١، ١٦، ... ٦ ... ٦ ... ٦ ... ٦ ...

۲. ارزش سکه های زیر را بنویسید



.....ریال



.....ریال

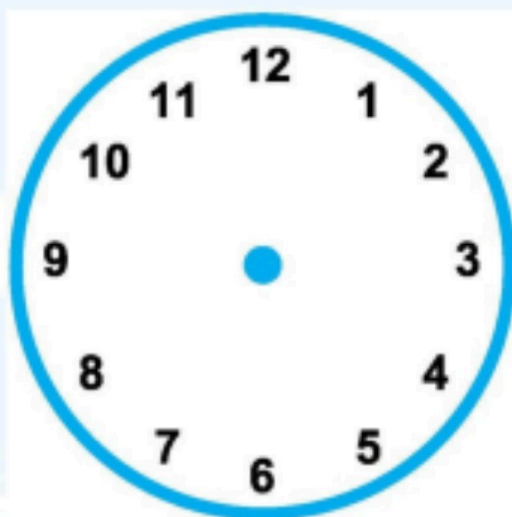



.....ریال

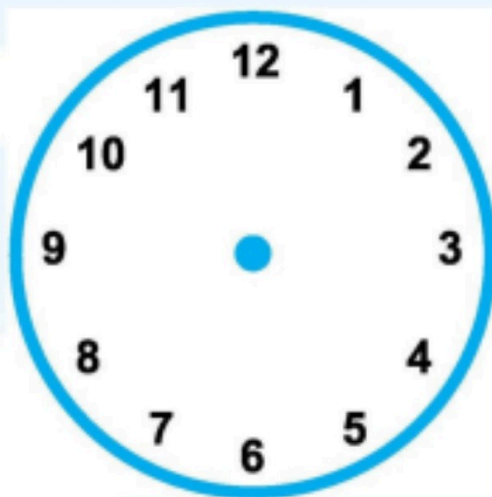


... دقیقه مانده به ... دقیقه مانده به ...

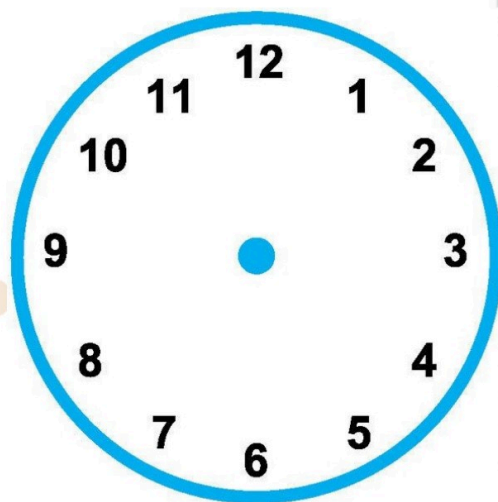

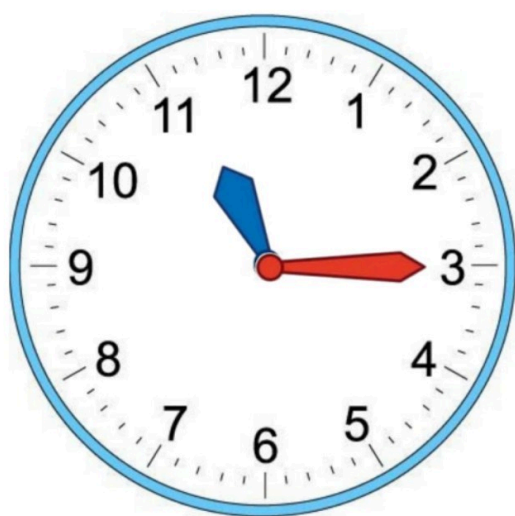
یک ساعت و ۵ دقیقه بعد چه ساعتی است؟



یک ربع بعد چه ساعتی است؟



۳۰ دقیقه بعد ساعت چند است؟



۱۰ دقیقه بعد از ساعت ۱۱، را بنویسید

۱۵ دقیقه بعد از ساعت ۲:۴۵، را بنویسید

۲۰ دقیقه بعد از ساعت ۴:۲۵، را بنویسید