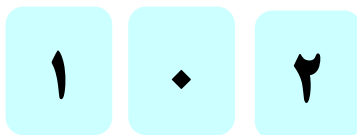


۱. با کارت رقم های ۵ و ۷ و ۳، چند عدد سه رقمی میتوانی بنویسی؟



.....

۲. با کارت رقم های ۲ و ۰ و ۱ هر چند تا میتوانی عدد سه رقمی بساز.



.....

۳. با کارت رقم های ۸ و ۹ و ۴، عدد های سه رقمی بساز.



.....

۴. جاهای خالی را کامل کن.

الف) یک بسته ی ۱۰۰ تایی = ده تایی = یکی است.

ب) ۵۰ سکه ی ۱ ریالی می شود ریال

پ) ۸ سکه ی ۱۰ ریالی می شود ریال

ت) ۳۰ سکه ی ۱ ریالی می شود سکه ی ۱۰ ریالی.

ج) یک سکه ی ۲۵۰ ریالی = سکه ی ۱۰۰ ریالی و سکه ی ۱۰ ریالی

۵. به زهرا کمک کن تعداد سکه هایش را حساب کند. ریال



آموزگاران : سفیداری - رحمانی پور

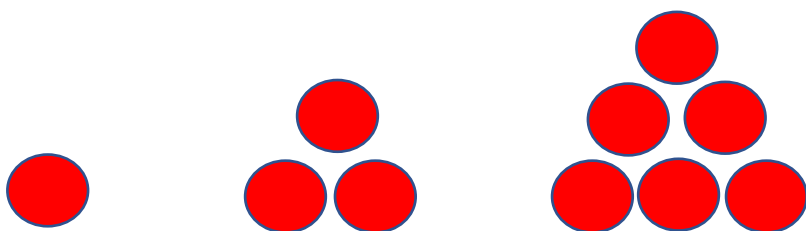
کاربرگ فصل ۴

۶. الگوهای زیر را ادامه بده .

۴ ، ۶ ، ۸ ، ۱۰ ، ، ، ،

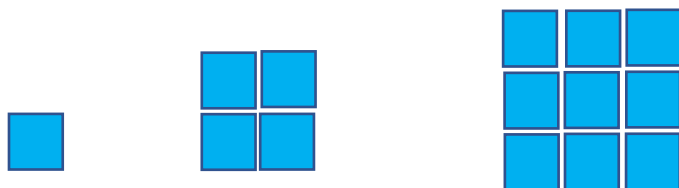
۳ ، ۶ ، ۹ ، ، ، ،

۷. شکل بعدی را بکش و الگوی آن را بنویس



۱ ، ۳ ، ۶ ، ، ،

۸. شکل بعدی را بکش و الگوی آن را بنویس.



۱ ، ۴ ، ۹ ، ، ،