




به نام خدا



ریاضی دوم دبستان


آموزگار : طیبه ریاضی








۱۰-








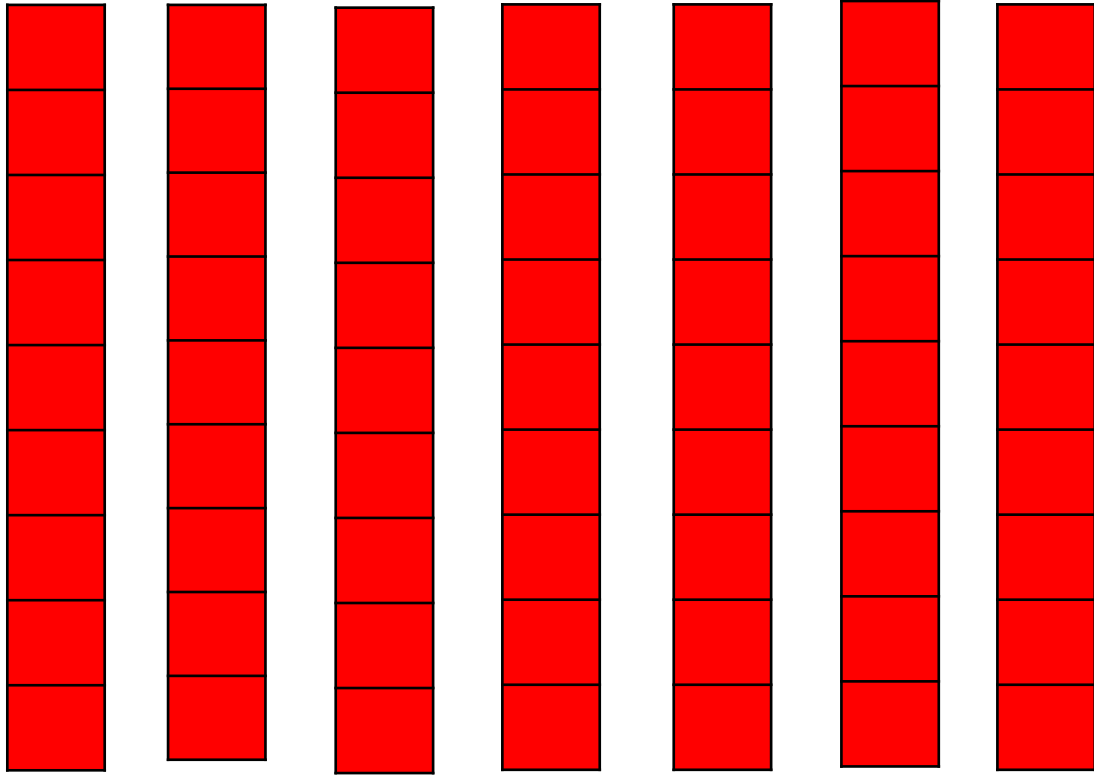





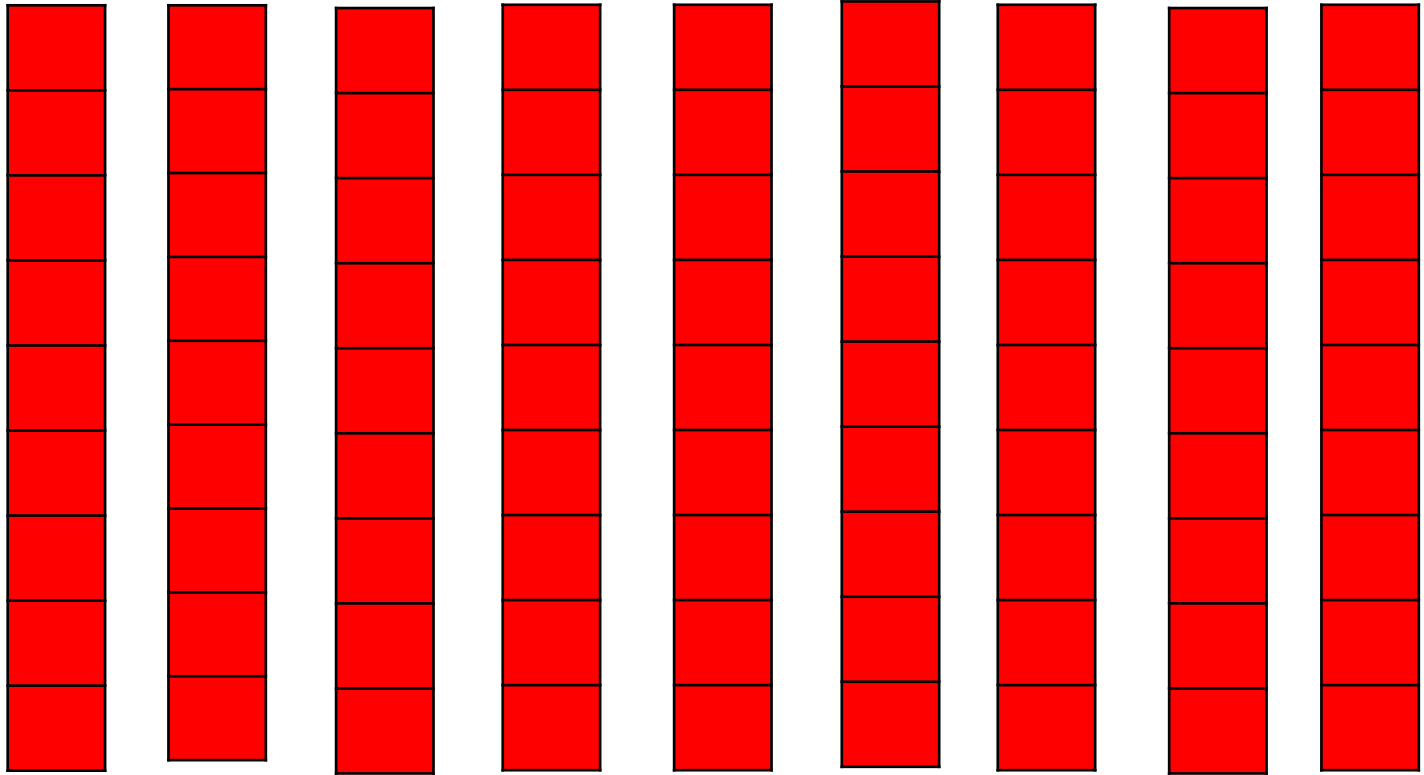
















سلام سلام بچه ها چطوره حال شما
این دو تا نه بی صدا نشسته بودن اینجا
خسته و کوفته بودن دنبال یاری بودن
یکی اومد به اونجا شاد و زرنگ و زیبا



حالا شدن سه تایی
ی دسته صد تایی
دیگه نبودن تنها
یکی ده تا و صد تا




$$99 + 1 = 100$$


واحد پول کشور ما


ریال

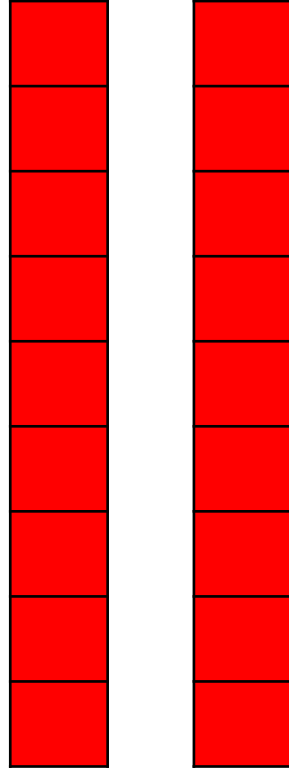


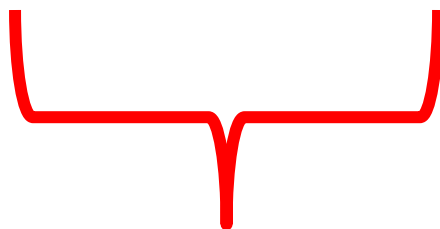





















واحد پول کشور ما ریال است.

شکل مقابل سکه‌ی یک ریالی را نشان می‌دهد.

پول به شکل سکه و اسکناس با ارزش‌های مختلف وجود دارد.

شما هم حتماً پول‌های مختلف را دیده‌اید.



فعالیت



هر کس ۱۰ سکه‌ی ۱ ریالی به بانک بدهد، می‌تواند یک

سکه‌ی ۱۰ ریالی تحویل بگیرد.

۱- اگر علی ۲۰ سکه‌ی ۱ ریالی به بانک بدهد، چند سکه‌ی ۱۰ ریالی می‌گیرد؟

۲- زهرا ۸۰ سکه‌ی ۱ ریالی به بانک داده است، چند سکه‌ی ۱۰ ریالی تحویل

می‌گیرد؟

۳- حسین ۱۰ تا سکه‌ی ۱۰ ریالی به بانک داد، بانک می‌تواند چه سکه‌ای به

او بدهد؟

۴- اگر فاطمه ۱۰۰ تا سکه‌ی ۱ ریالی به بانک تحویل دهد، بانک چند سکه‌ی ۱۰ ریالی

به او می‌دهد؟



بانک می‌تواند در مقابل ۱۰۰ تا سکه‌ی ۱ ریالی یک سکه‌ی ۱۰۰ ریالی بدهد.

اگر به بانک ۱۰ تا سکه‌ی ۱۰۰ ریالی بدهیم و یا ۱۰۰ سکه‌ی یک ریالی بدهیم، بانک به ما یک

سکه‌ی ۱۰۰ ریالی می‌دهد. فکر می‌کنید چرا در حال حاضر سکه‌های ۱ ریالی یا ۱۰۰ ریالی کم است.

در این مورد در کلاس گفت‌وگو کنید.



واحد پول کشور ما ریال است.

شکل مقابل سکه‌ی یک ریالی را نشان می‌دهد.

پول به شکل سکه و اسکناس با ارزش‌های مختلف وجود دارد.

شما هم حتما پول‌های مختلف را دیده‌اید.



فعالیت



هر کس ۱۰ سکه‌ی ۱ ریالی به بانک بدهد، می‌تواند یک

سکه‌ی ۱۰ ریالی تحویل بگیرد.



۱- اگر علی ۲۰ سکه‌ی ۱ ریالی به بانک بدهد، چند سکه‌ی ۱۰ ریالی می‌گیرد؟ **۲ سکه‌ی ده ریالی**

۲- زهرا ۸۰ سکه‌ی ۱ ریالی به بانک داده است، چند سکه‌ی ۱۰ ریالی تحویل

می‌گیرد؟ **۸ سکه‌ی ده ریالی**

۳- حسین ۱۰ تا سکه‌ی ۱۰ ریالی به بانک داد، بانک می‌تواند چه سکه‌ای به

او بدهد؟ **۱ سکه‌ی ۱۰۰ ریالی**

۴- اگر فاطمه ۱۰۰ تا سکه‌ی ۱ ریالی به بانک تحویل دهد، بانک چند سکه‌ی ۱۰ ریالی

به او می‌دهد؟ **۱۰ سکه‌ی ده ریالی**



بانک می‌تواند در مقابل ۱۰۰ تا سکه‌ی ۱ ریالی یک سکه‌ی ۱۰۰ ریالی بدهد.

اگر به بانک ۱۰ تا سکه‌ی ۱۰ ریالی بدهیم و یا ۱۰۰ سکه‌ی یک ریالی بدهیم، بانک به ما یک

سکه‌ی ۱۰۰ ریالی می‌دهد. فکر می‌کنید چرا در حال حاضر سکه‌های ۱ ریالی یا ۱۰ ریالی کم است.

در این مورد در کلاس گفت‌وگو کنید.

الگویابی کن

$$\begin{array}{ccc} ۴ & ۸ & ۱۲ \\ \text{---} & \text{---} & \text{---} \\ \text{+}۴ & \text{+}۴ & \end{array}$$

$$\begin{array}{ccc} ۳ & ۶ & ۹ \\ \text{---} & \text{---} & \text{---} \\ \text{+}۳ & \text{+}۳ & \end{array}$$

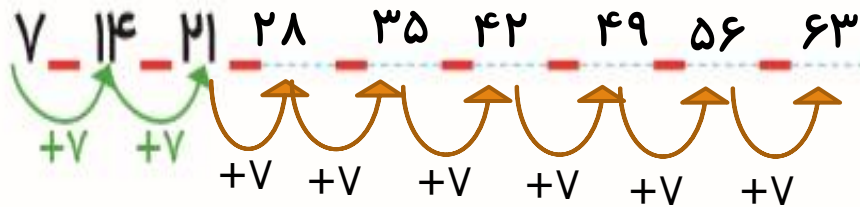
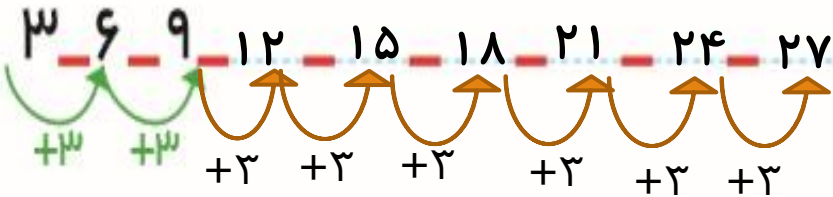
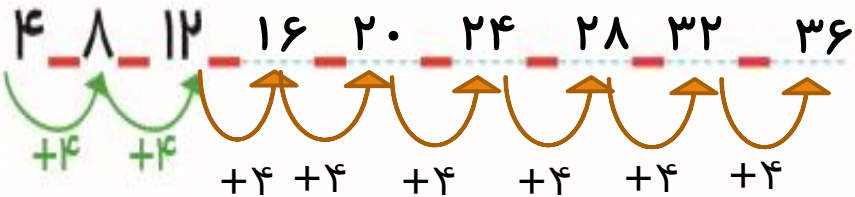
$$\begin{array}{ccc} ۷ & ۱۴ & ۲۱ \\ \text{---} & \text{---} & \text{---} \\ \text{+}۷ & \text{+}۷ & \end{array}$$



الگوهای عددی را ادامه دهید.

در مورد روش‌های مختلفی که برای پیدا کردن عددها استفاده کرده‌اید، با دوستان خود گفت‌وگو کنید.

الگویابی کن



الگوهای عددی را ادامه دهید.



در مورد روش های مختلفی که برای پیدا کردن عددها استفاده کرده اید، با دوستان خود گفت و گو کنید.

هیاوا تخصصی ترین سایت مشاوره کشور

۱- روی محور زیر عددها را بنویسید.



۲- با توجه به محور بالا جاهای خالی را کامل کنید.

$$۲۰ + ۸۰ = \dots$$

$$۳۰ + \dots = ۱۰۰$$

$$۴۰ + \dots = ۱۰۰$$

$$۱۰۰ - ۶۰ = \dots$$

$$۱۰۰ - ۱۰ = \dots$$

$$۱۰۰ - ۵۰ = \dots$$

۳- ارزش سکه‌های هر قسمت را بنویسید.



ریال



ریال



ریال



ریال

هیاوا تخصصی ترین سایت مشاوره کشور

۱- روی محور زیر عددها را بنویسید.



۲- با توجه به محور بالا جاهای خالی را کامل کنید.

$$20 + 80 = 100$$

$$30 + 70 = 100$$

$$40 + 60 = 100$$

$$100 - 60 = 40$$

$$100 - 10 = 90$$

$$100 - 50 = 50$$



۳- ارزش سکه‌های هر قسمت را بنویسید.



ریال ۳۰۰



ریال ۵۰



ریال ۴۳۰۰



ریال ۱۰۰۰

ابتدا عددهای ساعت را کامل کنید. سپس به سؤال‌های زیر پاسخ دهید.

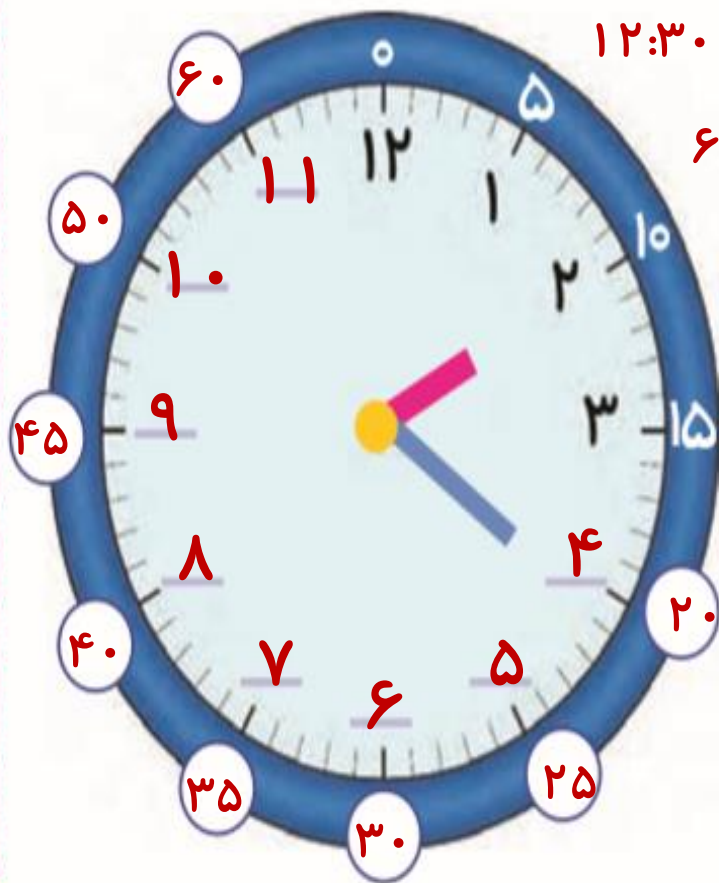
۱- ۳۰ دقیقه بعد از ساعت ۱۲:۰۰ چه ساعتی است؟

۲- ۱۵ دقیقه بعد از ساعت ۶:۰۰ چه ساعتی است؟

۳- ۱۰ دقیقه بعد از ساعت ۲:۲۰ چه ساعتی است؟



ابتدا عددهای ساعت را کامل کنید. سپس به سؤال‌های زیر پاسخ دهید.



۱۲:۳۰

۱- ۳۰ دقیقه بعد از ساعت ۱۲:۰۰ چه ساعتی است؟

۶:۱۵

۲- ۱۵ دقیقه بعد از ساعت ۶:۰۰ چه ساعتی است؟

۲:۳۰

۳- ۱۰ دقیقه بعد از ساعت ۲:۲۰ چه ساعتی است؟

