

۱- روی محور زیر عددها را بنویسید.



۲- با توجه به محور بالا جاهای خالی را کامل کنید.

$$20 + 80 = 100$$

$$30 + 70 = 100$$

$$40 + 60 = 100$$

$$100 - 60 = 40$$

$$100 - 10 = 90$$

$$100 - 50 = 50$$

۳- ارزش سکه‌های هر قسمت را بنویسید.



۳۰۰ ریال



۵۰۰ ریال



۴۳۰ ریال



۱۰۰ ریال

### کامل کن

ابتدا عددهای ساعت را کامل کنید. سپس به سؤال‌های زیر پاسخ دهید.

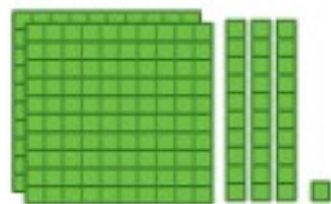
۱- ۳۰ دقیقه بعد از ساعت ۱۲:۰۰ چه ساعتی است؟ ۱۲:۳۰

۲- ۱۵ دقیقه بعد از ساعت ۶:۰۰ چه ساعتی است؟ ۶:۱۵

۳- ۱۰ دقیقه بعد از ساعت ۲:۲۰ چه ساعتی است؟ ۲:۳۰



## معرفی عددهای سه رقمی



فعالیت

۱- سعیده از مادرش تعدادی سکه گرفت. او می‌خواست بداند چقدر پول دارد. پول‌هایش را به مدرسه برد و مانند شکل روبه‌رو روی میز قرار داد.

او با دسته‌های صدتایی، ده‌تایی و یکی که از آموزگار گرفته بود، همان عدد را به صورت روبه‌رو درست کرد و به معلم خود نشان داد.

اما آموزگار یک وسیله‌ی دیگر به کلاس آورده بود. به سعیده گفت: حالا از چرتکه استفاده کن و با انداختن مهره در میله همان عدد را درست کن. سعیده هم دست به کار شد.

آموزگار از او خواست با کامل کردن جدول، عدد را بسازد تا کم‌کم متوجه شود که چقدر پول دارد. سعیده عدد را از جدول خارج کرد و نوشت: ۲۳۱.

ص	د	ی
۲	۳	۱

آموزگار هم این عدد را برایش خواند و گفت: دویست و سی و یک.

۲- آموزگار دسته‌های صدتایی، ده‌تایی و یکی را به گروه‌های ۲ نفره‌ی کلاس داد. سپس از آن‌ها خواست به تعداد دسته‌هایی که او می‌گوید، از هر کدام بردارند و یک عدد درست کنند.

شما هم این عددها را درست کنید و در جدول ارزش مکانی قرار دهید. سپس عدد را از جدول خارج کرده و با رقم و با حروف بنویسید.

ص	د	ی
۳	۴	۷

۳ دسته‌ی صدتایی ۴ دسته‌ی ده‌تایی و ۷ تا یکی.

به عدد: ۳۴۷

به حروف: سیصد و چهل و هفت

ص	د	ی
۵	۳	۴

۵ دسته‌ی صدتایی ۳ دسته‌ی ده‌تایی و ۴ تا یکی.

به عدد: ۵۳۴

به حروف: پانصد و سی و چهار

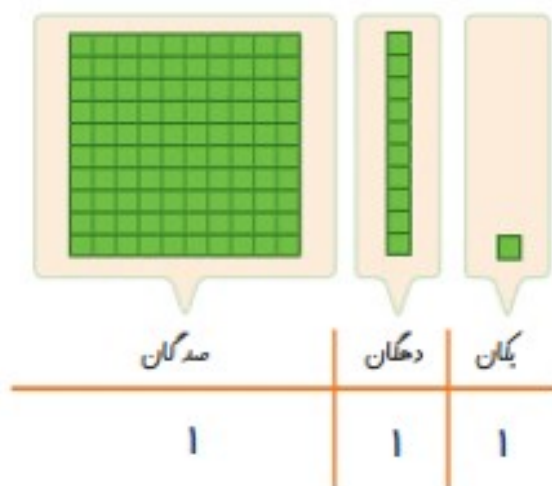
۳- الگوها را ادامه دهید.

۱۰۰، ۲۰۰، ۳۰۰، ۴۰۰، ۵۰۰، ۶۰۰، ۷۰۰، ۸۰۰، ۹۰۰

صد، دویست، سیصد، چهارصد، پانصد، ششصد، هفتصد، هشتصد، نهصد



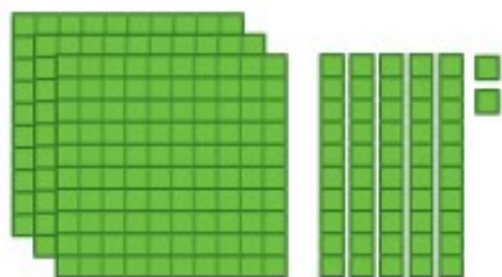
اکنون برای درست کردن عددهای مختلف می‌توانیم از یکان، دهگان و صدگان استفاده کنیم.



عددی را که هر شکل نشان می‌دهد، در جدول قرار دهید و سپس با رقم و حروف بنویسید.



کار در کلاس



صدگان	دهگان	یکان
۳	۵	۲

۳۵۲

سیصد و پنجاه و دو



صدگان	دهگان	یکان
۵	۳	۷

۵۳۷

پانصد و سی و هفت



صدگان	دهگان	یکان
۲	۰	۳

۲۰۳

دویست و سه



صدگان	دهگان	یکان
۳	۴	۰

۳۴۰

سیصد و چهل