



به نام خدا

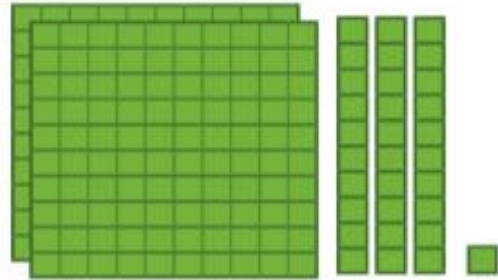


ریاضی دوم دبستان

آموزگار: طیبه ریاضی



معرفی عدد‌های سه رقمی



۱- سعیده از مادرش تعدادی سکه گرفت.
او می‌خواست بداند چقدر پول دارد. پول‌هایش را
به مدرسه برد و مانند شکل روبه‌رو روی میز
قرار داد.

او با دسته‌های صدتایی، ده‌تایی و یکی که از
آموزگار گرفته بود، همان عدد را به صورت روبه‌رو
درست کرد و به معلم خود نشان داد.

اما آموزگار یک وسیله‌ی دیگر به کلاس آورده بود.
به سعیده گفت: حالا از چرتکه استفاده کن و با انداختن
مهره در میله همان عدد را درست کن. سعیده هم دست به کار شد.

آموزگار از او خواست با کامل کردن جدول، عدد را بسازد تا کم‌کم متوجه شود که چقدر
پول دارد. سعیده عدد را از جدول خارج کرد و نوشت:

ص	د	س

آموزگار هم این عدد را برایش خواند و گفت: دویست و سی و یک



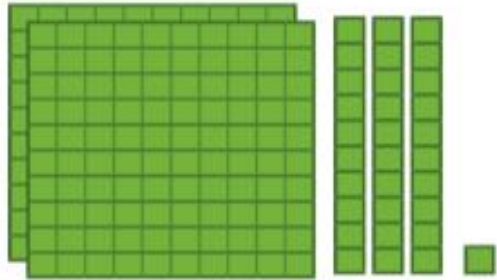
معرفی عدد‌های سه رقمی



۱- سعیده از مادرش تعدادی سکه گرفت. او می‌خواست بداند چقدر پول دارد. پول‌هایش را به مدرسه برد و مانند شکل روبه‌رو روی میز قرار داد.



فعالیت



او با دسته‌های صدتایی، ده‌تایی و یکی که از آموزگار گرفته بود، همان عدد را به صورت روبه‌رو درست کرد و به معلم خود نشان داد.



اما آموزگار یک وسیله‌ی دیگر به کلاس آورده بود. به سعیده گفت: حالا از چرتکه استفاده کن و با انداختن مهره در میله همان عدد را درست کن. سعیده هم دست به کار شد.

آموزگار از او خواست با کامل کردن جدول، عدد را بسازد تا کم‌کم متوجه شود که چقدر پول دارد. سعیده عدد را از جدول خارج کرد و نوشت: ۲۳۱

ص	د	س
۲	۳	۱

آموزگار هم این عدد را برایش خواند و گفت: دویست و سی و یک

۲- آموزگار دسته‌های صدتایی، ده‌تایی و یکی را به گروه‌های ۲ نفره‌ی کلاس داد. سپس از آن‌ها خواست به تعداد دسته‌هایی که او می‌گوید، از هر کدام بردارند و یک عدد درست کنند.

شما هم این عددها را درست کنید و در جدول ارزش مکانی قرار دهید. سپس عدد را از جدول خارج کرده و با رقم و با حروف بنویسید.

۳ دسته‌ی صدتایی ۴ دسته‌ی ده‌تایی و ۷ تا یکی.

به عدد:

به حروف:

ص	د	ی

۵ دسته‌ی صدتایی ۳ دسته‌ی ده‌تایی و ۴ تا یکی.

به عدد:

به حروف:

ص	د	ی

۳- الگوها را ادامه دهید.

۱۰۰، ۲۰۰، ۳۰۰،،،،

صد، دویست، سیصد، چهارصد، پانصد،،،

۲- آموزگار دسته‌های صدتایی، ده‌تایی و یکی را به گروه‌های ۲ نفره‌ی کلاس داد. سپس از آن‌ها خواست به تعداد دسته‌هایی که او می‌گوید، از هر کدام بردارند و یک عدد درست کنند.

شما هم این عددها را درست کنید و در جدول ارزش مکانی قرار دهید. سپس عدد را از جدول خارج کرده و با رقم و با حروف بنویسید.

۳ دسته‌ی صدتایی ۴ دسته‌ی ده‌تایی و ۷ تا یکی.

به عدد: **۳۴۷**

به حروف: **سیصد و چهل و هفت**

ص	د	ی
۳	۴	۷

۵ دسته‌ی صدتایی ۳ دسته‌ی ده‌تایی و ۴ تا یکی.

به عدد: **۵۳۴**

به حروف: **پانصد و سی و چهار**

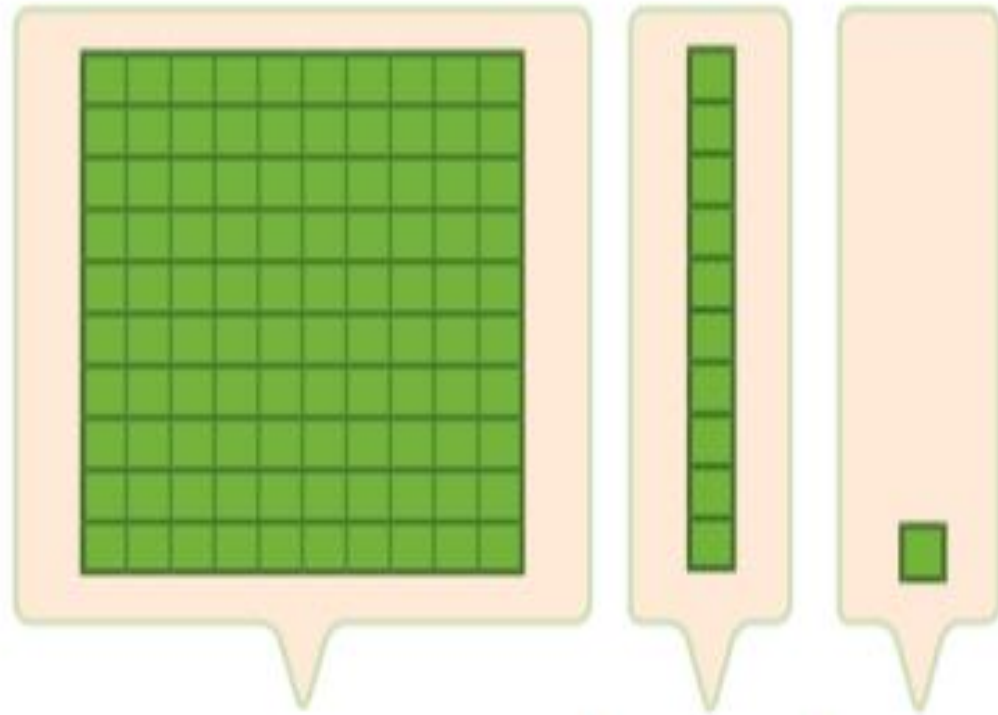
ص	د	ی
۵	۳	۴

۳- الگوها را ادامه دهید.

۱۰۰، ۲۰۰، ۳۰۰، **۴۰۰**، **۵۰۰**، **۶۰۰**، **۷۰۰**، **۸۰۰**، **۹۰۰**

صد، دویست، سیصد، چهارصد، پانصد، **ششصد**، **هفتصد**، **هشتصد**، **نهمصد**

اکنون برای درست کردن عددهای مختلف می توانیم از یکان، دهگان و صدگان استفاده کنیم.



صدگان

دهگان

یکان

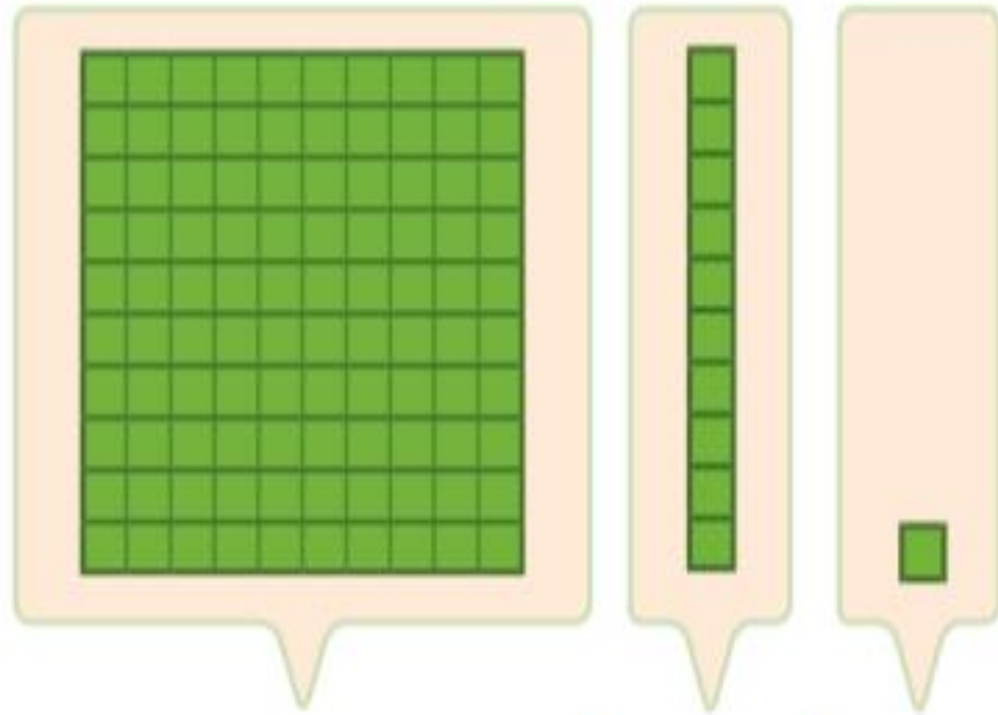


صدگان

دهگان

یکان

اکنون برای درست کردن عددهای مختلف می توانیم از یکان، دهگان و صدگان استفاده کنیم.



صدگان

دهگان

یکان

۱

۱

۱



صدگان

دهگان

یکان

۱

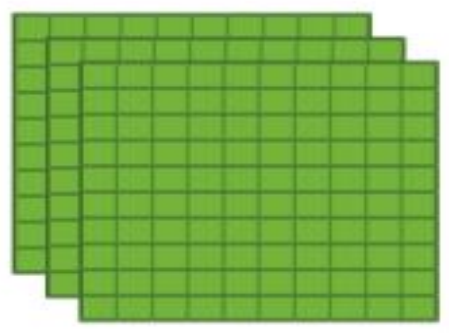
۱

۱

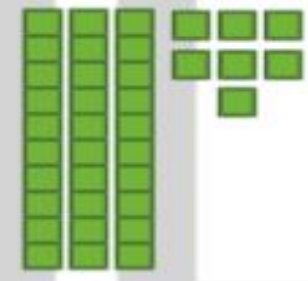



کار در کلاس

عددی را که هر شکل نشان می‌دهد، در جدول قرار دهید و سپس با رقم و حروف بنویسید.



صدگان	دهگان	یکان



صدگان	دهگان	یکان



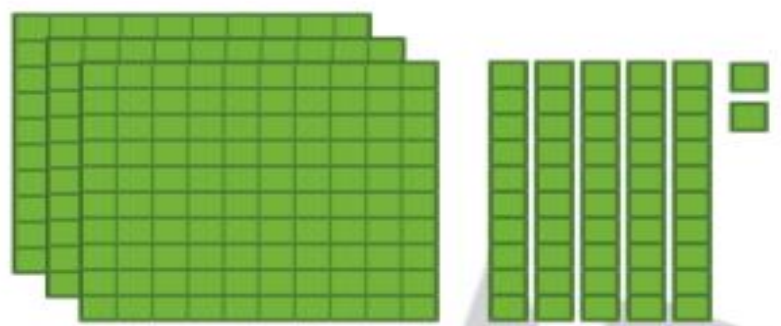
صدگان	دهگان	یکان



صدگان	دهگان	یکان

کار در کلاس

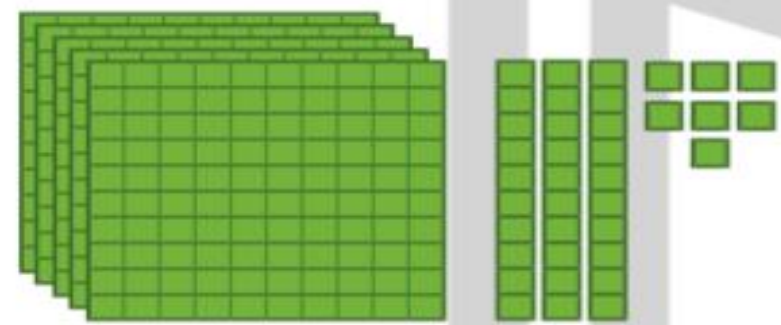
عددی را که هر شکل نشان می‌دهد، در جدول قرار دهید و سپس با رقم و حروف بنویسید.



یکان	دهگان	صدگان
۲	۵	۳

۳۵۲

سیصد و پنجاه و دو



یکان	دهگان	صدگان
۷	۳	۵

۵۳۷

پانصد و سی و هفت



یکان	دهگان	صدگان
۳	۰	۲

۲۰۳

دویست و سه



یکان	دهگان	صدگان
۰	۴	۳

۳۴۰

سیصد و چهل