



به نام خدا



# ریاضی دوم دبستان

آموزگار: طیبه ریاضی



**علوی**  
مدارس هزاره سوم

## هيووا تخصصى ترين سايت مشاوره کشور

۱- به حروف بنويسيد.

۵۰۸

۳۴۹

۳۰۰

۴۲۰



۲- به رقم بنويسيد.

هشتصد و هفتاد و پنج

چهارصد و نه

ششصد

دويست و پنجاه

۳- سگه‌ی زیر را با چند تا سگه‌ی ۱۰۰ ریالی و چند تا سگه‌ی ۱۰ ریالی می‌توان عوض کرد؟



سگه‌ی ۱۰۰ ریالی و سگه‌ی ۱۰ ریالی

۴- پدر علی سگه‌های زیر را به او داده است. علی چند ریال دارد؟



۵- دبستان شما حدوداً چند دانش آموز دارد؟

به عدد: ..... به حروف:

## هیاوا تخصصی ترین سایت مشاوره کشور

۱- به حروف بنویسید.

سیصد و چهل و نه ..... ۳۴۹

پانصد و هشت ..... ۵۰۸

چهارصد و بیست ..... ۴۲۰

سیصد ..... ۳۰۰

۲- به رقم بنویسید.

چهارصد و نه ..... ۴۰۹

هشتصد و هفتاد و پنج ..... ۸۷۵

دویست و پنجاه ..... ۲۵۰

ششصد ..... ۶۰۰

۳- سکه‌ی زیر را با چند تا سکه‌ی ۱۰۰ ریالی و چند تا سکه‌ی ۱۰ ریالی می‌توان عوض کرد؟



..... ۲ سکه‌ی ۱۰۰ ریالی و ..... ۵ سکه‌ی ۱۰ ریالی

۴- پدر علی سکه‌های زیر را به او داده است. علی چند ریال دارد؟



۵۰۰



۶۰




۴

۵- دبستان شما حدوداً چند دانش‌آموز دارد؟

به عدد: ۵۶۴ به حروف: پانصد و شصت و چهار





یک دیوار با کاشی‌هایی به شکل روبه‌رو کاشی‌کاری شده است. شما ۴ رنگ انتخاب کنید. فقط با استفاده از این ۴ رنگ تمام کاشی‌ها را رنگ کنید. طوری که هیچ دو کاشی کنار یک‌دیگر، هم رنگ نباشند.

## کار در کلاس



۱. جاهای خالی را با کلمات و اعداد مناسب پر کن.

الف) یک بسته ۰۰ تایی = ..... ده تایی = ..... یکی (پ) ۳۰ سکه‌ی ۱ ریالی = ..... سکه ۰ ۱ ریالی

ب) ۵۰ سکه‌ی ۱ ریالی = ..... سکه‌ی ۰ ۱ ریالی (ت) ۱۰۰ سکه‌ی ۱ ریالی = ..... سکه‌ی ۰ ۵ ریالی

۲. پاسخ صحیح را به گزینه‌های سمت راست وصل کن.

۰ بسته‌ی ده تایی ☹️

۰ ۳:۳ دقیقه ☹️

۰ ۷:۳ دقیقه ☹️

۰ ۱۰۰ ریال ☹️

☹️ ۲ دقیقه بعد از ساعت ۰ ۱:۳ دقیقه

☹️ ۰ ۷+۳

☹️ ۰ ۳ دقیقه بعد از ساعت ۷

☹️ ۰ ۱ سکه‌ی ۰ ۱ ریالی

## کار در کلاس



۱. جاهای خالی را با کلمات و اعداد مناسب پر کن.

الف) یک بسته ۰۰ تایی = ۱۰۰۰ ده تایی = ۱۰۰۰ یکی (پ) ۳۰ سکه ۱ ریالی = ۳۰۰۰ سکه ۰ ریالی

ب) ۵۰ سکه ۱ ریالی = ۵۰۰۰ سکه ۰ ریالی (ت) ۱۰۰ سکه ۱ ریالی = ۲۰۰۰ سکه ۰ ریالی

۲. پاسخ صحیح را به گزینه‌های سمت راست وصل کن.

۲ دقیقه بعد از ساعت ۱۰:۳۰ دقیقه  ۱ بسته ۱۰ تایی 

۳۰ + ۷۰  ۳:۳۰ دقیقه 

۳ دقیقه بعد از ساعت ۷  ۷:۳۰ دقیقه 

۱ سکه ۰ ریالی  ۱۰۰ ریال 

۳. به اندازه‌ی زمان خواسته شده، عقربه‌های ساعت را تغییر بده و در ساعت (۲) عقربه بکش. سپس زمان را زیر آن بنویس.



..... : .....

(۱)

۱۰ دقیقه بعد



..... : .....

(۲)

۴. در هر قسمت با استفاده از محور در جای خالی عدد مناسب بنویس.

$$۱۰ + \square = ۵۰$$



$$۶۰ + \square = ۱۰۰$$



۳. به اندازه‌ی زمان خواسته شده، عقربه‌های ساعت را تغییر بده و در ساعت (۲) عقربه بکش. سپس زمان را زیر آن بنویس.



۱۲ : ۳۰

(۱)

۱۰ دقیقه بعد



۱۲ : ۴۰


(۲)

۴. در هر قسمت با استفاده از محور در جای خالی عدد مناسب بنویس.

$$۱۰ + \boxed{۴۰} = ۵۰$$



$$۶۰ + \boxed{۴۰} = ۱۰۰$$







۱. درست یا نادرست بودن جمله‌ها را مشخص کن.

(الف) در شمارش اعداد به ترتیب عدد قبل از ۹۸، ۹۹ و عدد بعد از آن ۱۰۰ می‌باشد.

(ب) در شمارش ۱۰ تا ۱۰۰، عدد بعد از ۹۰، ۱۰۰ است.

(پ) حاصل جمع  $70 + 10$  با حاصل تفریق  $90 - 20$  برابر است.

۲. زمان را تغییر بده و برای ساعت (۲) عقربه بکش، سپس زمان آن را بنویس.

نادرست



درست



(الف)



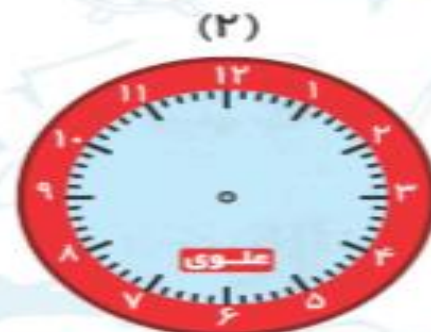

۵ دقیقه بعد



(ب)



۴۰ دقیقه بعد





۱. درست یا نادرست بودن جمله‌ها را مشخص کن.

الف) در شمارش اعداد به ترتیب عدد قبل از ۹۸، ۹۹ و عدد بعد از آن ۱۰۰ می‌باشد.

ب) در شمارش ۱۰ تا ۱۰۰، عدد بعد از ۹۰، ۱۰۰ است.

پ) حاصل جمع  $70 + 10$  با حاصل تفریق  $90 - 20$  برابر است.



۲. زمان را تغییر بده و برای ساعت (۲) عقربه بکش، سپس زمان آن را بنویس.

نادرست





درست



الف) (۱)   $\xrightarrow{5 \text{ دقیقه بعد}}$  (۲) 

۱ : ۵۰

۱ : ۵۵

ب) (۱)   $\xrightarrow{40 \text{ دقیقه بعد}}$  (۲) 

۸ : ۲۰

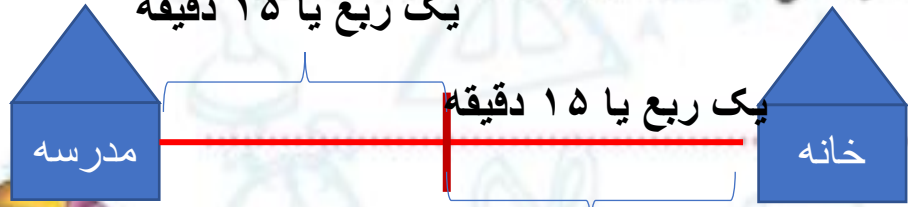
۹ : ۰۰

۳. یک ربع طول می کشد که درنا نصف راه خانه تا مدرسه را برود. چقدر طول می کشد که او از مدرسه به خانه برسد؟

۴. من کدام عدد هستم؟ یکانم کوچک ترین عدد یک رقمی، دهگانم ۵ تا بیشتر از یکانم و صدگانم ۲ تا بیشتر از دهگانم است.



۳. یک ربع طول می کشد که در نا نصف راه خانه تا مدرسه را برود. چقدر طول می کشد که او از مدرسه به خانه برسد؟  
یک ربع یا ۱۵ دقیقه



نیم ساعت طول می کشد.  $۱۵+۱۵=۳۰$

۴. من کدام عدد هستم؟ یکانم کوچک ترین عدد یک رقمی، دهگانم ۵ تا بیشتر از یکانم و صدگانم ۲ تا بیشتر

از دهگانم است.

صدگان	دهگان	یکان
۷	۵	.

به عدد: ۷۵۰

به حروف: هفتصد و پنجاه



۵. قیمت هر اسباب بازی در کنار آن نوشته شده است. هر کدام را با کدام سکه ها می توان خرید؟

(پ)



۳۲۲ ریال

(ب)



۴۰۳ ریال

(الف)



۳۲۵ ریال

۵. قیمت هر اسباب بازی در کنار آن نوشته شده است. هر کدام را با کدام سکه ها می توان خرید؟

(پ)



۳۲۲ ریال

(ب)



۴۰۳ ریال

(الف)



۳۲۵ ریال



✂ ۶. از انتهای کتاب کار علوی دسته‌های ۰ اتایی را با قیچی جدا کن و یک دسته‌ی صدتایی درست کن.

برای ساختن آن چند دسته‌ی ۰ اتایی را کنار هم قرار دادی؟

