



به نام خدا



ریاضی دوم دبستان

آموزگار: طیبه ریاضی



علوی
مدارس هزاره سوم

تقریب با حذف رقم

با حذف رقم یکان

با حذف رقم یکان و دهگان

۵۲۷



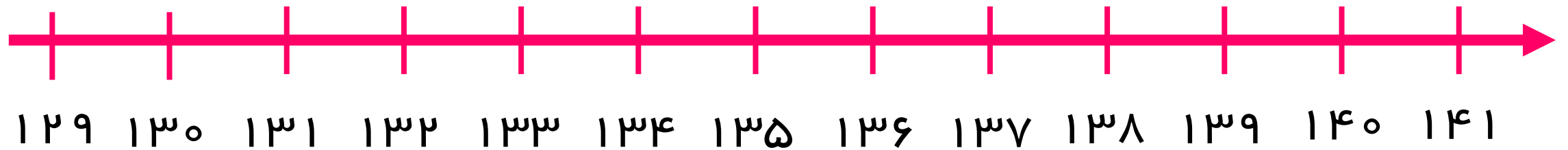

۴۰۲



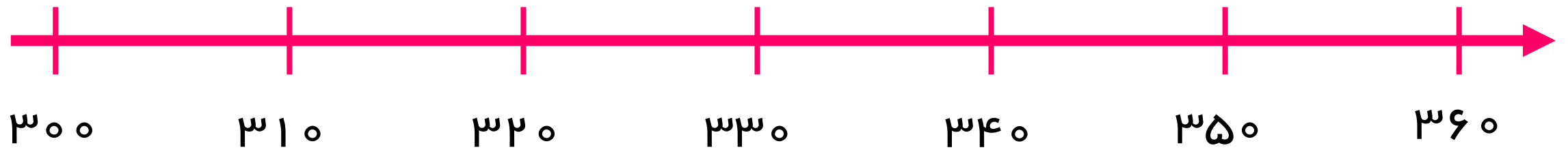

۲۷۳



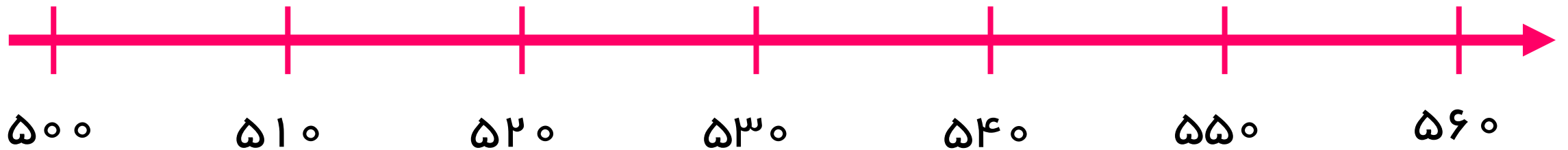

تقریب به دهتایی ها



تقریب به دهتایی ها



تقریب به دهتایی ها



120

127

130

450

452

460

770

773

329

ሦሥ

፩

፩

፩

عددهای زیر را مانند نمونه (با حذف رقم یکان و قرار دادن صفر به جای آن) به صورت تقریبی بنویسید.

$$۷۳۱ \longrightarrow ۷۳۰$$

$$۶۳۵ \longrightarrow ۶۳۰$$

$$۵۹۲ \longrightarrow ۵۹۰$$

عددهای زیر را با حذف رقم یکان و دهگان و قرار دادن صفر به جای آنها به صورت تقریبی بنویسید.

$$۱۲۴ \longrightarrow ۱۰۰$$

$$۲۳۵ \longrightarrow ۲۰۰$$

$$۴۱۷ \longrightarrow ۴۰۰$$

هیاوا تخصصی ترین



۱- با توجه به الگوهای عددی صفحات قبل، جدول اعداد روبه رو را کامل کنید.

۱۰	۲۰	۳۰	۴۰	۵۰	۶۰	۷۰	۸۰	۹۰	۱۰۰
۱۱۰	۱۲۰	۱۳۰	۱۴۰	۱۵۰	۱۶۰	۱۷۰	۱۸۰	۱۹۰	۲۰۰
۲۱۰	۲۲۰	۲۳۰	۲۴۰	۲۵۰	۲۶۰	۲۷۰	۲۸۰	۲۹۰	۳۰۰
			۳۴۰						
						۴۷۰			۵۰۰
		۶۳۰							
			۷۴۰						۸۰۰
					۸۶۰				
۹۱۰		۹۳۰					۹۸۰		😊



چه الگوهایی را در این جدول می بینید؟ در کلاس گفت و گو کنید.

۲- مقدار پول را در هر قسمت بنویسید.



۴۰۰۰



۴۳۰۰



۴۰۰۰

شکل را طوری رنگ کنید که به صورت افقی و عمودی تقارن داشته باشد.

