



نام آموزگار:

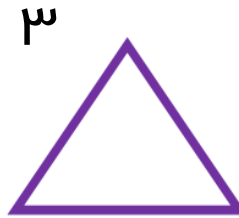


به نام خدا
پیش دبستان و دبستان پسرانه
(شعبه تهران شرق)
سال تحصیلی:

علوی

نام و نام خانوادگی:



۱- نام شکل‌های زیر را روی خود شکل بنویس و بنویس چند ضلع و چند گوشه دارند.

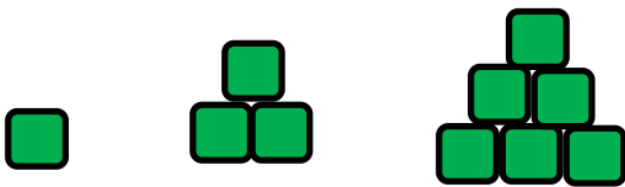


شباهت‌ها و تفاوت‌های شکل ۲ و ۴ را بنویسید.

شباهت:

تفاوت:

۲- اگر کشیدن چینه‌ها را همین‌طور ادامه دهیم شکل چهارم، پنجم چند چینه خواهد داشت؟



(۱)

(۲)

(۳)


(۴)

(۵)


حالا الگوی عددی شکل بالا را بنویس.

.....


۳- برای هر قسمت یک ساعت بکش و ساعت خواسته شده را نشان بده.




یک ربع مانده به ۱۲



ساعت ۱۱ و نیم



ساعت ۱۱ و ربع



ساعت ۱۱

۴- جمع و تفریق زیر را به روش فرایندی یا گسترده نویسی حل کن.

$$\begin{array}{r} 35 \\ + 28 \\ \hline \end{array}$$

$$\begin{array}{r} 92 \\ - 64 \\ \hline \end{array}$$

۵- چند عدد دو رقمی می توان ساخت که رقم دهگانش ۴ یا ۵ و رقم یکان آن ۶، ۷ یا ۸

باشد؟