



۱) عزیزم، به خرگوش بازیگوش کمک کن تا الگوهای عددی زیر را ادامه دهد.

.....، .....، .....، ۸۵، ۹۰، ۹۵

.....، .....، .....، ۱۱۰، ۱۲۰، ۱۳۰

.....، .....، .....، ۲۱، ۲۴، ۲۷

.....، .....، .....، ۴، ۸، ۱۲

به روش فرآیندی

$$\begin{array}{r} 96 \\ - 48 \\ \hline \end{array} \quad \begin{array}{r} 65 \\ + 28 \\ \hline \end{array} \quad \begin{array}{r} 53 \\ - 32 \\ \hline \end{array}$$

۲) باهوشم، جمع و تفریق‌های زیر را انجام بده.

به هر روشی که دوست داری

$$\begin{array}{r} 105 \\ - 9 \\ \hline \end{array} \quad 15 + 20 + 10 + 5 =$$

۳) دانش‌آموز زرنگ من، همه عددهای دو رقمی که می‌توان با رقم‌های ۸، ۲ برای یکان و ۵، ۷ برای دهگان نوشت را بنویس (با تفکر نظام‌دار).

۴) دختر پر تلاشم، حاصل جمع و تفریق‌ها را به صورت تقریبی بدست آورید.

$$\begin{array}{r} 69 \\ + 22 \\ \hline \end{array} \rightarrow \begin{array}{r} \phantom{69} \\ + \phantom{22} \\ \hline \end{array} \quad \begin{array}{r} 58 \\ - 43 \\ \hline \end{array} \rightarrow \begin{array}{r} \phantom{58} \\ - \phantom{43} \\ \hline \end{array}$$

۵) شکوفه‌های باهوش، برای هر شکل خط تقارن بکش و سپس نشان بده کدام شکل خط تقارن ندارد؟



۶) دانای من، شباهت و تفاوت این دو شکل را بنویس.



شباهت: .....




تفاوت: .....

۷) دختر پر تلاشم! با کارت‌های ۳، ۷، ۵ هر چه می‌توانی عدد سه رقمی بساز.

حالا بین عددهایی که نوشتی بیشترین و کمترین عدد را بنویس.

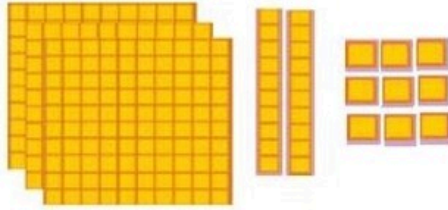
..... بیشترین: ..... کمترین: .....

۸ عزیزم! تعداد هر کدام را بشمار و جدول را کامل کن، سپس با عدد و حروف بنویس.



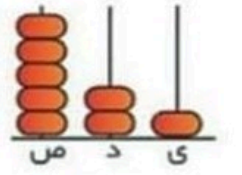
ص	د	ی

رقم:.....  
حروف:.....



ص	د	ی

رقم:.....  
حروف:.....



ص	د	ی

رقم:.....  
حروف:.....

۹ دانشمند من، جاهای خالی را کامل کن.

الف) ۹۶ یعنی ..... ده تایی و ..... یکی

ب) ۵ دسته ی ده تایی و ۲ یکی می شود ..... ریال

پ) ۸ سکه ی ۱۰۰ ریالی، ۳ سکه ی ۱۰ ریالی و ۹ سکه ی ۱ ریالی می شود ..... ریال

ت) عدد ۶۵۴ یعنی ..... یکی ..... ده تایی و ..... صد تایی

ث) عدد ۸۲ به ۸۰ نزدیکتر است یا به .....؟ (ج) عدد ۶۸ به ..... نزدیکتر است یا به .....؟

۱۰) خوش اخلاق من، حاصل جمع و تفریقها را با حذف رقم یکان و دهگان به صورت تقریبی بنویس.

$$\begin{array}{r} 239 \\ + 682 \\ \hline \end{array} \rightarrow \underline{\quad\quad\quad}$$

$$\begin{array}{r} 518 \\ - 344 \\ \hline \end{array} \rightarrow \underline{\quad\quad\quad}$$

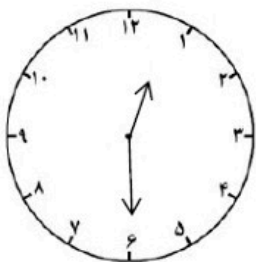
۱۱ - خوش فکر من، کتاب علی ۴۸ صفحه دارد. او امروز ۳۵ صفحه از کتاب را خوانده است، علی چند صفحه از کتاب را نخوانده است؟ (به روش فرآیندی حل کن)

۱۲) باهوش من، جواب سوالات زیر را بنویس.

ساعت چند است؟.....

۳۰ دقیقه دیگر ساعت چند است؟.....

اگر ساعت ۴:۴۵ باشد، ربع ساعت بعد ساعت چند است؟.....



با آرزوی موفقیت برای شما