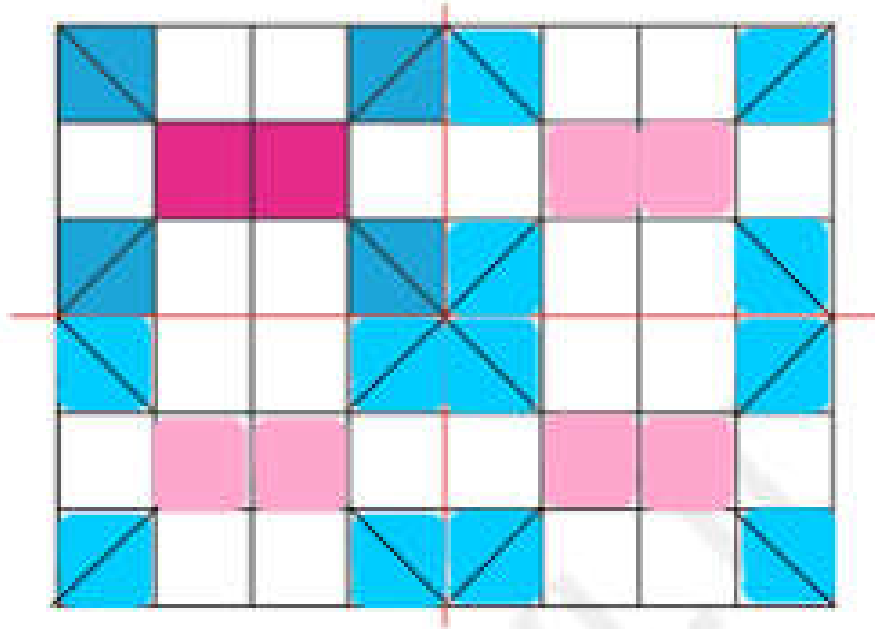




تاریخ: \_\_\_\_\_

نام و نام خانوادگی: \_\_\_\_\_


۱۳. سه قسمت دیگر شکل را با توجه به خطهای تقارن کامل کن.



جدول خودارزیابی



معیار	خیلی خوب	خوب	قابل توجه	نیاز به تلاش
نام اشکال هندسی را می‌دانم.	<input type="radio"/>	<input type="radio"/>	<input type="radio"/>	<input type="radio"/>
شعاع و گوشه را در اشکال هندسی تشخیص می‌دهم.	<input type="radio"/>	<input type="radio"/>	<input type="radio"/>	<input type="radio"/>
شباهت و تفاوت بین اشکال هندسی را می‌دانم.	<input type="radio"/>	<input type="radio"/>	<input type="radio"/>	<input type="radio"/>
مساحت را با مربع و لوز می‌خوانم.	<input type="radio"/>	<input type="radio"/>	<input type="radio"/>	<input type="radio"/>
تقارن دو قسمتی و چهار قسمتی را رسم می‌کنم.	<input type="radio"/>	<input type="radio"/>	<input type="radio"/>	<input type="radio"/>
انگشتی یک سر خطی و دو سر خطی را انجام می‌دهم.	<input type="radio"/>	<input type="radio"/>	<input type="radio"/>	<input type="radio"/>



# ارزشیابی فصل چهارم



نام و نام خانوادگی: \_\_\_\_\_

تاریخ: \_\_\_\_\_

۱. با عدد و حروف بنویس.


الف) چهارصد و هشت :  $408$

ب) صد و بیست و چهار :  $124$

پ) سیصد و نوزده -  $319$

ت) چهارصد و بیست و هفت -  $427$

۲. جاهای خالی را با توجه به جدول و شکل‌ها کامل کن.



به عدد:  $406$

به حروف: چهارصد و شش

صدگان	دهگان	یکان
۷	۳	۹

به عدد:  $739$

به حروف: هفتصد و سی و نه

۱۹۹

به عدد:  $530$




به حروف: پانصد و سی

به عدد:  $523$



به حروف: سیصد و سی و پنج





# ارزشیابی فصل چهارم

تاریخ

نام و نام خانوادگی

۴. با کارت‌های ۰، ۲ و ۷ بزرگ‌ترین و کوچک‌ترین عدد سه رقمی که می‌توان ساخت را بنویس.

کوچک‌ترین


بزرگ‌ترین

۲۰۷

۷۲۰

۴. حاصل عبارت‌های زیر را با استفاده از محور بنویس.


$$۸۰۰ - ۱۰۰ = ۷۰۰$$



$$۳۰۰ + ۴۰۰ - ۲۰۰ = ۵۰۰$$



$$۷۰۰ - ۵۰۰ + ۱۰۰ = ۳۰۰$$



۵. حاصل جمع و تفریق‌های زیر را به صورت تقریبی حساب کن. (با حذف رقم یکان و دهگان)

$$\begin{array}{r} ۷۳۹ \rightarrow ۷۰۰ \\ - ۲۵۴ \rightarrow -۲۰۰ \\ \hline ۵۰۰ \end{array}$$

$$\begin{array}{r} ۱۰۸ \rightarrow ۱۰۰ \\ + ۲۰۳ \rightarrow +۲۰۰ \\ \hline ۳۰۰ \end{array}$$

$$\begin{array}{r} ۴۸۸ \rightarrow ۴۰۰ \\ - ۳۲۲ \rightarrow -۳۰۰ \\ \hline ۱۰۰ \end{array}$$

۶. درتا در یک بازی علمی ۷۵ امتیاز داشت. او به یک سوال ۷ امتیازی پاسخ نادرست داد. اما توانست ۱۰ امتیاز دیگر

کسب کند. درتا چند امتیاز دارد؟

$$\begin{array}{r} ۷۵ \\ - ۷ \\ \hline ۶۸ \end{array} \quad \begin{array}{r} ۶۸ \\ + ۱۰ \\ \hline ۷۸ \end{array}$$

درتا ۷۸ امتیاز دارد.



تاریخ \_\_\_\_\_

نام و نام خانوادگی \_\_\_\_\_

۷. پس از رسم عقربه‌های ساعت شماره (۳) زمان‌هایی که ساعت‌ها نشان می‌دهند را زیر آن‌ها بنویس.



۱۲ : ۴۵

(۱)

یک ربع بعد



۱ : ۰۰

(۲)



۸ : ۴۵

(۱)

یک ربع قبل



۸ : ۳۰

(۲)

۸. حاصل جمع و تفریق‌ها را با استفاده از جدول اعداد زیر بنویس و روی جدول نشان بده.

۹۱	۹۲	۹۳	۹۴	۹۵	۹۶	۹۷	۹۸	۹۹	۱۰۰
<del>۱-۱</del>	<del>۱-۲</del>	۱-۳	<del>۱-۴</del>	<del>۱-۵</del>	<del>۱-۶</del>	<del>۱-۷</del>	<del>۱-۸</del>	<del>۱-۹</del>	<del>۱۱-۰</del>
<del>۱۱۱</del>	<del>۱۱۲</del>	<del>۱۱۳</del>	۱۱۴	<del>۱۱۵</del>	<del>۱۱۶</del>	<del>۱۱۷</del>	<del>۱۱۸</del>	<del>۱۱۹</del>	<del>۱۲-۰</del>
<del>۱۲۱</del>	<del>۱۲۲</del>	۱۲۳	<del>۱۲۴</del>	<del>۱۲۵</del>	<del>۱۲۶</del>	<del>۱۲۷</del>	<del>۱۲۸</del>	<del>۱۲۹</del>	<del>۱۳-۰</del>

$$\begin{array}{r} 1-3 \\ - 6 \\ \hline 97 \end{array}$$

$$\begin{array}{r} 114 \\ + 9 \\ \hline 123 \end{array}$$

$$\begin{array}{r} 1-8 \\ - 8 \\ \hline 100 \end{array}$$



## ارزشیابی فصل چهارم



تاریخ: \_\_\_\_\_

نام و نام خانوادگی: \_\_\_\_\_

۹. در جاهای خالی عدد مناسب بنویس.

الف) ۳۰ سکه ۱ ریالی: ۳ \_\_\_\_\_ سکه ۱۰ ریالی

ب) ۶۰۰ \_\_\_\_\_ سکه ۱ ریالی، ۶۰ سکه ۱۰ ریالی، ۶۰۰ \_\_\_\_\_ ریال

پ) ۱۰۰ سکه ۱ ریالی: ۱۵ \_\_\_\_\_ سکه ۱۰ ریالی، ۱ \_\_\_\_\_ سکه ۱۰۰ ریالی

۱۰. بارشهای ۲ و ۳ همه عددیهای سه رقمی را بنویس که جمع یکگان و صدگان برابر با دهگان باشد.

(به روش حذف حالت‌های نامطلوب)

۳۲۵ - ۳۵۲ - ۲۵۳ - ۲۳۵ - ۵۲۳ - ۵۳۲

۲۵۳ و ۳۵۲

۱۱. روی یک درخت ۴۳ سیب وجود داشت. باقیان ۷ سیب را چید. حالا چند سیب روی درخت است؟

$$\begin{array}{r} 43 \\ - 7 \\ \hline 36 \end{array}$$

حالا ۳۶ سیب روی درخت است.

### جدول خودارزیابی

بلک	میار	خیلی خوب	خوب	قابل قبول	نیاز به تلاش
اعداد سه رقمی را در جدول ارزش مکانی نشان می‌دهم.	<input type="radio"/>	<input type="radio"/>	<input type="radio"/>	<input type="radio"/>	<input type="radio"/>
جمع و تفریق اعداد سه رقمی را با محور اعداد انجام می‌دهم.	<input type="radio"/>	<input type="radio"/>	<input type="radio"/>	<input type="radio"/>	<input type="radio"/>
اعداد سه رقمی را به صورت تقریبی جمع و تفریق می‌کنم.	<input type="radio"/>	<input type="radio"/>	<input type="radio"/>	<input type="radio"/>	<input type="radio"/>
مساحت را با رنج و نیم می‌خوانم و نشان می‌دهم.	<input type="radio"/>	<input type="radio"/>	<input type="radio"/>	<input type="radio"/>	<input type="radio"/>
جمع و تفریق سه رقمی را با جدول اعداد نشان می‌دهم.	<input type="radio"/>	<input type="radio"/>	<input type="radio"/>	<input type="radio"/>	<input type="radio"/>
مسئله‌ها را با حذف حالت‌های نامطلوب حل می‌کنم.	<input type="radio"/>	<input type="radio"/>	<input type="radio"/>	<input type="radio"/>	<input type="radio"/>
واحد پول کشور ایران را می‌دانم.	<input type="radio"/>	<input type="radio"/>	<input type="radio"/>	<input type="radio"/>	<input type="radio"/>

۲۵۲

