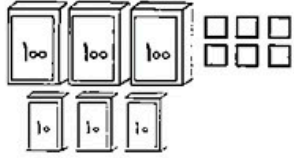




نوبت اول


نام: به نام ایزد یکتا
 نام خانوادگی: آزمون همداد کاغذی
 کلاس: ریاضی دوم دبستان

۱- هر شکل چه عددی را نشان می دهد؟



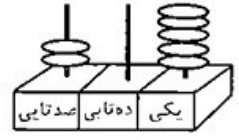
به رقم:

به حروف:



به رقم:

به حروف:



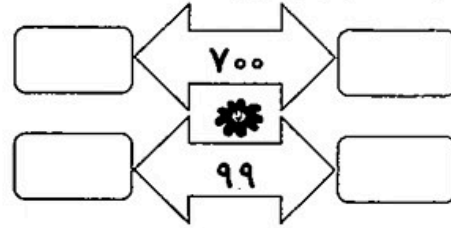
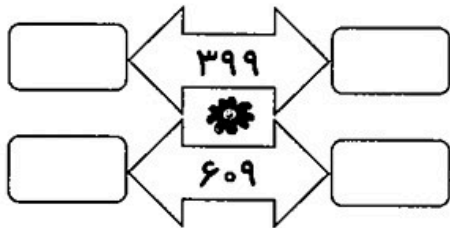
به رقم:

به حروف:

۲- به اندازه ی سگه ها، پول خرد بکش.



۳- قبل و بعد هر عدد را بنویس.



۴- در جای خالی، عدد مناسب بنویس.

❖ یکی و ده تایی و صد تایی برابر است با ۵۰۹.

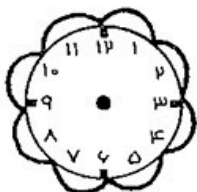
❖ عدد ۴۷ به عدد نزدیک تر است.

❖ عددی سه رقمی هستم، که رقم صدگان و دهگان مثل هم هستند و یکانم، کوچک ترین عدد یک رقمی است. من عدد هستم.

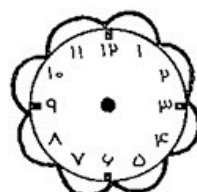
❖ با ده سگه ی ده ریالی می شود یک سگه ی ریالی گرفت.

❖ با سگه ی یک ریالی می شود یک سگه ی صد ریالی گرفت.


۵- زمان خواسته شده را روی ساعت ها نشان بده.



شش و نیم



یک ربع مانده به ساعت ۲



۶- جمع و تفریق‌های زیر را انجام بده.

$$۳۰۰ + ۳۰۰ =$$

$$\begin{array}{r} ۸۴ \\ - ۳۳ \\ \hline \end{array}$$

$$\begin{array}{r} - \dots\dots\dots \\ \hline \end{array}$$

$$۷۰۰ - ۲۰۰ =$$

$$\begin{array}{r} ۴۵ \\ + ۲۶ \\ \hline \end{array}$$

$$\begin{array}{r} + \dots\dots\dots \\ \hline \end{array}$$

$$۱۰۲ - ۷ =$$

$$\begin{array}{r} ۹۳ \\ + ۱۸ \\ \hline \end{array}$$

$$\begin{array}{r} + \dots\dots\dots \\ \hline \end{array}$$

$$۱۰۴ + ۵ =$$

$$\begin{array}{r} ۶۶ \\ - ۱۹ \\ \hline \end{array}$$

$$\begin{array}{r} - \dots\dots\dots \\ \hline \end{array}$$

۷- طبق الگو، دو عدد بعدی را بنویس.


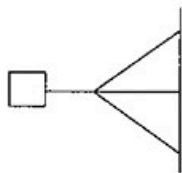
۳۵۰, ۳۶۰,
+۱۰

۸۴۲, ۸۴۴,
+۲


۱۳۸, ۱۴۰, ۱۴۴,
+۲ +۴ +۶

۵۵۰, ۶۵۰,
+۱۰۰

۸- با توجه به خطِ تقارن، نیمه‌ی دیگر شکل‌ها را رسم کن.



۹- به این سکه‌ها، آن قدر سکه اضافه کن تا ۷۶۱ ریال بشود.



۱۰- عبارت جمع $۳۰۰ + ۲۰ + ۱$ بازشده‌ی کدام عدد است؟

۳۱۲

۳۲۱

۲۳۱

۱۲۳

۱۱- حاصل جمع‌های زیر را بنویس.

$$۲۰ + ۲۰ + ۱۰ + ۵ + ۳۰ \rightarrow \bigcirc$$



$$۳۰ + ۱۰ + ۲ + ۸ \rightarrow \bigcirc$$

۱۲- مرجان سه سکه‌ی ده ریالی و پنج سکه‌ی یک‌ریالی دارد.

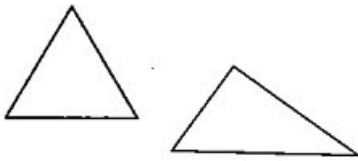
اگر مادرش به او ۴۲ ریال بدهد، او چند ریال خواهد داشت؟



۱۳- کتاب محمد ۱۰۲ صفحه دارد.

اگر او ۹ صفحه را بخواند، چند صفحه نخوانده، باقی می ماند؟

۱۴- دو شکل روبه‌رو، چه شباهت و چه تفاوت‌هایی دارند؟



شباهت:

تفاوت:


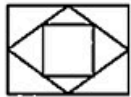
۱۵- با کارت‌های ۶ و ۴ و ۷ هر چه می‌توانی، عدد دو رقمی بیش‌تر از ۵۰ بنویس.

✳ کوچک‌ترین عددی را که نوشتی، با حذف یکان تقریب بزن.

✳ با بزرگ‌ترین عدد و کوچک‌ترین عددی که در بالا نوشتی، یک تفریق بنویس.

۱۶- نقطه‌های مشخص شده روی شکل کوچک، وسط ضلع‌ها هستند.

✳ حالا سعی کن مستطیل بزرگ را مانند شکل کوچک رسم کنی.



ارزشیابی	خ	خ	ق	ن
الگویابی				
ساعت				
اشکال هندسی				
رسم قرینه				
عدد و رقم				

ارزشیابی	خ	خ	ق	ن
اعداد سه‌رقمی				
ترتیب اعداد				
شمارش پول				
تبدیل پول				
جمع و تفریق				
حل مسئله				