

## ارزشیابی فصل سوم



تاریخ: .....

نام و نام خانوادگی: .....

۱. جاهای خالی را با کلمات داده شده پر کن. (یک کلمه اضافه است)

نیم - چهار - ربع - برابر - دو

الف) تعداد ضلع‌ها و گوشه‌های چندضلعی‌ها با هم ..... برابر ..... است.

ب) مربع ..... چهار ..... خط تقارن دارد.

پ) در ساعت، به ۱۵ دقیقه ..... ربع ..... و به ۳۰ دقیقه ..... نیم ..... گفته می‌شود.

نادرست



درست



۲. درست یا نادرست بودن هر جمله را مشخص کن.

الف) دایره ضلع و گوشه ندارد.

ب) مربع ۲ خط تقارن، ۴ ضلع و ۴ گوشه دارد.

پ) به محل برخورد دو ضلع در یک شکل، گوشه می‌گویند.

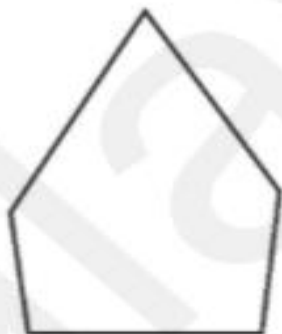
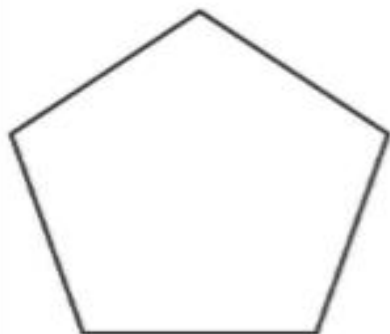
۳. تفاوت و شباهت شکل‌های مقابل را بنویس.

تفاوت:

.....  
.....

شباهت:

.....  
.....



۴. یک ربع بعد از ساعت ۸:۴۵ چه ساعتی می‌شود؟

این زمان را روی ساعت زیر نشان بده.



۳. تفاوت و شباهت شکل‌های مقابل را بنویس.

تفاوت:

در شکل (۱) ضلع‌ها با هم برابر نیستند اما در شکل (۲) همه ضلع‌ها با هم برابرند.

شباهت:

هر دو ضلع ۵ و ۵ گوشه دارند.

۱۹۵

۴. یک ربع بعد از ساعت ۸:۴۵ چه ساعتی می‌شود؟

این زمان را روی ساعت زیر نشان بده.



۵. زمانی را که هر ساعت نشان می‌دهد بنویس.



ساعت ..... و ..... دقیقه

..... : .....

دقیقه مانده به ساعت



ساعت ..... و ..... دقیقه

..... : .....

دقیقه مانده به ساعت



ساعت ..... و ..... دقیقه

..... : .....

دقیقه مانده به ساعت

۶. الگوهای عددی را ادامه بده.

الف) ۳ - ۶ - ۹ -  -

ب) ۲ - ۴ - ۸ - ۱۴ -  -

۵. زمانی را که هر ساعت نشان می‌دهد بنویس.



ساعت ۳ و ۲۵ دقیقه

..... : .....

۳۵ دقیقه مانده به ساعت ۴



ساعت ۷ و ۵۵ دقیقه

..... : .....

۵ دقیقه مانده به ساعت ۸



ساعت ۱۲ و ۵۰ دقیقه

..... : .....

۱۰ دقیقه مانده به ساعت ۱

۶. الگوهای عددی را ادامه بده.

الف) ۳ - ۶ - ۹ - ۱۲ - ۱۵

ب) ۲ - ۴ - ۸ - ۱۴ - ۲۲ - ۳۲


۱۵ - ۱۲ - ۹ - ۶ - ۳  
 +۳ +۳ +۳  
 +۱ +۱ +۱

۳۲ - ۲۲ - ۱۴ - ۸ - ۴ - ۲  
 +۲ +۴ +۶ +۸ +۱۰  
 +۲ +۲

۷. هر شکل را نسبت به خط تقارن بکش.



۸. نام هر شکل را زیر آن بنویس، شکلی که تعداد گوشه‌های بیشتری دارد را زرد کن.



.....

.....

.....

.....


.....



۷. هر شکل را نسبت به خط تقارن بکش.



۸. نام هر شکل را زیر آن بنویس، شکلی که تعداد گوشه‌های بیشتری دارد را زرد کن.



۶ضلعی

دایره

مربع

مستطیل

مثلث



۹. خط تقارن در کدام شلوار به درستی کشیده شده است؟ دور آن خط بسته بکش.



(ت)



(پ)



(ب)



(الف)

۱۰. در الگوی عددی مقابل در جای خالی چه زمانی را باید بنویسیم؟

۸:۱۵ — ۸:۲۰ — ۸:۲۵ —

۱۱. درنا ساعت ۱۵:۰۶ از خانه به طرف مدرسه رفت و در ساعت ۴۵:۰۶ به مدرسه رسید. او چند دقیقه در راه بوده است؟  
(از تصویر ساعت‌ها کمک بگیر)



ساعت حرکت از خانه



ساعت رسیدن به مدرسه



۹. خط تقارن در کدام شلوار به درستی کشیده شده است؟ دور آن خط بسته بکش.



(ت)



(پ)



(ب)

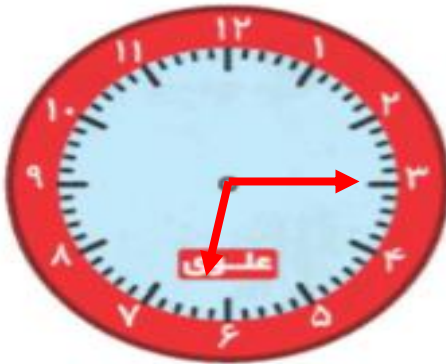


(الف)

۱۰. در الگوی عددی مقابل در جای خالی چه زمانی را باید بنویسیم؟

۸:۱۵ — ۸:۲۰ — ۸:۲۵ —

۱۱. درنا ساعت ۱۵:۰۶ از خانه به طرف مدرسه رفت و در ساعت ۴۵:۰۶ به مدرسه رسید. او چند دقیقه در راه بوده است؟  
(از تصویر ساعت‌ها کمک بگیر)



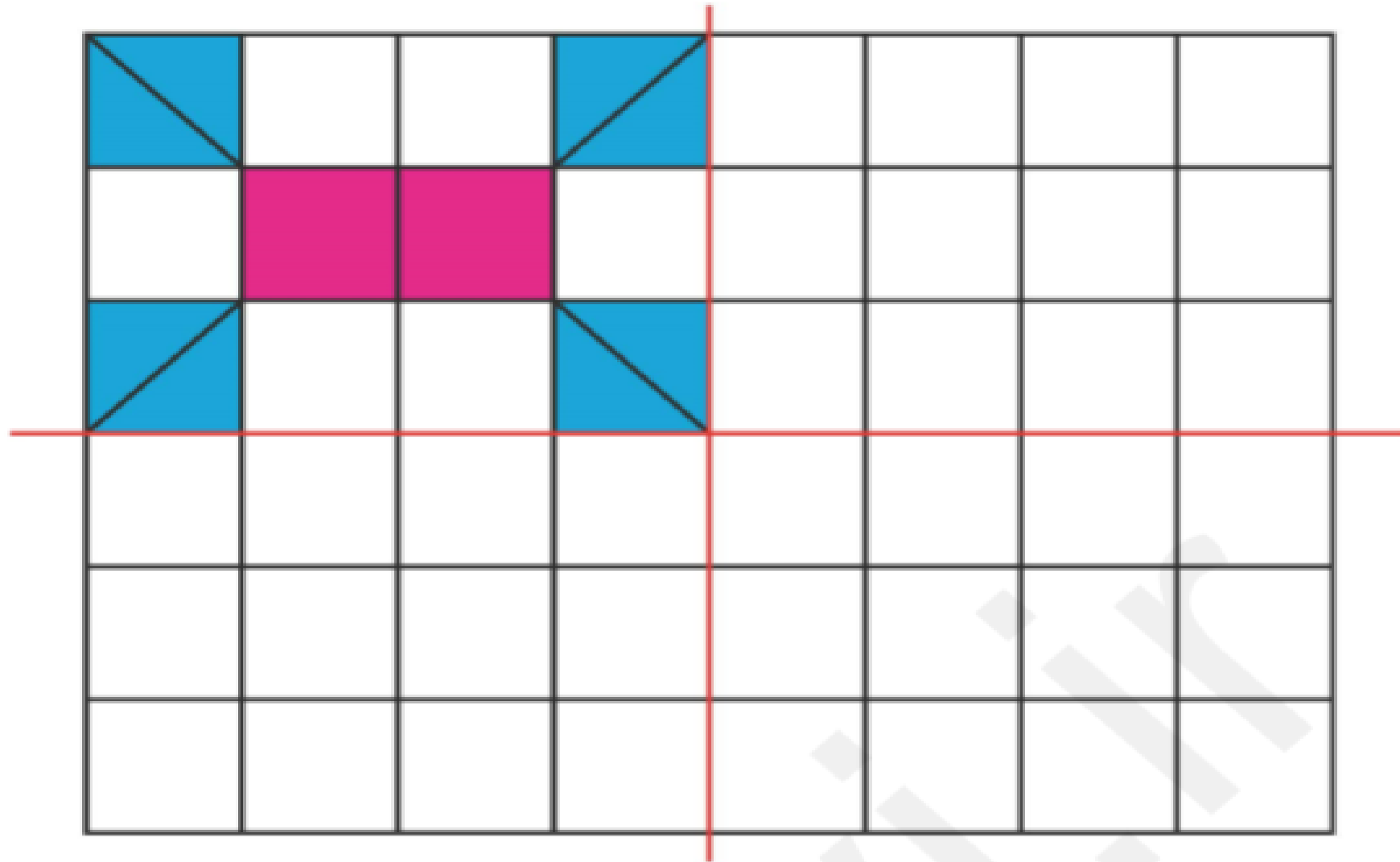
ساعت حرکت از خانه



ساعت رسیدن به مدرسه

۳۰ دقیقه

۱۳. سه قسمت دیگر شکل را با توجه به خطهای تقارن کامل کن.



۱۳. سه قسمت دیگر شکل را با توجه به خطهای تقارن کامل کن.

