

بسمه تعالی
پیش دبستان و دبستان
پسرانه ی علوی

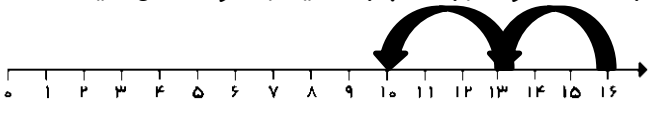


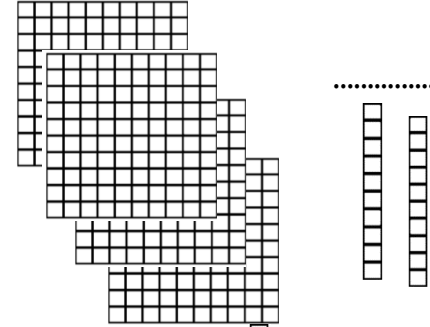
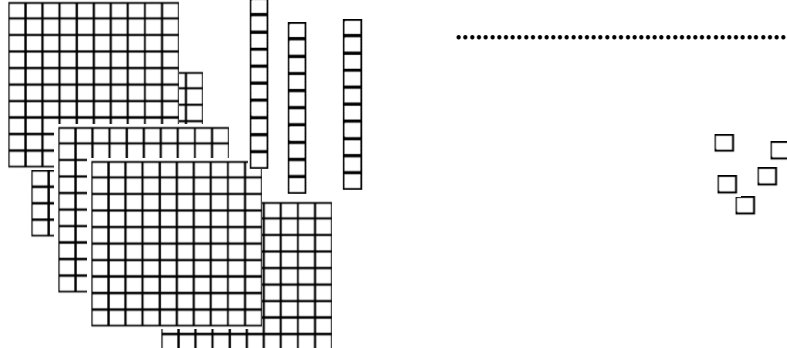
پایه: دوم

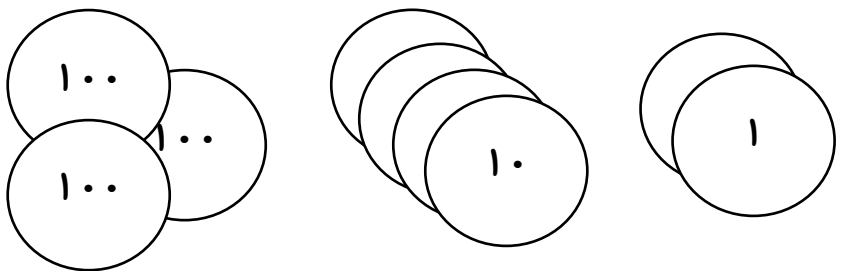
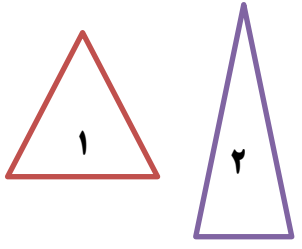
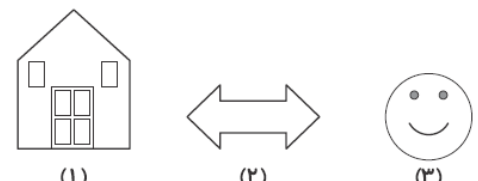
نمونه سوالات ریاضی ترم اول

نام و نام خانوادگی:


مدت امتحان: ۱۰۰

آموزگار: خانم کاشانی

بازخورد معلم	سوالات	ردیف												
	<p>عدد های دورقمی بنویسید که یکان آن ها ۲ و ۴ و دهگان آن ها ۵ و ۸ باشد.</p> <p><input type="text"/> <input type="text"/> <input type="text"/> <input type="text"/></p>	۱												
	<p>با کمک محور رو به عقب بشمارید و الگو را کامل کنید.</p>  <p>.....، ۱۳، ۱۶</p>	۲												
	<p>الگوهای عددی زیر را ادامه بده.</p> <p>۶، ۱۲،</p>  <p>۱، ۲، ۴، ۷،</p>  <p>۱۰۰، ۲۰۰،،،،،،،</p>	۳												
	<p>عددی که شکل نشان می دهند در جدول قرار بده و به حروف بنویس.</p> <p>به حروف:.....</p>  <table border="1" data-bbox="1133 1534 1428 1724"> <thead> <tr> <th>صدگان</th> <th>دهگان</th> <th>یکان</th> </tr> </thead> <tbody> <tr> <td> </td> <td> </td> <td> </td> </tr> </tbody> </table> <p>به حروف:.....</p>  <table border="1" data-bbox="1133 1825 1428 2016"> <thead> <tr> <th>صدگان</th> <th>دهگان</th> <th>یکان</th> </tr> </thead> <tbody> <tr> <td> </td> <td> </td> <td> </td> </tr> </tbody> </table>	صدگان	دهگان	یکان				صدگان	دهگان	یکان				۴
صدگان	دهگان	یکان												
صدگان	دهگان	یکان												

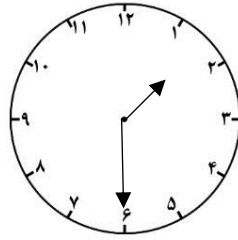
	<p>مقدار پول را به عدد مشخص کن و در جدول قرار بده . ریال</p>  <table border="1" data-bbox="1133 257 1420 448"> <thead> <tr> <th>یکان</th> <th>دهگان</th> <th>صدگان</th> </tr> </thead> <tbody> <tr> <td> </td> <td> </td> <td> </td> </tr> </tbody> </table>	یکان	دهگان	صدگان				۵
یکان	دهگان	صدگان						
	<p>* اگر مریم ۵۰ سکه‌ی ۱ ریالی به بانک بدهد، می‌تواند سکه‌ی ۱۰ ریالی بگیرد. * اگر مریم ۱۰ سکه‌ی ۱۰ ریالی به بانک بدهد، می‌تواند یک سکه‌ی ریالی بگیرد. * اگر رقم یکان ۱ و رقم دهگان ۶: / به حروف * در شمارش ۵ تا ۵ تا عدد قبل از ۴۰ می‌شود.....</p>	۶						
	<p>جمع و تفریق‌های زیر را به روش فرایندی حل کنید.</p> $\begin{array}{r} 83 \\ - 46 \\ \hline \end{array}$ $\begin{array}{r} 58 \\ + 35 \\ \hline \end{array}$	۷						
	<p>جواب جمع و تفریق‌های زیر را به صورت تقریبی به دست آورید.</p> $\begin{array}{r} 58 \rightarrow \dots\dots \\ + 25 \rightarrow \dots\dots \\ \hline \end{array}$ $\begin{array}{r} 91 \rightarrow \dots\dots \\ - 24 \rightarrow \dots\dots \\ \hline \end{array}$	۸						
	<p>دو شکل زیر را با هم مقایسه کنید. شباهت:..... تفاوت:.....</p> 	۹						
	<p>کدام شکل دو خط تقارن دارد؟ خط‌های تقارن آن را رسم کن.</p>  <p>(۱) (۲) (۳)</p>	۱۰						

نام هر شکل را در جای خالی بنویس.

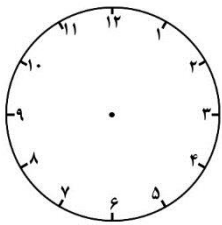


۱۱

ساعت چند است؟

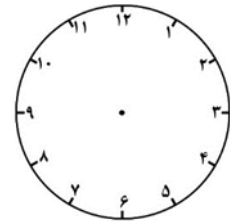


.....
یا
.....



نیم ساعت مانده به ۵

یا
.....



یک ربع بعد از ساعت ۸

یا
.....

۱۲

۱۷- با سه کارت که روی آنها رقم‌های ۳ ، ۵ و ۸ نوشته شده است ، تمام عددهای سه رقمی را که می‌توان درست کرد را بنویسید.
* اعداد به دست آمده را به حروف هم بنویسید.

.....
* کوچکترین عدد به دست آمده کدام است؟

* بزرگترین عدد به دست آمده کدام است؟

* از بین عددهای به دست آمده ، چه عددهایی یکان آنها ۸ می‌باشد؟
.....

* از بین عددهای به دست آمده ، چه عددهایی دهگان آنها ۵ می‌باشد؟
.....

* از بین عددهای به دست آمده ، چه عددهایی صدگان آنها ۳ می‌باشد؟
.....

بین عدد ها عددی را پیدا کن که صدگان کوچک تر از یکان باشد.
.....