

نام و نام خانوادگی:

تاریخ:



بدرستی یا نادرستی بودن هر جمله را مشخص کن.

بدرستی		نادرستی	
	<input type="checkbox"/>		<input checked="" type="checkbox"/>
	<input checked="" type="checkbox"/>		<input type="checkbox"/>
	<input checked="" type="checkbox"/>		<input type="checkbox"/>

۱. درست یا نادرست بودن هر جمله را مشخص کن.

الف) مربع ۴ خط تقارن دارد.

ب) عدد ۷۵ برابر با ۵ دهتایی و ۷ یکی است.

پ) تعداد گوشه‌های مستطیل و مثلث با هم برابر است.

۲. جدول جمع و تفریق‌ها را کامل کن.

+	۱۰	۸
۴	۱۴	۱۲
۶	۱۶	۱۴
۳	۱۲	۱۰

-	۴	۵
۱۰	۶	۵
۹	۵	۴
۷	۳	۲

۳. حاصل جمع و تفریق‌های زیر را از راه گسترده‌نویسی فرآیندی با شکل به دست بیاور.

$$\begin{array}{r} ۳۵ \\ + ۳۱ \\ \hline ۶۵ \\ + ۱ \\ \hline ۶۶ \end{array}$$

$$\begin{array}{r} ۵۷ \\ - ۴۲ \\ \hline ۱۷ \\ - ۲ \\ \hline ۱۵ \end{array}$$

۴. عددهای ۱۷، ۳۱، ۵۶، ۳۳ را به صورت تقریبی روی محور نشان بده.



۵. درنا یک کتاب داستان خرید که ۳۳۰ صفحه دارد. او دیروز ۱۱۰ صفحه و امروز ۳۰ صفحه از آن را خواند. چند صفحه از کتاب درنا باقی مانده است؟

$$\begin{array}{r} ۱۱۰ \\ + ۳۰ \\ \hline ۱۴۰ \end{array}$$

$$\begin{array}{r} ۳۳۰ \\ - ۱۴۰ \\ \hline ۱۹۰ \end{array}$$

۱۰۰ صفحه باقی مانده است.

۶. در یک باغ ۳۸ درخت وجود داشت. باغبان ۱۱ درخت دیگر در آن کاشت. حالا آن باغ چند درخت دارد؟

$$\begin{array}{r} ۳۸ \\ + ۱۱ \\ \hline ۴۹ \end{array}$$



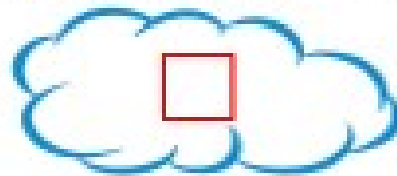



ارزشیابی ۲ (نیمسال اول)

نام و نام خانوادگی:

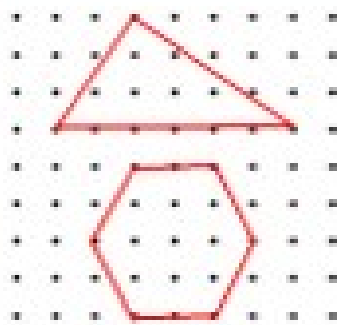
تاریخ:

۷. در ابرهای زیر یک مربع و یک مستطیل بکش. سپس تفاوت و شباهت آن‌ها را با هم بنویس.



شباهت: هر دو ۴ ضلع و ۴ گوشه دارند.

تفاوت: در مربع همه ی ضلع ها باهم برابرند اما در مستطیل فقط ضلع های رو به رو با هم برابرند.

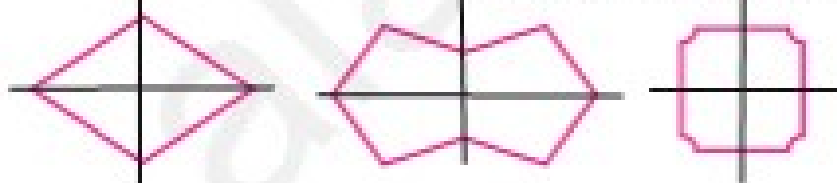


۸. من چه شکلی هستم؟

الف) ۳ گوشه و ۳ ضلع دارم. مثلث مرا بکش و سبز کن.

ب) ۶ گوشه و ۶ ضلع دارم. مرا بکش و آبی کن.
شش ضلعی

۹. شکل‌های زیر را به چهار قسمت مثل هم تقسیم کن.



۲۲۴

۱۰. درنا ۴۵ شکلات شیری و ۱۳ شکلات توت فرنگی دارد. او روی هم چند شکلات دارد؟

$$\begin{array}{r} 45 \\ + 13 \\ \hline 58 \end{array}$$

درنا ۵۸ شکلات دارد.

۱۱. حبه عددهای دو رقمی را که می‌توان با رقم‌های ۵ یا ۴ در دهگان و ۷ یا ۴ در یگان نوشت را بنویس.

د	ی
۴	۴
۴	۷

د	ی
۵	۴
۵	۷

