

۱. از عدد ۱۰۰ تا ۹۰۰، صد تا صد تا به عدد و حروف بنویس.

به عدد

۱۰۰-

-

-

-

-

-

-

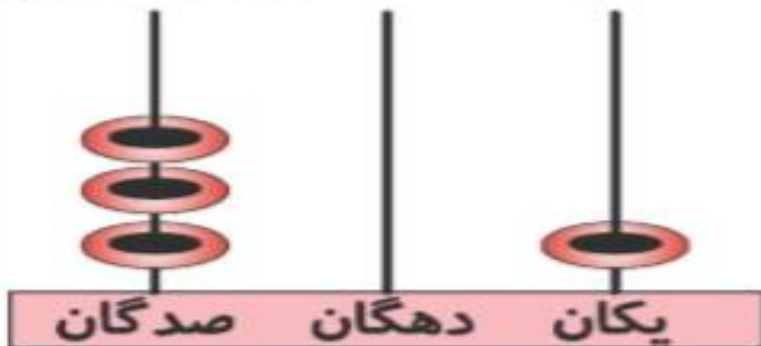
-۹۰۰



به حروف

صد-

۲. اگر به هر یک از میله‌های چرتکه یک عدد اضافه کنیم، چرتکه چه عددی را نشان می‌دهد؟ آن را در جدول ارزش مکانی قرار بده.



صدگان	دهگان	یکان

به حروف: .....

به عدد: .....

۳. گسترده (باز شده‌ی) عددهای زیر را بنویس.

الف)  $۹۳۲ =$  .....

ب)  $۱۱۲ =$  .....

۱. از عدد ۱۰۰ تا ۹۰۰، صد تا صد تا به حروف بنویس.

به عدد

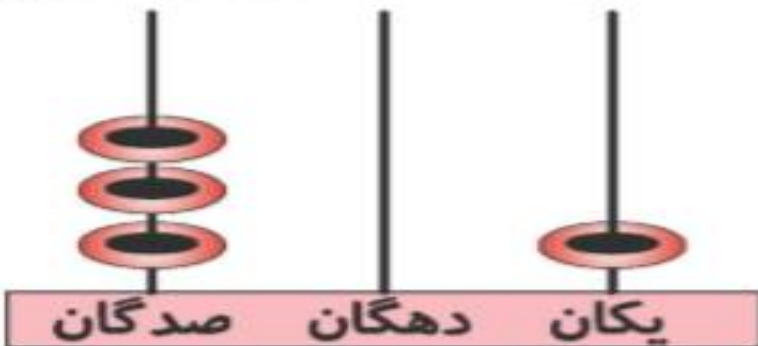
۱۰۰ - ۲۰۰ - ۳۰۰ - ۴۰۰ - ۵۰۰ - ۶۰۰ - ۷۰۰ - ۸۰۰ - ۹۰۰



به حروف

صد - دویست - سیصد - چهارصد - پانصد - ششصد - هفتصد - هشتصد - نهصد

۲. اگر به هر یک از میله‌های چرتکه یک عدد اضافه کنیم، چرتکه چه عددی را نشان می‌دهد؟ آن را در جدول ارزش مکانی قرار بده.



صدگان	دهگان	یکان
۴	۱	۲

به حروف: چهارصد و دوازده

به عدد: ۴۱۲

۳. گسترده (باز شده‌ی) عددهای زیر را بنویس.

۹۰۰ + ۳۰ + ۲

۹۳۲ = (الف)

۱۰۰ + ۱۰ + ۲

۱۱۲ = (ب)

۴. به جای دایره عدد مناسب بگذار.



$$\bigcirc + 13 = 56$$

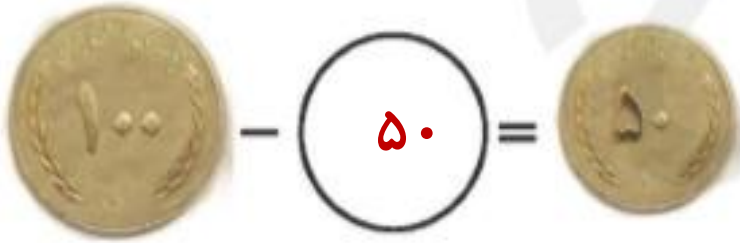


۵. درنا ساعت ۱۰:۵ دقیقه تکالیفش را شروع کرد، ۱ ساعت و ۳۰ دقیقه بعد آن‌ها را تمام کرد. ساعت پایان تکالیف درنا را بنویس.

ساعت پایان تکالیف درنا ..... است.

۶. با عددهای ۴، ۱ و ۶ عدد سه رقمی را بنویس که صدگان آن دو تا بیشتر از دهگانش باشد.

۴. به جای دایره عدد مناسب بگذار.



$$\text{○} + 13 = 56$$



۵. درنا ساعت ۵:۱۰ دقیقه تکالیفش را شروع کرد، ۱ ساعت و ۳۰ دقیقه بعد آن‌ها را تمام کرد. ساعت پایان تکالیف درنا را بنویس.

ساعت پایان تکالیف درنا ..... ۶:۴۰ ..... است.

۶. با عددهای ۴، ۱ و ۶ عدد سه رقمی را بنویس که صدگان آن دو تا بیشتر از دهگانش باشد.

۶۱۴ - ۶۴۱ - ۴۱۶ - ۴۶۱ - ۱۴۶ - ۱۶۴

۶۴۱





۷. با توجه به ساعت به سوالات زیر پاسخ بده.

الف) ساعت چند است؟ .....

ب) چند دقیقه به ساعت بعدی مانده است؟ .....

پ) اگر عقربه دقیقه شمار ۱۵ دقیقه حرکت کند ساعت چند می شود؟ مقدار حرکت عقربه را رنگ کن.

۸. حاصل جمع و تفریقها را به روش گسترده نویسی یا فرآیندی به دست بیاور.

$$\begin{array}{r} 54 \\ +41 \\ \hline \end{array}$$

$$\begin{array}{r} 22 \\ +14 \\ \hline \end{array}$$

$$\begin{array}{r} 89 \\ -40 \\ \hline \end{array}$$

$$\begin{array}{r} 43 \\ -23 \\ \hline \end{array}$$



۷. با توجه به ساعت به سوالات زیر پاسخ بده.

(الف) ساعت چند است؟ ..... ۹:۲۰

(ب) چند دقیقه به ساعت بعدی مانده است؟ ..... ۴۰ دقیقه

(پ) اگر عقربه دقیقه شمار ۱۵ دقیقه حرکت کند ساعت چند می شود؟ مقدار حرکت

عقربه را رنگ کن. ۹:۳۵

۸. حاصل جمع و تفریقها را به روش گسترده نویسی یا فرآیندی به دست بیاور.

$$\begin{array}{r} 54 \\ + 41 \\ \hline 94 \\ + 1 \\ \hline 95 \end{array}$$

$$\begin{array}{r} 22 \\ + 14 \\ \hline 32 \\ + 4 \\ \hline 36 \end{array}$$

$$\begin{array}{r} 89 \\ - 40 \\ \hline 49 \\ - 0 \\ \hline 49 \end{array}$$

$$\begin{array}{r} 43 \\ - 23 \\ \hline 23 \\ - 3 \\ \hline 20 \end{array}$$

۹. حاصل جمع زیر را به صورت تقریبی به دست بیاور.

$$۳۹ \rightarrow \dots\dots\dots$$

$$\underline{+۱۳} \rightarrow \underline{\dots\dots\dots}$$

۱۰. ساعت چند است؟



.....:.....



.....:.....



.....:.....

۹. حاصل جمع زیر را به صورت تقریبی به دست بیاور.

$$۳۹ \rightarrow \underline{\quad ۴۰ \quad}$$

$$\underline{+ ۱۳} \rightarrow \underline{+ ۱۰}$$

۵۰

۱۰. ساعت چند است؟



۷ : ۲۵



۹ : ۰۸



۱۰ : ۴۰



۱۱. چند عدد دو رقمی می‌توان نوشت که رقم یکانش ۲ یا ۴ و رقم دهگان‌ش ۴ یا ۶ یا ۸ باشد؟ آن‌ها را بنویس.

.....

.....

.....

۱۲. الگوهای عددی زیر را کامل کن.

۷, ۱۴, ۲۱, ....., ....., ....., .....

۹, ۶, ۱۲, ....., ....., ....., .....

۱۳. حاصل جمع و تفریق زیر را با استفاده از محور به دست بیاور.

$$۸ + ۴ - ۴ =$$



۱۱. چند عدد دو رقمی می توان نوشت که رقم یکانش ۲ یا ۴ و رقم دهگانش ۴ یا ۶ یا ۸ باشد؟ آنها را بنویس.

دهگان | یکان

۴	۴
۶	۲
۶	۲
۶	۲
۸	۲
۸	۲

۸۲-۸۴-۶۲-۶۴-۴۲-۴۴

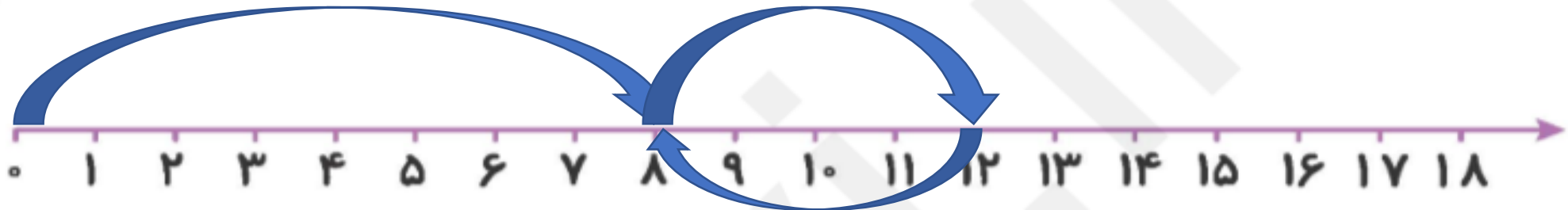
۱۲. الگوهای عددی زیر را کامل کن.

۷, ۱۴, ۲۱, ۲۸, ۳۵, ۴۲, ۴۹, .....

۹, ۶, ۱۲, ۱۵, ۱۸, ۲۱, ۲۴, .....

۱۳. حاصل جمع و تفریق زیر را با استفاده از محور به دست بیاور.

$$۸ + ۴ - ۴ = ۸$$



۱۴. تعداد گوشه‌های کدام شکل بیش‌تر است؟

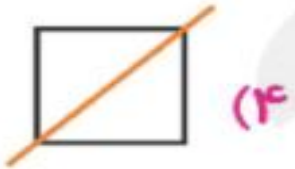
(۱) مربع

(۲) دایره

(۳) هشت‌ضلعی

(۴) مستطیل

۱۵. خط تقارن کدام شکل درست کشیده شده است؟



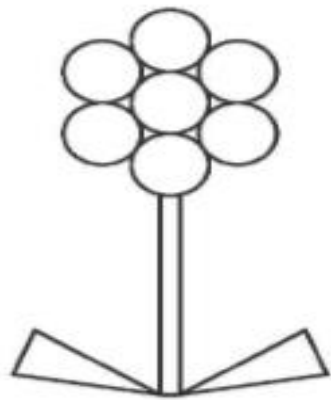
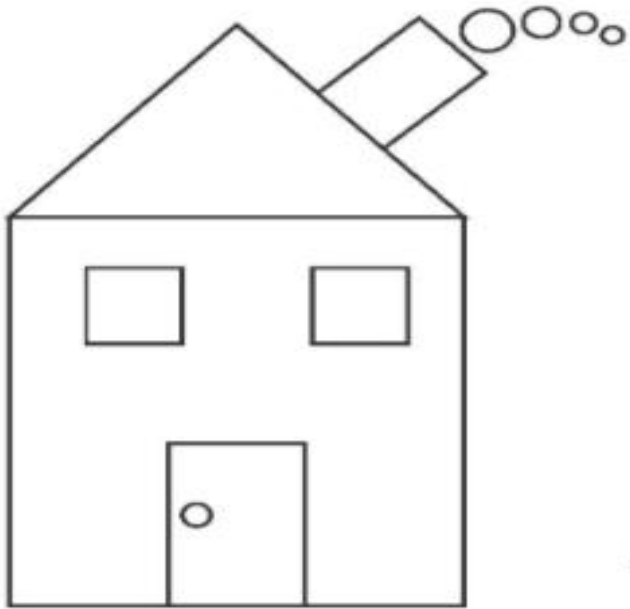
۱۶. با توجه به راهنما شکل‌ها را رنگ کن.

مثلث: سبز

دایره: زرد

مستطیل: قهوه‌ای

مربع: قرمز



۱۴. تعداد گوشه‌های کدام شکل بیش‌تر است؟

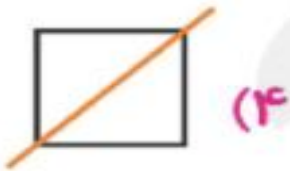
(۱) مربع

(۲) دایره

(۳) هشت‌ضلعی ★

(۴) مستطیل

۱۵. خط تقارن کدام شکل درست کشیده شده است؟



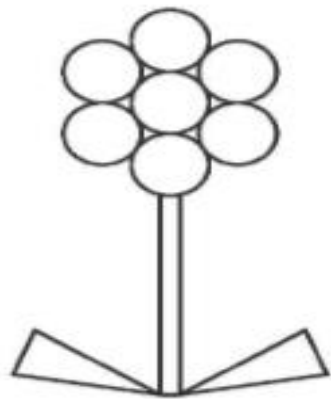
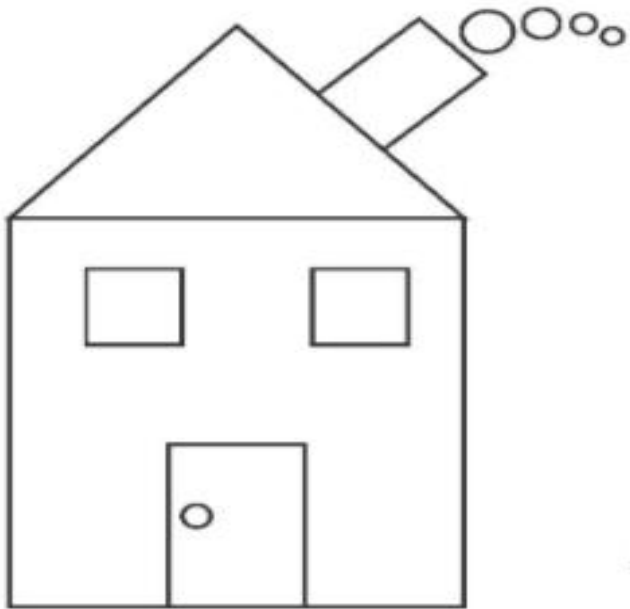
۱۶. با توجه به راهنما شکل‌ها را رنگ کن.

مثلث: سبز

دایره: زرد


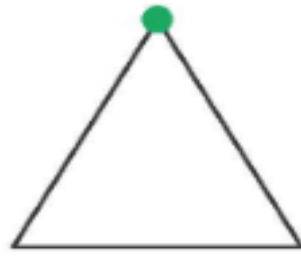
مستطیل: قهوه‌ای

مربع: قرمز





۱۷. با توجه به خط تقارن نیمه‌ی دیگر شکل‌ها را رسم کن.

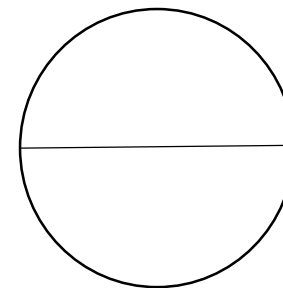
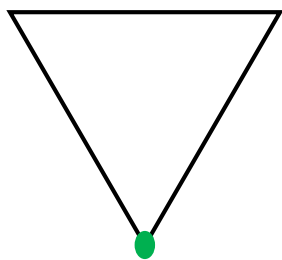

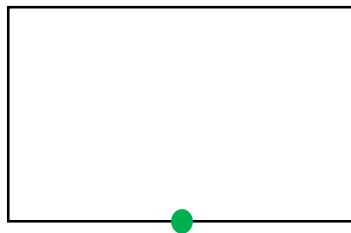
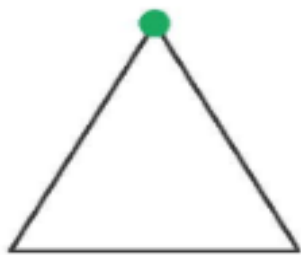


۱۸. در یک باغ وحش ۱۵ طاووس و ۳۱ طوطی وجود دارد. در این باغ وحش چند پرنده وجود دارد؟

.....

.....

۱۷. با توجه به خط تقارن نیمه‌ی دیگر شکل‌ها را رسم کن.



۱۸. در یک باغ وحش ۱۵ طاووس و ۳۱ طوطی وجود دارد. در این باغ وحش چند پرنده وجود دارد؟

$$\begin{array}{r} 15 \\ + 31 \\ \hline 46 \\ + 1 \\ \hline 47 \end{array}$$

۴۶ پرنده وجود دارد.