





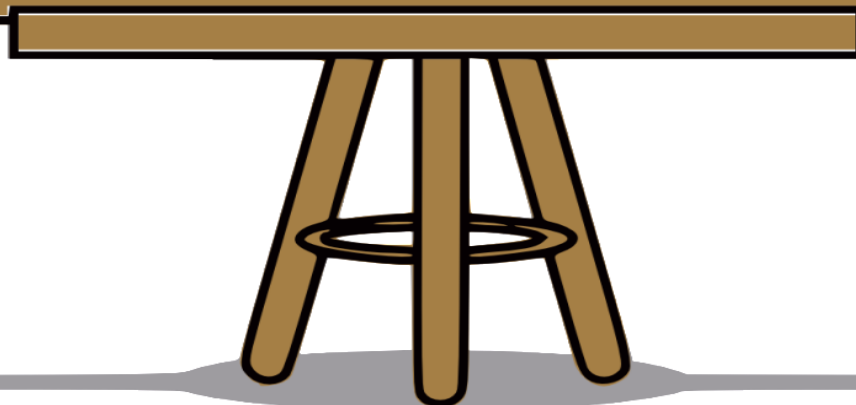
آیا می‌دانید؟ پزشکان با اندازه‌گیری قد و وزن نوزادان از هنگام تولد،
مراحل رشد آن‌ها را زیر نظر می‌گیرند.



اندازه مداد ۷ چینه است.

اندازه مداد بین ۵ و ۶ گیره است.

اندازه مداد بین ۳ و ۴ پاک کن است.



نتیجه می گیریم

چون از واحد های متفاوتی مثل (گیره ، پاک کن و چینه)
برای اندازه گیری استفاده کردیم.

اندازه های متفاوتی از مداد بدست آوردیم.



اندازه گیری طول


صی ترین سایت مشاوره کشور



۱- هر شکل با یک واحد اندازه گیری شده است. اندازه ی طول آن شکل را با کامل کردن جاهای خالی نشان دهید.
طول مداد بین گیره و گیره است.
یعنی از گیره بیشتر است ولی به گیره نمی رسد.



طول شانه بین پاک کن و پاک کن است.
یعنی از پاک کن بیشتر است ولی به پاک کن نمی رسد.



اندازه گیری طول

صی ترین سایت مشاوره کشور




۱- هر شکل با یک واحد اندازه گیری شده است. اندازه ی طول آن شکل را با کامل کردن جاهای خالی نشان دهید.


طول مداد بین ۵ گیره و ۶ گیره است.
یعنی از ۵ گیره بیشتر است ولی به ۶ گیره نمی رسد.



طول شانه بین ۵ پاک کن و ۶ پاک کن است.
یعنی از ۵ پاک کن بیشتر است ولی به ۶ پاک کن نمی رسد.



طول ساعت بین چینه و چینه است. یعنی از چینه بیشتر است ولی به چینه نمی‌رسد.



۲- به همین ترتیب با استفاده از تراش خود طول کتاب ریاضی را اندازه‌گیری کنید و بنویسید:


طول کتاب بین تراش و تراش است.

۳- حالا با یک مداد طول میز خود را اندازه‌گیری کنید و بنویسید:

طول میز بین مداد و مداد است.

برای اندازه‌گیری طول‌های مختلف از وسایل مختلف استفاده کردیم. در مورد این که این روش اندازه‌گیری چه اشکالی دارد، در کلاس با دوستان خود گفت‌وگو کنید.

طول ساعت بین ۹ چینه و ۱۰ چینه است. یعنی از ۹ چینه بیشتر است ولی به ۱۰ چینه نمی‌رسد.



۲- به همین ترتیب با استفاده از تراش خود طول کتاب ریاضی را اندازه‌گیری کنید و بنویسید:


طول کتاب بین تراش و تراش است.

۳- حالا با یک مداد طول میز خود را اندازه‌گیری کنید و بنویسید:

طول میز بین مداد و مداد است.

برای اندازه‌گیری طول‌های مختلف از وسایل مختلف استفاده کردیم. در مورد این که این روش اندازه‌گیری چه اشکالی دارد، در کلاس با دوستان خود گفت‌وگو کنید.

۱- اندازه‌ی طول این مداد را که با وسایل مختلف اندازه‌گیری شده است، بیان کنید.



طول مداد گیره است.

طول مداد پاک‌کن است.

طول مداد چینه است.


۲- چرا برای طول مداد عددهای مختلف به دست آمده است؟

۳- برای این که طول این مداد فقط با یک عدد مشخص شود، چه راهی را پیشنهاد می‌کنید؟



کار در
کلاس

۱- اندازه‌ی طول این مداد را که با وسایل مختلف اندازه‌گیری شده است، بیان کنید.



طول مداد ۵ ... گیره است.

طول مداد ۴ ... پاک‌کن است.

طول مداد ۱۰ ... چینه است.

۲- چرا برای طول مداد عددهای مختلف به دست آمده است؟

۳- برای این که طول این مداد فقط با یک عدد مشخص شود، چه راهی را پیشنهاد می‌کنید؟

کار در
کلاس