



کار در کلاس



۱. اندازه‌ی طول شمع، قاشق و ذره‌بین را با توجه به واحد اندازه‌گیری آن‌ها بنویس.  
الف) اندازه‌ی طول شمع ..... ۵ ..... گیره است.



- ب) اندازه‌ی طول قاشق از ..... ۷ ..... گیره بیشتر و از ..... ۸ ..... گیره کمتر است.



- پ) اندازه‌ی طول ذره‌بین از ..... ۸ ..... گیره بیشتر و از ..... ۹ ..... گیره کمتر است.



۲. با توجه به زمان ساعت مقابل، نیم ساعت بعد را با رنگ آمیزی مشخص کن.  
حالا ساعت چند است؟ ..... ۴۵ ..... : ..... ۴

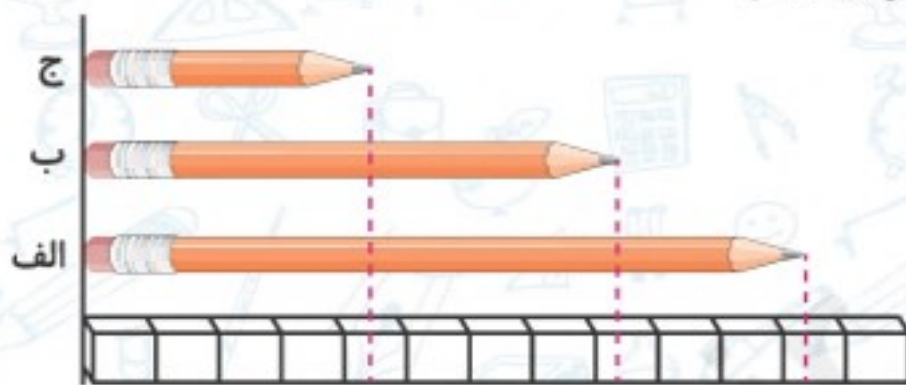


۳. برنا برای رفتن به پارک ساعت ۴:۲۰ از منزل خارج می‌شود و ۳۰ دقیقه‌ی بعد یعنی ساعت ..... ۴:۵۰ ..... به پارک می‌رسد.



تمرین

۱. با توجه به شکل جاهای خالی را کامل کن.



الف) طول مداد (الف) از ..... ۱۱ ..... چینه بیشتر و از ..... ۱۲ ..... چینه کمتر است.

ب) طول مداد (ب) از ..... ۸ ..... چینه بیشتر و از ..... ۹ ..... چینه کمتر است.

پ) طول مداد (ج) از ..... ۴ ..... چینه بیشتر و از ..... ۵ ..... چینه کمتر است.

نادرست



درست

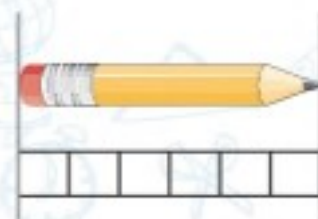


۲. با توجه به شکل‌ها پاسخ صحیح را علامت بزن.

الف) طول پاک‌کن از طول مداد بیشتر است.

ب) اندازه‌ی طول قیچی از ۵ گیره کمتر است.

پ) طول مداد ۶ چینه است.





۳. اگر این حیوان‌ها به ترتیب قد در صف بایستند، کدام یک در وسط صف قرار می‌گیرد؟



۱ - ۵ - ۲ - ۴ - ۳

۱ (۱)

۲ (۲)

۳ (۳)

۴ (۴)

۵ (۵)

۱۱۰

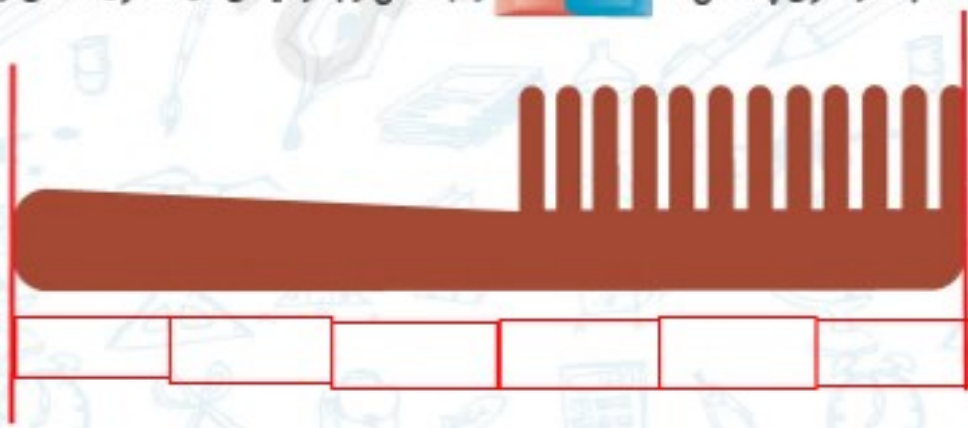
۴. یک ربع بعد از زمانی را که ساعت مقابل نشان می‌دهد بنویس و روی ساعت رنگ کن.



..... : ۵۰

۵. از انتهای کتاب کار علوی پاک‌کن‌ها  را جدا کن و به وسیله‌ی آن‌ها طول شانه‌ی زیر را اندازه

بگیر.



اندازه‌ی شانه ۶ پاک‌کن است.

