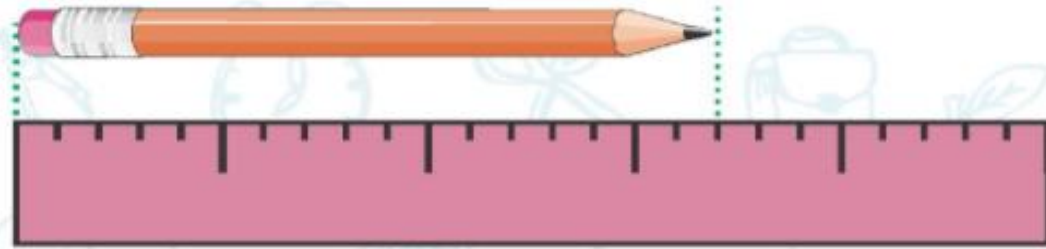


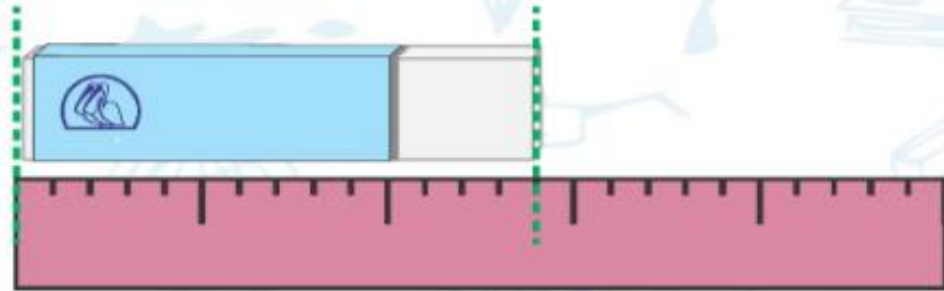


۱. همان‌طور که در نوار زیر مشاهده می‌کنی هر قسمت بزرگ آن به ۵ قسمت کوچک‌تر تقسیم شده است. اندازه‌ی وسیله‌ها را با توجه به نوار، در زیر آن بنویس.



الف) اندازه‌ی طول مداد ۳ قسمت بزرگ و ۲ قسمت کوچک است.

اندازه‌ی طول مداد ۱۷ قسمت کوچک است.



ب) اندازه‌ی طول پاک‌کن ۲ قسمت بزرگ و ۴ قسمت کوچک است.

اندازه‌ی طول پاک‌کن ۱۴ قسمت کوچک است.

۲. جاهای خالی را با استفاده از روش حدس و آزمایش کامل کن.

الف) $۱۳ + \boxed{۶۹} = ۸۲$

$۱۳ + ۷۰ = ۸۳$ ✗

$۱۳ + ۶۹ = ۸۲$ ✓

ب) $\boxed{۱۵} + ۲۶ = ۴۱$

$۲۰ + ۲۶ = ۴۶$ ✗

$۱۵ + ۲۶ = ۴۱$ ✓

۳. در یک پارکینگ ۵ ماشین و موتور پارک بودند. آن‌ها روی هم ۱۶ چرخ دارند. چند ماشین و چند موتور در این پارکینگ پارک شده‌اند؟ (هر ماشین ۴ چرخ و هر موتور ۲ چرخ دارد).



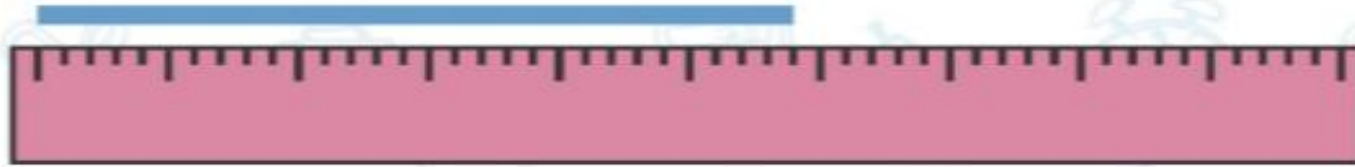
۴. عقربه‌ی بزرگ در ساعت مقابل چند دقیقه حرکت کند تا ساعت ۵:۰۳ شود؟
مقدار حرکت عقربه‌ی ساعت را با رنگ آمیزی نشان بده، سپس زمان آن را بنویس.

۱۰ دقیقه





۱. در نوارهای زیر هر قسمت بزرگ به ۵ قسمت کوچک مساوی تقسیم شده است. اندازه‌ی هر خط را پیدا کن.



الف) اندازه‌ی خط ۵ قسمت بزرگ و ۴ قسمت کوچک است.



ب) اندازه‌ی خط ۹ قسمت بزرگ و ۳ قسمت کوچک است.



پ) اندازه‌ی خط ۲ قسمت بزرگ و ۱ قسمت کوچک است.