

۲. تصویر یک مداد را بکش، طوری که درازای آن بین ۵ و ۶ سانتی‌متر باشد.



۳. ابتدا طول هر خط را حدس بزن، سپس با خط‌کش اندازه‌گیری کرده و بنویس.

۱۱۹

(پ)

حدس من :

اندازه‌گیری : **۳ سانتی‌متر**

(ب)

حدس من :

اندازه‌گیری : **۴ سانتی‌متر**

(الف)

حدس من :

اندازه‌گیری : **۲ سانتی‌متر**

خط‌کش شما چند سانتی‌متر است؟

بلندترین خط‌کش کلاس شما چند سانتی‌متر است؟

تمرین



نادرست



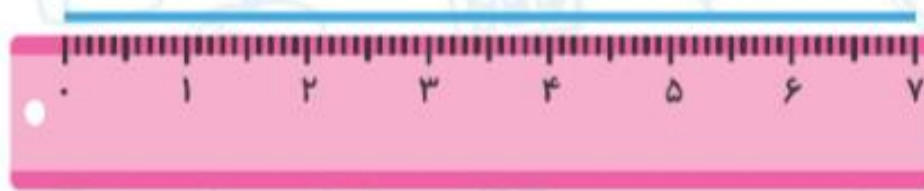
درست



۱. درست یا نادرست بودن هر جمله را علامت بزن.


الف) یکی از واحدهای اندازه گیری طول، سانتی متر است.

ب) با توجه به تصویر اندازه‌ی خط از ۵ سانتی متر بیشتر و از ۶ سانتی متر کمتر است.



۴. طول هر شکل را با توجه به خط‌کش‌ها بنویس.


الف) اندازه‌ی ماشین ۷ سانتی‌متر



ب) اندازه‌ی سیب از ۳ سانتی‌متر بیشتر و ۴ سانتی‌متر کمتر است.



پ) اندازه کفش... از ۵ سانتی متر بیشتر و ۶ سانتی متر کمتر است.



۵. طول پاک کن درنا ۳ سانتی متر است. پاک کن برنا که طولش ۲ سانتی متر بیشتر از پاک کن درنا است را بکش.

۶. ۵ مربع و مثلث روی میز هستند آنها با هم ۱۷ ضلع دارند. چند مثلث روی میز است؟



۳ (۳)

۲ (۲)

۱ (۱)

۵ (۵)

۴ (۴)

$۳+۳+۴+۴+۴ = ۱۸$ ❌

$۳+۳+۳+۴+۴ = ۱۷$ 😊

۲- حالا شما اندازه‌ی خط‌های زیر را با خط‌کش بگیرید و کنار هر کدام بنویسید.



۳- با خط‌کش خط‌هایی به طول ۴ و ۷ سانتی‌متر رسم کنید.

خلاق باش



یک ساعت را که روی طلق شفاف رسم شده است، روی گوشه‌ی یک مستطیل گذاشته‌ایم. عقربه‌ی بزرگ چند دقیقه بچرخد تا روی ضلع دیگر مستطیل قرار بگیرد؟
یک ربع یا ۱۵ دقیقه