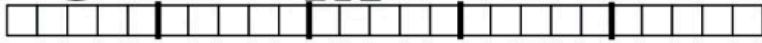


۱- طول شانه بین پاک کن و پاک کن است.

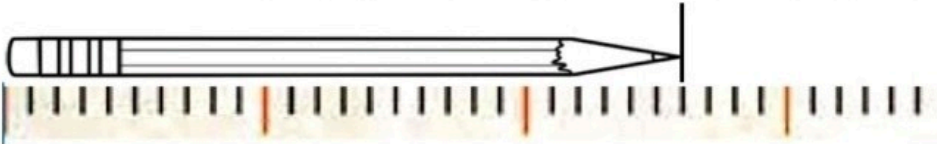


یعنی از پاک کن بیشتر است ولی به پاک کن نمی رسد.

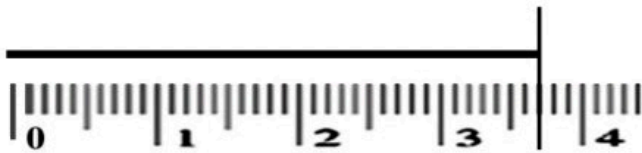
طول کلید و است.



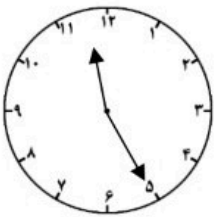
اندازه ی طول خط قسمت بزرگ و قسمت کوچک است.



اندازه ی طول خط سانتی متر و میلی متر است.

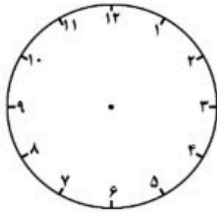


۲- ساعت چند است؟



اگر عقربه ی بزرگ نیم ساعت حرکت کند، ساعت چند می شود؟
مقدار حرکت عقربه ی بزرگ را با رنگ کردن نشان بده.

۳- اگر عقربه ی بزرگ روی ۴ دقیقه باشد،



ربع ساعت بعد عقربه روی کدام عدد قرار می گیرد؟
مقدار حرکت عقربه ی بزرگ را با رنگ کردن نشان بده.

۴- به جای عدد مناسب قرار بده. (به روش حدس و آزمایش)


$$۲۴ + \square = ۶۷$$

$$۷۵ - \square = ۳۳$$

$$۵۸ + \square = ۸۴$$

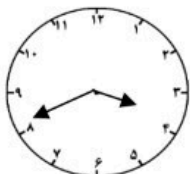
$$۴۲ - \square = ۱۷$$

۵- در مزرعه‌ای روی هم ۶ اسب و اردک وجود دارد. اگر آن‌ها روی هم ۲۰ پا داشته باشند، در این مزرعه چند اسب



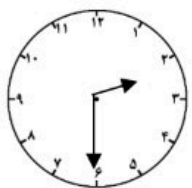
و چند اردک وجود دارد؟ (هر اسب ۴ پا و هر اردک ۲ پا دارد.)

در این مزرعه اسب و اردک است.



۶- عقربه ی بزرگ چند دقیقه حرکت کند تا ساعت ۴:۰۰ شود؟

مقدار حرکت عقربه ی بزرگ را رنگ کن.



۷- عقربه ی بزرگ چند دقیقه حرکت کند تا ساعت ۲:۵۰ شود؟

مقدار حرکت عقربه ی بزرگ را با رنگ کردن نشان بده.

۸- با مداد قرمز و خطکش یک خط به طول ۴۳ میلی‌متر و با مداد سبز یک خط به طول ۸ سانتی‌متر و ۲ میلی‌متر

رسم کن.

۹- جاهای خالی را کامل کن.

هر سانتی‌متر میلی‌متر است. ۷ سانتی‌متر میلی‌متر است.

۹۰ میلی‌متر سانتی‌متر است. ۷۳ میلی‌متر سانتی‌متر و میلی‌متر است.

۵ سانتی‌متر و ۶ میلی‌متر، میلی‌متر است. ۲ سانتی‌متر و ۴ میلی‌متر، میلی‌متر است.

۱۰- مینا طول دفتر ریاضی خود را اندازه گرفت. به نظر تو کدام یک از اعداد زیر می‌تواند اندازه‌ی دفتر او باشد؟

۱۶ میلی‌متر

۲۵ میلی‌متر

۵۰ سانتی‌متر

۲۲ سانتی‌متر

۱۱- برادر کوچک رها وقتی به دنیا آمد ۴۸ سانتی‌متر بود. بعد از چهار ماه قد او ۶۵ سانتی‌متر شد. قد برادر رها

نسبت به زمان تولد چند سانتی‌متر بلندتر شده است؟

.....