



موضوع: ریاضی ( فصل پنجم )

پایه دوم

نام و نام خانوادگی:

هدف: تکرار و تمرین

آموزگار: خانم کاشانی

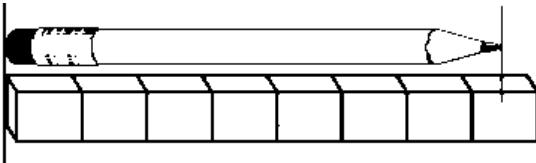
۱- جاهای خالی را کامل کنید.

\* طول قیچی ، برابر با ..... گیره است.



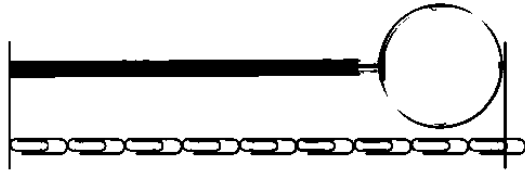
\* طول مداد بین ..... چینه و ..... چینه است. یعنی ، طول

مداد از ..... چینه بیشتر و از ..... چینه کمتر است.



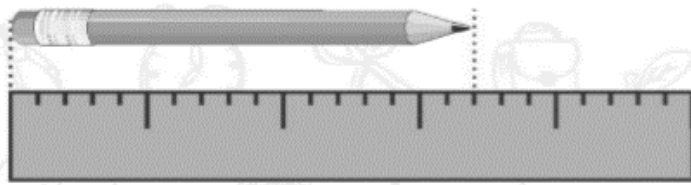
\* طول ذره بین ، بین ..... گیره و ..... گیره است. یعنی ، طول

ذره بین از ..... گیره بیشتر و از ..... گیره کمتر است.

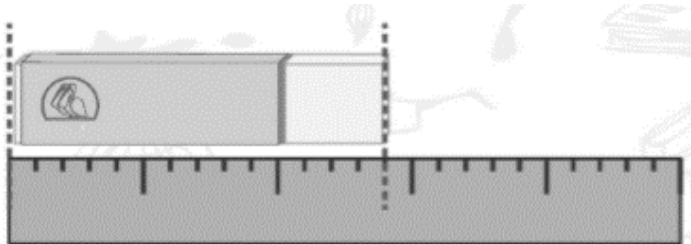


۲- همانور که مشاهده می کنید ، هر قسمت بزرگ نوار کاغذی زیر به ۵ قسمت کوچکتر تقسیم شده است.

\* اندازه ی طول نوار کاغذی ، ..... قسمت بزرگ و ..... قسمت کوچک است.



\* اندازه ی طول پاک کن ، ..... قسمت بزرگ و ..... قسمت کوچک است.



۳- به جای  عدد مناسب قرار دهید.

$$۲۲ + \square = ۶۸$$

$$۱۵ + \square = ۴۵$$