

به نام خدا

دانش آموزان عزیزم، برای حل سوالات این کاربرگ می‌توانید از سکه های خود کمک بگیرید.

همچنین نیازی به نوشتن خود سوال در دفتر مشق نیست و فقط نوشتن شماره‌ی سوال و راه حل با جواب در دفتر مشق کافی است.



سؤال شماره ی ۱




رادوین یک سکه ی ۲۵۰ ریالی داشت
و باراد ۱۰۰ ریال از او بیشتر داشت
آن ها روی هم چند ریال دارند؟



سؤال شماره ی ۲



مادر مهبد برای مهبد ۴ کتاب از کتاب فروشی خرید، او برای آن ها ۳ سکه ی ۱۰۰ ریالی و ۵ سکه ی ۱۰ ریالی به فروشنده داد. قیمت کتاب ها چقدر است؟



سؤال شماره ۳



تیام برای خودش و پوریا ۲ تابتنی
خرید. او ۲ سکه ۲۵۰ ریالی به
فروشنده داد و ۱ سکه ۱۰۰ ریالی
و ۱ سکه ۵۰ پس گرفت. پول
بستنی ها چقدر شده است؟



سؤال شماره ۴




دایی علی برای ماهان یک بسته شکلات خرید و ۲ سکه ۱۰۰ ریالی و ۴ سکه ۵۰ ریالی و ۱۰ سکه ۱۰ ریالی ده ریالی داد و برای خودش ۱ سکه ۲۵۰ ریالی باقی ماند. دایی علی روی هم چقدر پول داشته است؟



سؤال شماره ۵



امیر کیان تصمیم گرفت برای برادرش برهان یک توپ فوتبال بخرد. قیمت توپ ۷۰۰ ریال بود ولی امیر کیان ۴ سکه ۱۰۰ ریالی و ۳ سکه ۵۰ ریالی داشت. او برای خرید توپ چند ریال کم داشت؟



سؤال شماره ی ۶



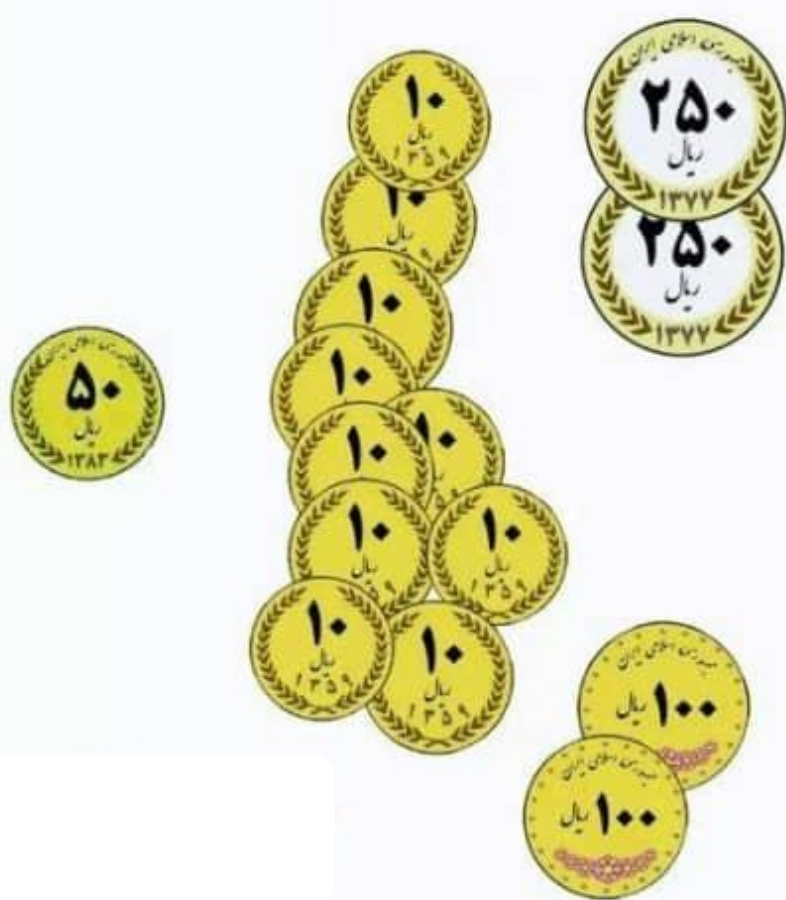
آرتین ۱۰ اسکه ی ۱۰ ریالی وامیرسام ۱۰۰ اسکه ی ۱ ریالی و پوریا ۲ اسکه ی ۵۰ ریالی بردند بانک .
به نظر شما به جای این اسکه ها از بانک چند
سکه ی ۱۰۰ ریالی می توانند بگیرند؟



سؤال شماره ۷



علیسان از پدرش ۱ سکه ۵۰ ریالی و
۱ سکه ۱۰ ریالی و ۲ سکه ۲۵۰ ریالی
گرفت. روز بعد پدرش ۲ سکه ۱۰۰ ریالی
دیگر به او داد ولی ۱ سکه ۲۵۰ ریالی را
پس گرفت. الان علیسان چند ریال دارد؟



سؤال شماره ۸



پوریا و آرتین تصمیم گرفتند یک کتاب علمی بخرند آنها پولهایشان را روی هم گذاشتند. ۴ سکه ۱۰۰ ریالی و ۴ سکه ۵۰ ریالی داشتند ولی قیمت کتاب ۸۰۰ ریال بود آن ها چقدر پول کم داشتند؟



سؤال شماره ی ۹



رادین ۵ سکه ی ۱۰۰ ریالی و ۱۰ سکه ی ۱۰ ریالی به مادرش داد. بعد از دو روز پول خودش را به اضافه ی ۳ سکه ی ۵۰ ریالی پس گرفت. رادین الان چند ریال دارد؟



موفق باشید

پایان

