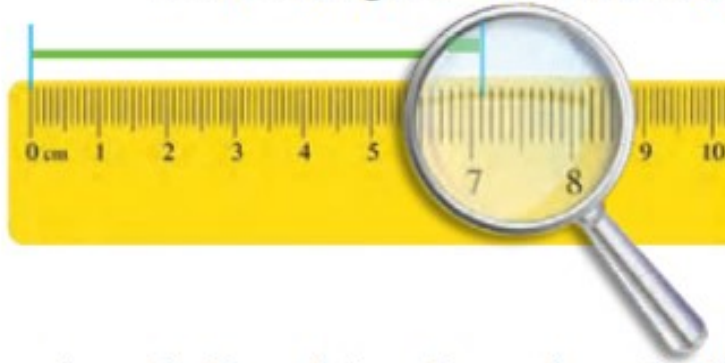


واحد میلی متر



فاطمه با خط کش خط زیر را اندازه گرفت و نوشت:
اندازه‌ی خط از ۷ سانتی متر بیشتر و از ۸ سانتی متر کمتر است.



سپس به یاد نوار کاغذی خود افتاد که هر قسمت را به ۱۰ قسمت کوچک تر تقسیم کرده بود. وقتی به خط کش نگاه کرد، دید هر سانتی متر به ۱۰ قسمت مساوی تقسیم شده است.

حالا او اندازه‌ی خط را به صورت زیر بیان کرد.



اندازه‌ی خط ۷ سانتی متر و ۱ قسمت کوچک است.

شما با خط کش اندازه‌ی خط‌ها را بگیرید و جمله‌ی زیر آن را کامل کنید.

اندازه‌ی خط ۸ سانتی متر و ۸ قسمت کوچک است.

اندازه‌ی خط ۱۰ سانتی متر و ۷ قسمت کوچک است.


برای این که اندازه‌گیری‌ها دقیق تر شود، هر سانتی متر را به ۱۰ قسمت مساوی تقسیم کرده‌اند و نام آن‌ها را میلی متر گذاشته‌اند.



کار در کلاس

م	س	م	م
۱	۱	۱	۱
۱	۱	۲	۲
۱	۱	۹	۹
۲	۲	۰	۰

۱- از عدد صفر خط کش شروع به شمردن قسمت‌های کوچک کنید. ۵۷



۱۰ میلی‌متر همان یک سانتی‌متر است.
حالا شمردن را ادامه دهید.

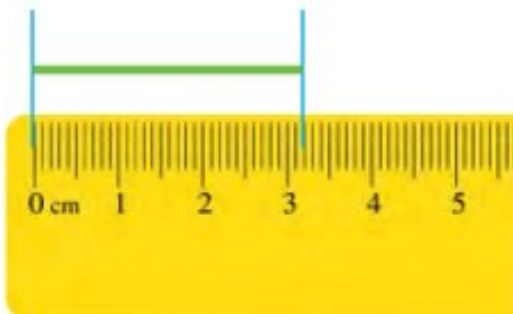
۱۱ میلی‌متر یعنی همان ۱ سانتی‌متر و ۱ میلی‌متر است.

۱۲ میلی‌متر همان ۱ سانتی‌متر و ۲ میلی‌متر است.

نوزدهمین قسمت یعنی ۱۹ میلی‌متر یعنی ۱ سانتی‌متر و ۹ میلی‌متر است.

اگر یک قسمت دیگر جلو بروید، به ۲۰ میلی‌متر یا همان ۲ سانتی‌متر می‌رسید.

۲- اندازه‌ی خط زیر ۳ سانتی‌متر و ۲ میلی‌متر یا ۳۲ میلی‌متر است.



۳- درازا و پهنای کتاب ریاضی خود را دوباره اندازه بگیرید و با واحد میلی‌متر بنویسید.

درازای کتاب ریاضی ۲۶۸ میلی‌متر و پهنای کتاب ریاضی ۱۹۹ میلی‌متر است.

۴- طول پاک‌کن را با خط کش اندازه بگیرید و به دو صورت زیر بنویسید.

اندازه‌ی پاک‌کن _____ سانتی‌متر و _____ میلی‌متر است.

یا

اندازه‌ی پاک‌کن _____ میلی‌متر است.

