



نادرست



درست



۱. درست یا نادرست بودن هر جمله را مشخص کن.

الف) ۷ واحد بزرگ و ۱ واحد کوچک خطکش ۷۱ میلی‌متر می‌شود.

ب) ۹۶ میلی‌متر از ۸ سانتی‌متر و ۲ میلی‌متر کمتر است.

پ) ۶۸ میلی‌متر یعنی ۶ سانتی‌متر و ۸ میلی‌متر.

۲. جاهای خالی را کامل کن.

الف) ۱۵ میلی‌متر یعنی ..... ۱ ..... سانتی‌متر و ..... ۵ ..... میلی‌متر.

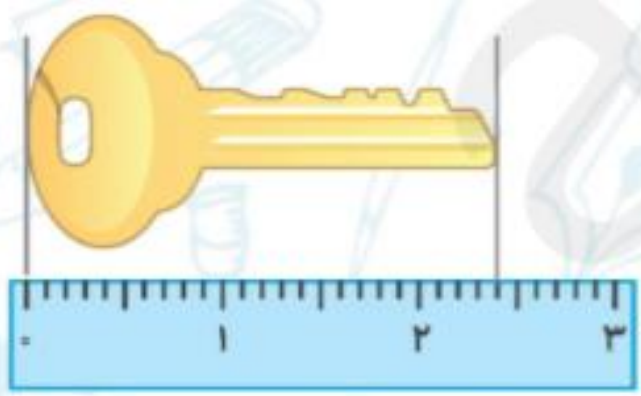
ب) ۲۶ میلی‌متر یعنی ..... ۲ ..... سانتی‌متر و ..... ۶ ..... میلی‌متر.

پ) ۷۲ میلی‌متر یعنی ..... ۷ ..... سانتی‌متر و ..... ۲ ..... میلی‌متر.

ت) ۳ سانتی‌متر و ۹ میلی‌متر می‌شود ..... ۳۹ ..... میلی‌متر.

ث) ۸ سانتی‌متر و ۳ میلی‌متر می‌شود ..... ۸۳ ..... میلی‌متر.

ج) ۶ سانتی‌متر و ۰ میلی‌متر می‌شود ..... ۶۰ ..... میلی‌متر.



۳. طول کلید مقابل را به دو صورت بنویس.

طول کلید: ..... ۲۴ ..... میلی‌متر است.

طول کلید: ..... ۲ ..... سانتی‌متر و ..... ۴ ..... میلی‌متر است.

۴. اگر طول یک کرم خاکی ۱۰ میلی‌متر باشد، طول کرم‌های خاکی روبه‌رو، روی هم چند سانتی‌متر است؟



.....  
..... میلی‌متر  $10 + 10 + 10 = 30$

.....  
..... ۳۰ میلی‌متر برابر است با ۳ سانتی‌متر



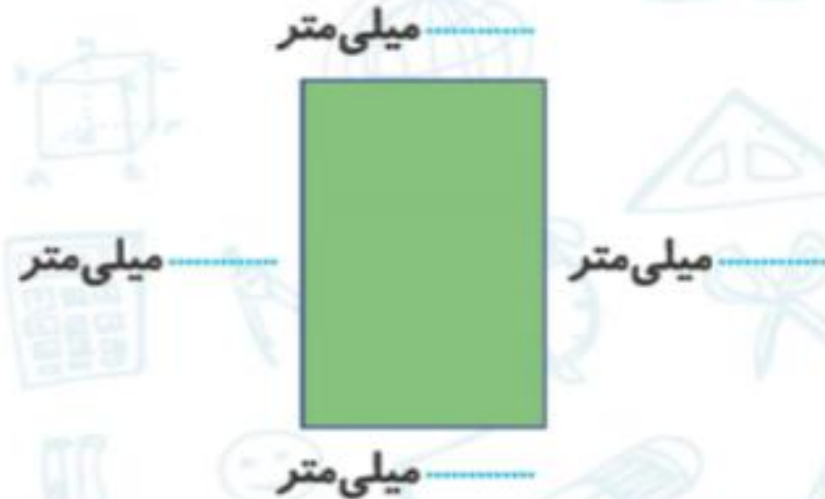
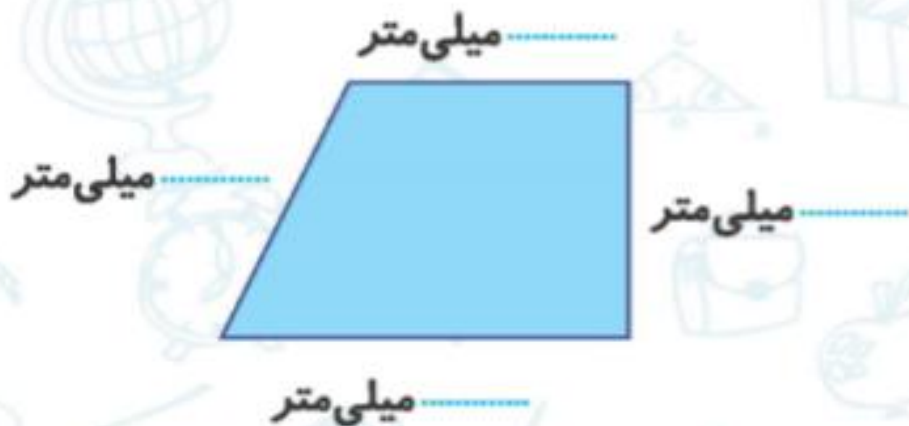
۳. اگر طول یک پاک کن ۲۰ میلی‌متر باشد، طول ۳ پاک کن چند میلی‌متر است؟



۶۰ میلی‌متر

$$20 + 20 + 20 = 60$$

۴. اندازه‌ی هر ضلع از شکل‌های زیر را بنویس.



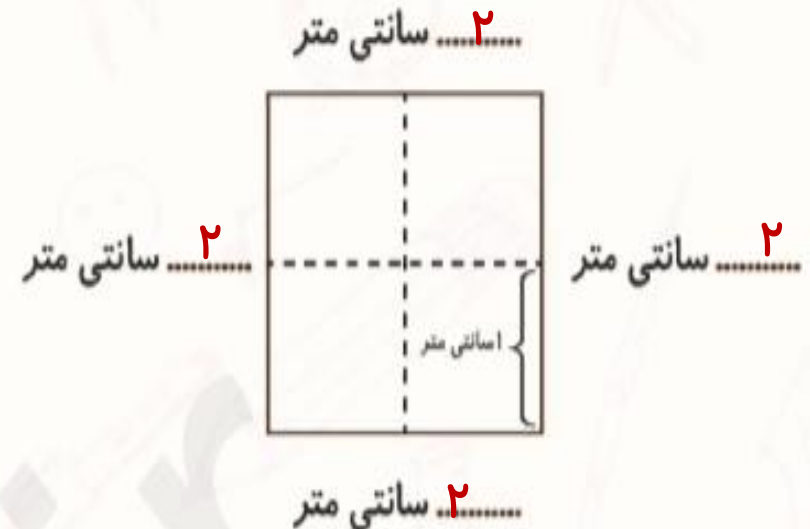
۵. مورچه‌ای دانه‌ی خود را از نقطه‌ی (۱) به نقطه‌ی (۲) برد. او چند میلی‌متر در طول مسیر حرکت پیموده

است؟



..... ۵۱ میلی‌متر


۶. اندازه‌ی هر ضلع از شکل‌های زیر چند سانتی‌متر است؟





۷. تصویر زرافه و خرس کوچولو را از انتهای کتاب کار علوی جدا کن. در زیر نام آن‌ها بچسبان و مانند نمونه قد آن‌ها را با خط‌کش اندازه‌گیری کن و بنویس.

گورخر	زرافه	خرس کوچولو
-------	-------	------------



گورخر

۷۸

طول قد: .....

طول قد: .....

طول قد: .....

