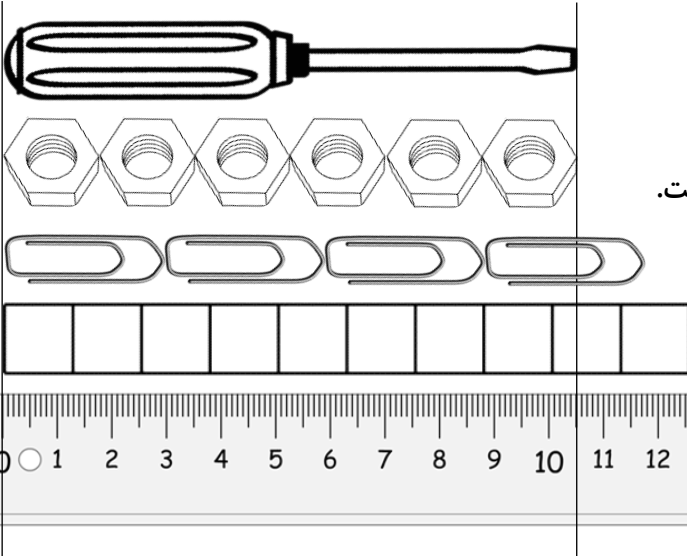




۱) طول پیچ گوشتی رو به رو با وسایل مختلف اندازه گیری شده است. با توجه به تصویر جاهای خالی را کامل کن.



الف) طول پیچ گوشتی به اندازه ی مهره است.

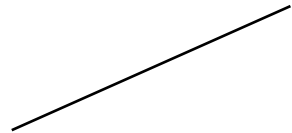
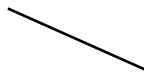

ب) طول پیچ گوشتی بین و گیره است.

پ) طول پیچ گوشتی از چینه بیشتر و از چینه کمتر است.

ج) با توجه به خط کش رو به رو طول پیچ گوشتی سانتی متر

و میلی متر است.

۲) اندازه ی هر خط را با خط کش اندازه بگیر و بنویس.



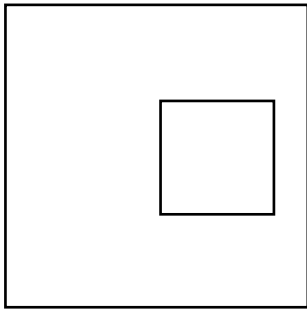
پ) سانتی متر

ب) سانتی متر

الف) سانتی متر

۳) سه خط یکی به اندازه ی ۳ سانتی متر ، یکی به اندازه ی ۸ سانتی متر و یکی به اندازه ی ۱۱ سانتی متر و ۷ میلی متر

رسم کن.



۴) ضلع های هر دو مربع را با خط کش اندازه بگیر.

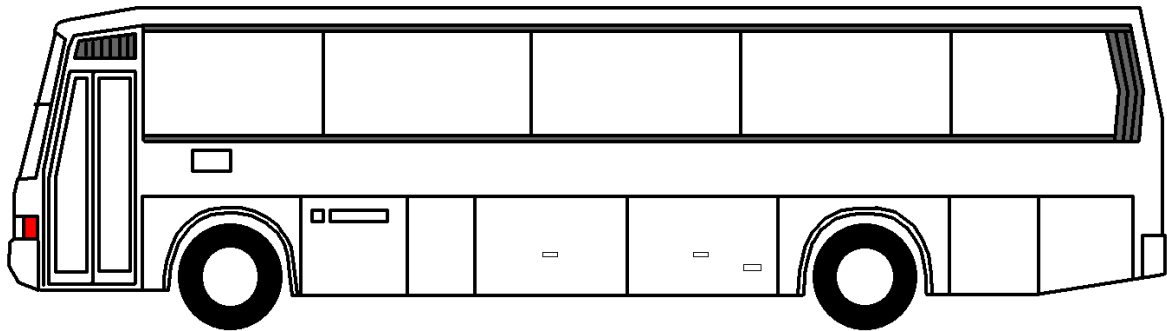
اندازه ی ضلع مربع بزرگ : سانتی متر

اندازه ی ضلع مربع کوچک : سانتی متر و میلی متر

۵) وسایل زیر را با استفاده از خط کش و با دقت اندازه بگیر. سپس اندازه ی هر وسیله را مانند نمونه بنویس. بهتر است مانند شکل اول ابتدا و انتهای هر وسیله یک خط صاف بکشی تا اندازه گیری بهتری داشته باشی.

طول مداد شمعی سانتی متر و میلی متر است.

طول کلید

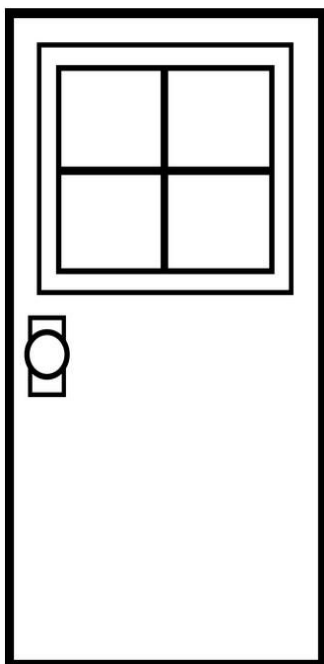


طول اتوبوس

۶) درازا و پهنای درب رو به رو را دقیق با خط کش اندازه بگیر و در پایین بنویس.

درازا :

پهنا :



درازای (طول)