

۱- عددها را با هم مقایسه کنید و در دایره علامت مناسب (<=>) بگذارید.

$24 < 27$

$324 > 29$

$17 < 19$

$100 > 91$

$201 > 99$

$351 > 247$

$200 < 400$

$298 < 301$

$420 > 417$



۲- ابتدا جمع و تفریق‌ها را انجام دهید و حاصل را کنار هر کدام بنویسید، سپس جواب‌ها را مقایسه کنید.

$500 = 200 + 300 > 300 + 100 = 400$

$60 = 20 + 40 = 80 - 20 = 60$



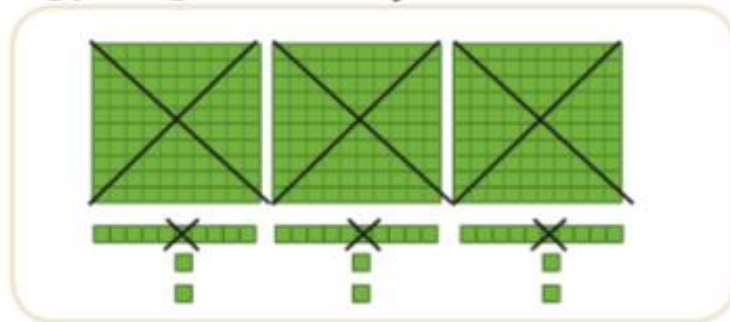
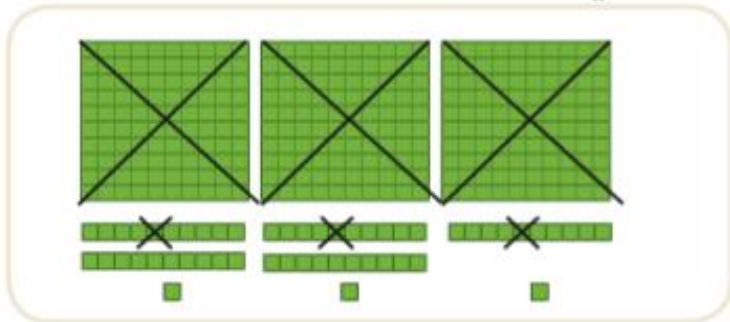
$500 = 700 - 200 = 900 - 400 = 500$

$320 = 300 + 20 > 200 + 50 = 250$

$700 = 400 + 300 < 900 - 100 = 800$

$121 = 100 + 20 + 1 > 100 + 10 + 7 = 117$

۳ - حاصل کدام عبارت بیشتر است؟ لازم نیست حاصل عبارت را به دست آورید، مانند نمونه، قسمت‌های مساوی را از دو طرف حذف کنید.



~~۳۰۰ + ۳۰ + ۳۰۰ + ۲۰۰ + ۵۰ + ۷ + ۱۰~~



~~۲۰۰ + ۲۰ + ۳۰ + ۸ + ۴۰ + ۲۰۰~~



۱. جاهای خالی را با کلمات کمتر و بیشتر کامل کن.

الف) درنا ۵۸ کتاب و برادرش ۳۹ کتاب دارد. تعداد کتاب‌های درنا بیشتر از تعداد کتاب‌های برادرش است.

ب) در گلخانه‌ی رز ۱۳۵ گل و در گلخانه‌ی یاس ۱۴۷ گل پرورش داده شده است.

تعداد گل‌های پرورش یافته در گلخانه‌ی رز کمتر از تعداد گل‌های پرورش یافته در گلخانه یاس است.



۲. درست یا نادرست بودن هر جمله را مشخص کن.

الف) ارزش رقم صدگان کمتر از دهگان است.

ب) عدد ۳۵۲ کمتر از ۳۵۰ است.

پ) یکی از روش‌های مقایسه‌ی دو عبارت، حذف قسمت‌های

مساوی دو طرف است.



۳. پاسخها را در دو طرف عبارت با هم مقایسه کن و علامت $<=>$ بگذار.

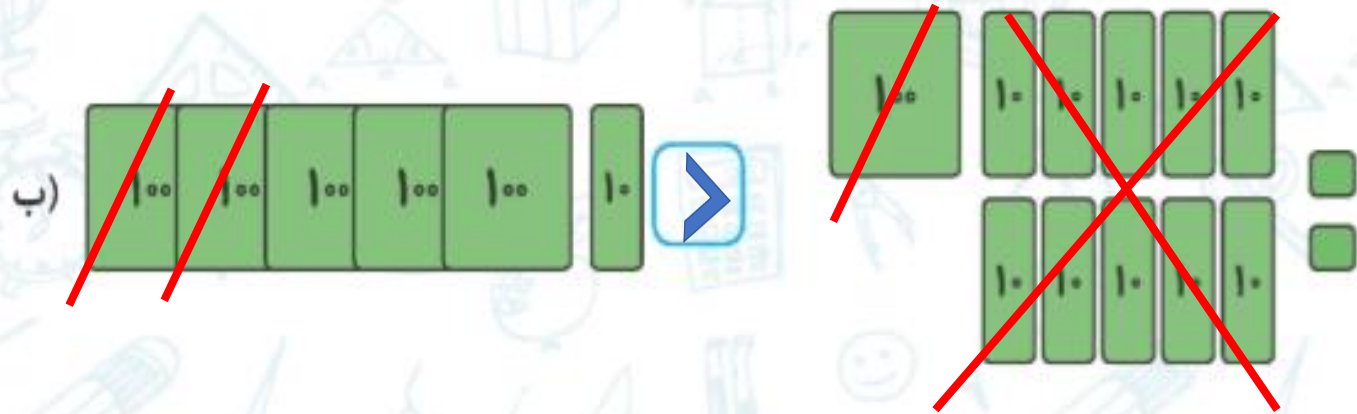
$$400 + 400 > 800 - 200$$

$$500 + 200 > 500 - 200$$

$$100 + 100 + 200 < 200 + 300$$

$$700 - 400 = 100 + 100 + 100$$

۴. با حذف قسمت‌های مساوی علامت $<=>$ بگذار.



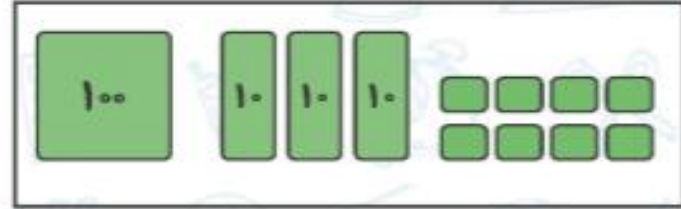
تمرین



۱. عددی را که هر شکل نشان می‌دهد بنویس، سپس با هم مقایسه کن و علامت $<$ $=$ $>$ بگذار.



۲۳۸



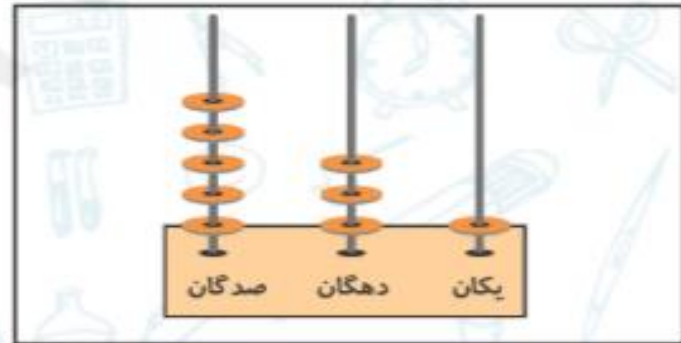
۱۳۸



۱۷۰



۴۳۰



۱۳۰

