

۱. جاهای خالی را با کلمات کمتر و بیشتر کامل کن.

الف) درنا ۵۸ کتاب و برادرش ۳۹ کتاب دارد. تعداد کتاب‌های درنا بیشتر از تعداد کتاب‌های برادرش است.

ب) در گلخانه‌ی رز ۱۳۵ گل و در گلخانه‌ی یاس ۱۴۷ گل پرورش داده شده است.

تعداد گل‌های پرورش یافته در گلخانه‌ی رز کمتر از تعداد گل‌های پرورش یافته در گلخانه یاس است.



۲. درست یا نادرست بودن هر جمله را مشخص کن.

الف) ارزش رقم صدگان کمتر از دهگان است.

ب) عدد ۳۵۲ کمتر از ۳۵۰ است.

پ) یکی از روش‌های مقایسه‌ی دو عبارت، حذف قسمت‌های

مساوی دو طرف است.

۳. پاسخ‌ها را در دو طرف عبارت با هم مقایسه کن و علامت $< = >$ بگذار.

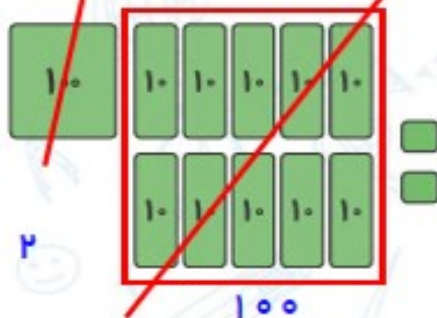
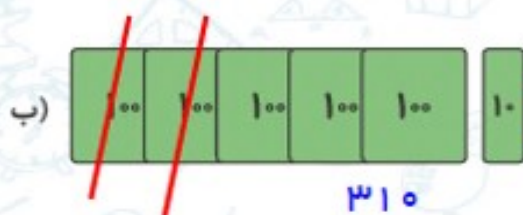
$$400 + 400 > 800 - 200$$

$$100 + 100 + 200 < 200 + 300$$

$$500 + 200 > 500 - 200$$

$$700 - 400 = 100 + 100 + 100$$

۴. با حذف قسمت‌های مساوی علامت $< = >$ بگذار.

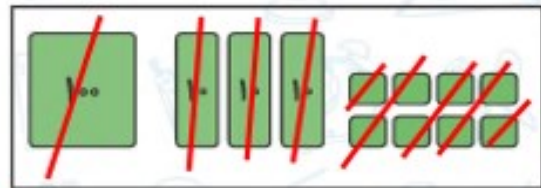
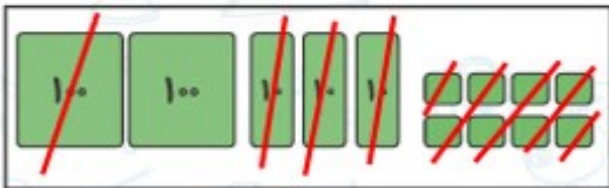




تمرین



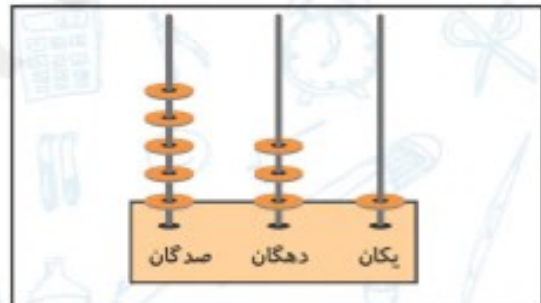
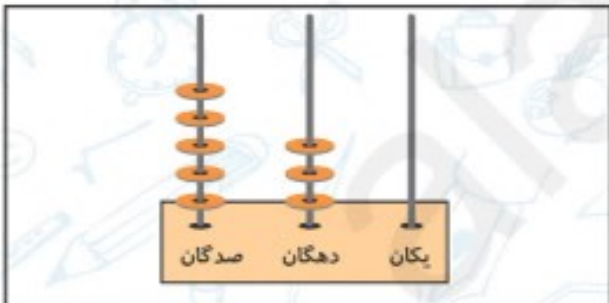
۱. عددی را که هر شکل نشان می‌دهد بنویس، سپس با هم مقایسه کن و علامت $<=>$ بگذار.



$238 > 138$



$170 < 430$



$530 < 531$

۲. هر دو عدد را با هم مقایسه کن، سپس در جای خالی علامت $<=>$ بگذار.

$200 < 202$

$708 < 735$

$185 < 189$

$507 > 499$

$380 > 308$

$98 < 107$

$214 < 314$

$417 > 407$

$305 > 35$



۳. تا جایی که می‌توانی دسته‌های ده‌تایی و صدتایی درست کن. سپس عدد مناسب را داخل جدول بنویس.



۱۰

صدگان	دهگان	یکان
۵	۵	۶



صدگان	دهگان	یکان
۳	۱	۵

۴. پول برنا چند ریال بیشتر از پول درنا است؟



$$۱۲ - ۵ = ۷$$

پول برنا

۸ (۴)

۱۲ ریال

۱۰ (۳)

۵ ریال

پول درنا

۶ (۳)

۷ (۱)

۵. کدام عبارت عددی زیر صحیح است؟

(۲) $۹۶۸ < ۶۸۹$

(۴) $۹۶۸ = ۶۸۹$

(۱) $۹۶۸ < ۶۹۸$

(۳) $۹۶۸ > ۶۸۹$






۶. در کدام یک از دسته‌های زیر، عددها از چپ به راست و از بزرگ‌ترین به کوچک‌ترین مرتب شده‌اند؟

۸۷، ۶۶، ۴۳، ۳۶ (۴) ۸۷، ۶۶، ۳۶، ۴۳ (۳) ۶۶، ۴۳، ۳۶، ۸۷ (۲) ۳۶، ۴۳، ۶۶، ۸۷ (۱)

۷. از سگ‌های انتهای کتاب کار علوی جدا کن، در جای خود بچسبان و در علامت مناسب \leq یا \geq بگذار.

۴۳۴ ریال

۳۲۱ ریال



۱۳۲

سگ شفیق

بازی کنید.

قوانین بازی: فانه‌ها را طوری رنگ کنید که عدد ۱۵ به دست آید. می‌توانید این بازی را به صورت دو نفره انجام دهید. هر بازیکن باید فقط از یک رنگ مدار رنگی استفاده کند. فردی برنده است که با رنگ کردن بیشترین فانه‌ها عدد ۱۵ را به دست آورده باشد.



۷	۲	۶	۱	۴
۳	۷	۹	۵	
۴	۵	۳	۵	۳
۱	۴	۹	۸	
۲	۸	۴	۱	۲

