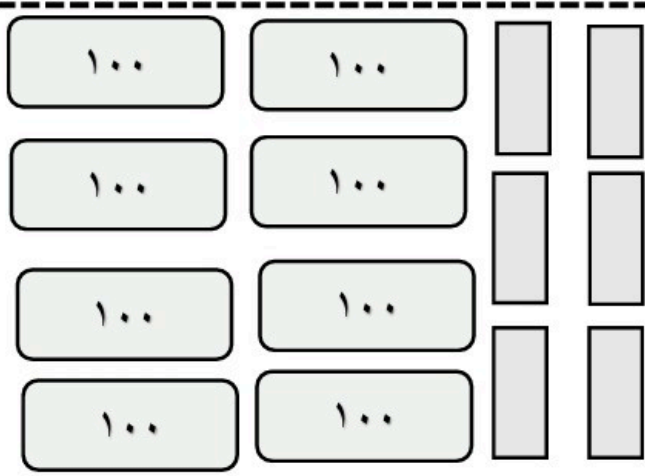


* عزیزم با کمک شکل ها و باز کردن دسته های ده تایی و صد تایی تفریق های زیر را انجام بده.

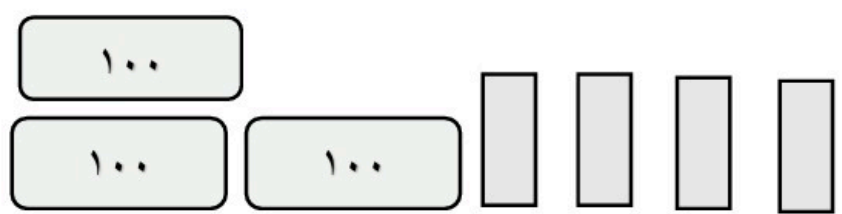
۱۰۰	۱۰۰					□	۴ ۸ ۵
۱۰۰	۱۰۰					□	-
۱۰۰	۱۰۰					□	۲ ۳ ۲

۱۰۰	۱۰۰					□	۶ ۵ ۲
۱۰۰	۱۰۰					□	-
۱۰۰	۱۰۰					□	۱ ۳ ۸
۱۰۰	۱۰۰					□	-----

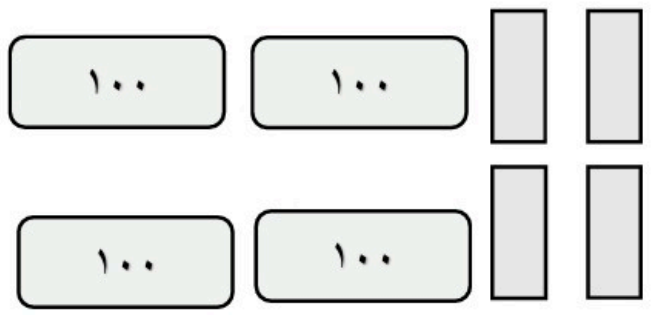
۱۰۰	۱۰۰						۸ ۳ ۱
۱۰۰	۱۰۰					□	-
۱۰۰	۱۰۰					□	۵ ۰ ۸
۱۰۰	۱۰۰					□	-----



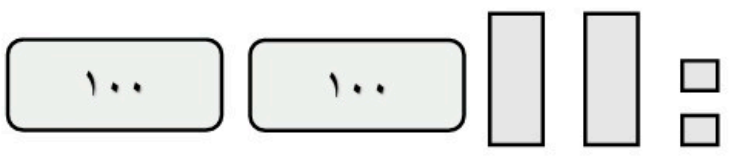
$$\begin{array}{r} 100 \\ - 400 \\ \hline \dots \end{array}$$



$$\begin{array}{r} 800 \\ - 100 \\ \hline \dots \end{array}$$



$$\begin{array}{r} 1000 \\ - 200 \\ \hline \dots \end{array}$$



$$\begin{array}{r} 1500 \\ - 100 \\ \hline \dots \end{array}$$